


# 第六单元 达标测试卷

时间:90 分钟 满分:100 分

题号	一	二	三	四	五	六	七	八	总分	智慧园
得分										

kàn tú xiě shù bìng bǐ dà xiǎo

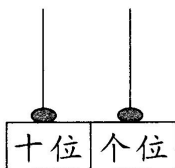
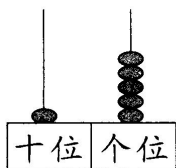
## 一、看图写数并比大小。(8 分)



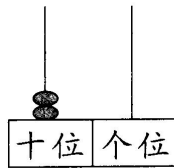
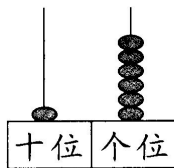
( ) ○ ( )



( ) ○ ( )



( ) ○ ( )



( ) ○ ( )

tián kòng

## 二、填空。(33 分)

### 1. (7 分)

(18) (10) (13) (16) (15) (8) (9) (17) (7)

(1) 上面一共有( )个数,最大的数是( ),最小的数是( )。

(2) 从左边数第 4 个数是( ),从右边数第 6 个数是( )。

(3) 把这些数按从大到小的顺序排列起来。

2. 20 里面有( )个十,也可以说 20 里面有( )个一。(2 分)

3. 被减数是 19,减数是 5,差是( )。(3 分)

4. 个位上是 6, 十位上是 1 的数是( ), 它读作( ), 它是由( )个一和( )个十组成的。(3 分)

5. 17 前面的一个数是( ), 后面的一个数是( )。(2 分)

6. 画一画, 再填数。(6 分)

① ○○○○○○○○○○ \_\_\_\_\_  $8 + \square = 13$

② \_\_\_\_\_ ○○○○○○○  $\square + 6 = 11$

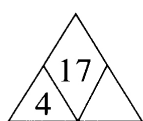
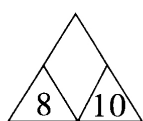
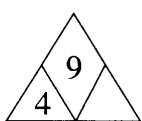
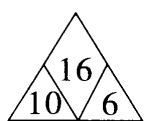
③ ○○○○○○○○○○○○○○○○○○○

去掉( )个就剩下 10 个了。(先用“\”划一划)

7. (3 分)  $8 + \square = 10$      $12 + \square = 15$      $10 + \square = 18$

8. (4 分)  $16 < \square$      $12 > \square$      $\square > 19$      $\square < 14$

9. 找规律填数。(3 分)



xiǎn zé

### 三、选择。(10 分)

1. 8 和 14 之间有( )个数。

A. 5

B. 4

C. 6

2. 两个加数都是 10, 和是( )。

A. 11

B. 10

C. 20

3. 14 后面第三个数是( )。

A. 11

B. 17

C. 18

4. 比 16 小 4 的数是( )。

A. 13

B. 12

C. 10

5. 比 12 大比 15 小的数有( )。

A. 13

B. 13, 14, 15

C. 13, 14

②请勿在试卷上做任何标记。  
③字迹清楚，卷面整洁。

重要事项

姓名

班级

学校

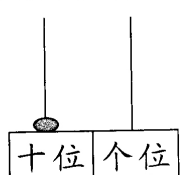
suàn yì suàn lián yì lián  
四、算一算，连一连。(10分)

$12+5$     $14+5$     $18-7$     $19-7$     $16-2$

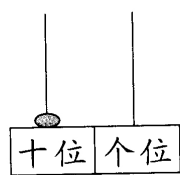
11   17   19   12   14

$15+2$     $17-6$     $18-6$     $17-3$     $13+6$

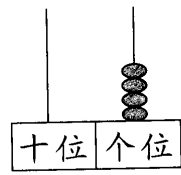
gēn jù suàn shì xiān huà yì huà zài xiě dé shù  
五、根据算式先画一画，再写得数。(8分)



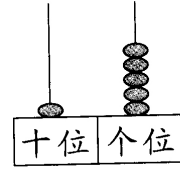
$10+10=\square$



$10+6=\square$



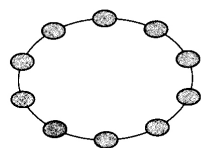
$4+12=\square$



$15-3=\square$

kàn tú liè děng shì  
六、看图列等式。(14分)

1.



$\square \bigcirc \square = \square$

$\square \bigcirc \square = \square$

$\square \bigcirc \square = \square$

$\square \bigcirc \square = \square$

2.

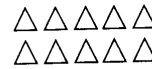


?支



14支

$\square \bigcirc \square = \square$



?个

$\square \bigcirc \square = \square$



?个

$$\square \bigcirc \square \bigcirc \square = \square (\text{个})$$

suàn yì suàn

### 七、算一算。(8分)

$10+3=$

$4+11=$

$7+3+5=$

$13-3=$

$17-0=$

$12+5-7=$

$13-10=$

$12+3=$

$13+0-3=$

$2+14=$

$15-4=$

$13+2-1=$

jiě jué wèn tí

### 八、解决问题。(9分)

1.(4分)

12月24日  
星期二



今天有雨,运动会  
推迟3天再举行。

推迟后,运动会星  
期几再举行?



2.售票处有17个人在排队,从前数,小明排第10,小芳排第15,小明和小芳之间有几? (画一画再解答)(5分)



fù jiā tí

### 九、附加题。(10分)

爬山时,聪聪前面有5人,后面有12人,这一队一共有多少人?