

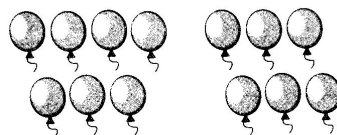
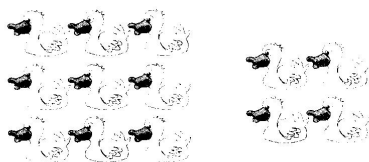
第八单元 达标测试卷

时间:90 分钟 满分:100 分

题号	一	二	三	四	五	六	七	总分	智慧园
得分									

quān yi quān suàn yi suàn

一、圈一圈，算一算。(12 分)





$$9 + 4 = \square$$

Diagram showing 9 and 4 being combined to form 10, with a box for the result.

$$7 + 6 = \square$$

Diagram showing 7 and 6 being combined to form 10, with a box for the result.



$$8 + 5 = \square$$

Diagram showing 8 and 5 being combined to form 10, with a box for the result.

$$6 + 5 = \square$$

Diagram showing 6 and 5 being combined to form 10, with a box for the result.

tián kòng

二、填 空。(31 分)

1. $9 + 7 = (\quad)$, 和是()位数, 十位上是(), 表示()个();
个位上是(), 表示()个()。(4 分)

2. 用“凑十法”计算。(12 分)

$$9 + 2 = \square$$

$$7 + 8 = \square$$

$$5 + 8 = \square$$

$$8 + 6 = \square$$

$$6 + 7 = \square$$

$$9 + 9 = \square$$

3. 在 里填上适当的数。(7 分)

$$9 + \text{apple} = 17$$

$$7 + \text{apple} = 15$$

$$\text{apple} + 9 = 14$$

$$\text{apple} + 5 = 12$$

$$\text{apple} + 9 = 9$$

$$6 + \text{apple} = \text{apple}$$

4. 在 \bigcirc 里填上“+”或“-”。(8 分)

$$7 \bigcirc 6 = 13$$

$$9 \bigcirc 2 = 7$$

$$15 \bigcirc 5 = 10$$

$$7 \bigcirc 9 = 16$$

$$6 \bigcirc 4 = 10$$

$$7 \bigcirc 7 = 0$$

$$6 \bigcirc 8 = 14$$

$$8 \bigcirc 5 = 3$$

xiǎn zé

三、选择。(12 分)

1. 得数是 12 的是()。

A. $9 + 4$

B. $9 + 3$

C. $9 + 8$

2. 一共有()只 .



A. 13

B. 15

C. 17

3. 比一比: $9 + 4 \bigcirc 19 - 5$ ()。

A. $>$

B. $<$

C. $=$

4. 小红家的上面有 5 层, 下面有 8 层, 这栋楼一共有()层。

A. 13

B. 14

C. 15

5. 与 $12 + 5$ 结果相等的是()。

A. $9 + 4$

B. $9 + 8$

C. $5 + 11$

①考生要与清投石、班级和姓名。
②请勿在试卷上做任何标记。
③字迹清楚，卷面整洁。

重要事项

姓名

班级

学校

6. $\bigcirc + \triangle = 15$, $\bigcirc - \triangle = 1$, 则 $\bigcirc = (\quad)$ 。

A. 8

B. 7

C. 6

wǒ huì suàn

四、我会算。(12分)

$8+6=$

$9+4=$

$6+7=$

$5+6=$

$4+7=$

$2+9=$

$5+8=$

$6+9=$

$7+7=$

$8+9=$

$8+5=$

$4+8=$

lián yì lián

五、连一连。(8分)



$8+6$



$9+4$



$4+7$



$8+8$



$7+9$



$6+8$



$6+7$



$3+8$

zài

lǐ tián shàng

huò

六、在 \bigcirc 里填上“>”“<”或“=”。(6分)

$2+9 \bigcirc 15$

$7+6 \bigcirc 13$

$8+10-5 \bigcirc 12$

$8+7 \bigcirc 16$

$7+5 \bigcirc 11$

$8-4+9 \bigcirc 16$

jiě jué wèn tí

七、解决问题。(19分)

1. 他们一共做了多少颗☆?(3分)




我做了5颗☆。

我做了9颗呢!



$\square \bigcirc \square = \square (\text{颗})$

2. 藤上原来有多少根黄瓜?(3分)



藤上有8根黄瓜，摘下来了6根。



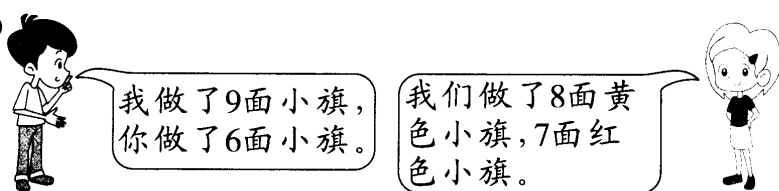
$\square \bigcirc \square = \square (\text{根})$

3. 小明和小红一共种了多少棵树？(3 分)



$$\square \bigcirc \square = \square \text{ (棵)}$$

4. (5 分)



一共做了几面小旗?

还可以怎样解答?

$$\square \bigcirc \square = \square \text{ (面)}$$

$$\square \bigcirc \square = \square \text{ (面)}$$

5. 动物运动会开始了,动物们排成一列走过主席台,其中走在老虎前面的有 7 只动物,走在老虎后面的有 5 只动物,这次走过主席台的一共有多少只动物?(画一画再解答)(5 分)

fù jiā tí

八、附加题。(10 分)

有 3 盘桃子,小明要送给爷爷、奶奶 2 盘,他可能送多少个桃子? 请把你想到的情况都写下来。

