



# 第九、十单元达标测试卷

冀教版



时间：60分钟 满分：100分+10分

题号	一	二	三	四	五	六	七	附加题	总分
得分									

sòng xiǎo huā huí jiā

## 一、送小花回家。(共16分)



$20 - 7 =$

$7 + 12 =$

$14 - 7 =$

$30 - 4 =$

$7 + 2 =$

$9 + 5 =$

$8 - 4 =$

$21 - 10 =$

$14 - 5 =$

$23 - 14 =$

$17 - 9 =$

$30 - 8 =$

$23 - 10 =$

$29 + 1 =$

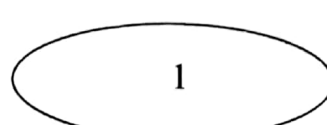
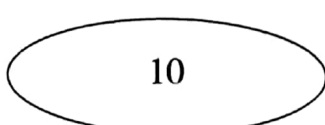
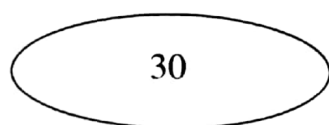
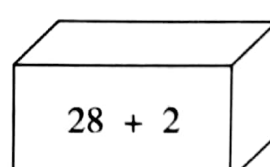
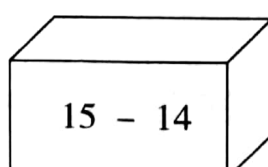
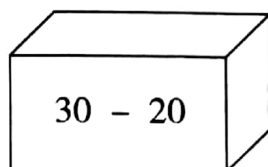
$18 - 16 =$

$25 - 17 =$



lián xiàn

## 二、连线。(共6分)



## 三、我会算。(共9分)

$9 - 7 + 12 =$

$7 + 8 - 6 =$

$9 + 10 - 11 =$

$7 + 23 - 16 =$

$8 + 9 - 10 =$

$14 - 7 - 7 =$

$6 + 9 - 8 =$

$9 + 14 + 7 =$

$9 + 8 + 1 =$

xiǎng yì xiǎng tián yì tián

## 四、想一想,填一填。(共9分)

$$\begin{array}{c} 23 - 9 = \square \\ \swarrow \quad \searrow \\ \square \quad \square \end{array}$$

$$\begin{array}{c} 7 - 6 + 14 = \square \\ \downarrow \\ \square \end{array}$$

$$\begin{array}{c} 25 - 14 = \\ \swarrow \quad \searrow \\ \square \quad \square \end{array}$$

bǐ jiào dà xiǎo

## 五、比较大小。(共16分)

$8 + 7 \bigcirc 8 - 7$

$30 - 24 \bigcirc 15 - 4$

$7 + 8 \bigcirc 30 - 21$

$8 - 4 \bigcirc 16 - 12$

$27 - 6 \bigcirc 7 - 1$

$10 - 3 \bigcirc 22 - 8$

zài kuò hào lǐ tián shàng hé shì de shù

## 六、在括号里填上合适的数。(共12分)

1.  $(\quad) + 5 = 13$

$6 + (\quad) = 15$

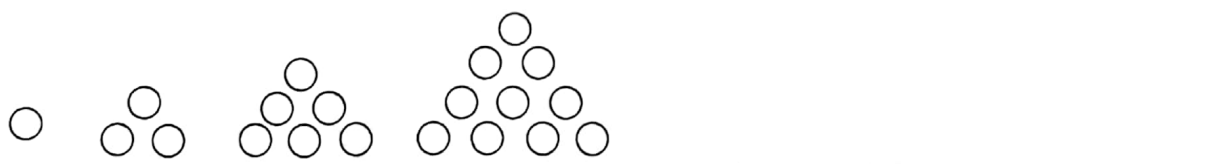
$(\quad) - 7 = 10 + 2$

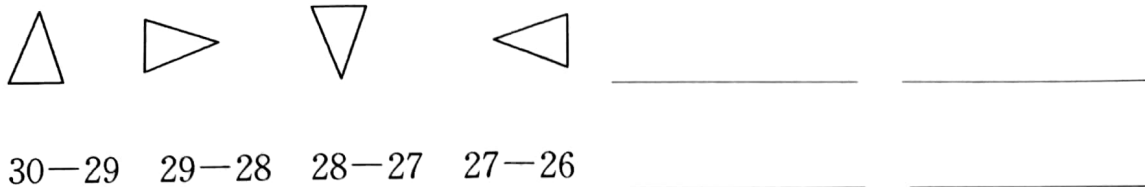
$9 + (\quad) = 14$

$16 - (\quad) = 6$

$12 + 3 = (\quad) + 8$

## 2. 找规律。(6分)





jiě jué wèn tí  
七、解决问题。(共 32 分)

1. 在一辆车上,到站后,车上有 7 人下车,10 人上车。那么车上到底增加了多少人?(5 分)

2. 中午 19 度,下午下降了 7 度。下午多少度?(6 分)

3. 一个水杯里有 12 升水,2 天蒸发了 4 升水。问:水杯里还有几升水?(5 分)



4. 一块农田,有 12 公顷。第一次铲了 2 公顷,第二次铲了 3 公顷,第三次铲了 6 公顷。最后还有几公顷没铲?(6 分)
5. 游乐园里有 30 人,因中天气炎热,走了 20 人,那么游乐园里有多少人?(5 分)
6. 小兔贝贝和妈妈去拔萝卜,妈妈给贝贝 5 个萝卜,贝贝就有 13 个了。问:贝贝拔了几个萝卜?(5 分)

**附加题。(10 分)**

小红和小明住在同一栋里,小红住 7 楼,小明住 19 楼。他们隔了几层楼?

