


## 第七、八单元测试卷



(时间:60 分钟 满分:100 分)

题 号	一	二	三	四	五	六	七	总 分
得 分								

## 一、填空题。(每空 1 分,共 23 分)

- $7+7+7$ ,表示( )个( )相加,等于( )或( )。
- 除数是 4,被除数是 32,商是多少? 列式为( )。
- 8 的 7 倍是( ),( )的 6 倍是 54。
- 一个乘数是 7,另一个乘数是 9,积是( )。
- 把 18 个  平均分成 3 份,每份是( )个;如果平均分成 2 份,每份是( )个。
- 找规律,看谁跳得快。
  - $0 \rightarrow 7 \rightarrow ( ) \rightarrow 21 \rightarrow ( ) \rightarrow ( ) \rightarrow ( )$   
 $\rightarrow ( ) \rightarrow ( ) \rightarrow ( )$
  - $0 \rightarrow 9 \rightarrow 18 \rightarrow ( ) \rightarrow ( ) \rightarrow ( ) \rightarrow ( )$   
 $\rightarrow ( ) \rightarrow ( ) \rightarrow 81$

## 二、判断题。(对的打“√”,错的打“×”)(10 分)

- $7 \times 8$  与  $8 \times 7$  表示的意义相同。( )
- 两个乘数都是 8,积是 16。( )
- 在计算  $4 \times 7 = 28$  和  $28 \div 7 = 4$  时,用的是同一句乘法口诀。( )
- 9 的 3 倍与  $3 \times 9$  结果相同。( )
- 48 个小朋友排队,排成 6 排,每排 9 人。( )

## 三、选择题。(10 分)

- 积不是 36 的算式是( )。  
 A.  $6 \times 6$                       B.  $4 \times 9$                       C.  $5 \times 4$



2. 8 个星期是( )天。

A. 48

B. 40

C. 56

3. 3 的( )倍是 27。

A. 9

B. 8

C. 7

4. 一个小朋友吃 4 块糖,照这样计算,7 个小朋友吃( )块糖。

A.  $4 \times 7 = 28$

B.  $4 + 7 = 11$

C.  $7 - 4 = 3$

5. 一双布鞋 8 元,一双皮鞋的价格是一双布鞋价格的 7 倍,布鞋比皮鞋便宜( )元。

A. 56

B. 48

C. 64

四、帮助小动物找到自己的家。(连一连)(6 分)



$$4 \times 7$$



$$30 \div 6$$

$$72 \div 9$$



$$5 \times 8$$

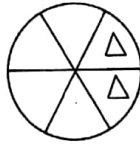
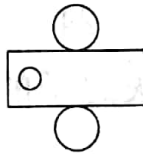
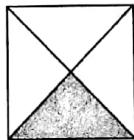
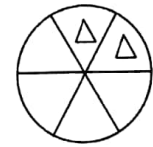
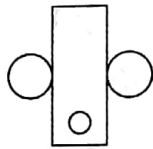
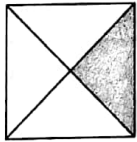
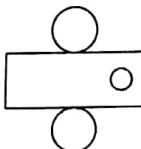
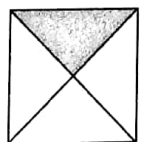
$$48 \div 8$$



$$7 \times 9$$



五、找规律,接着画一画。(9 分)



\_\_\_\_\_

\_\_\_\_\_

\_\_\_\_\_

六、计算题。(14 分)

1. 在括号里填上恰当的数。(8 分)

$$63 \div 7 = 3 \times ( )$$

$$20 \div 5 = 2 \times ( )$$

$$27 \div ( ) = 45 \div 5$$

$$2 \times ( ) = 24 \div 4$$

$$18 \div 9 = ( ) \div 4$$


$$4 \times 9 = 6 \times ( )$$

$$2 \times 4 = 72 \div ( )$$

$$2 \times 6 = 3 \times ( )$$



## 2. 看图列式计算。(6 分)



$$3 \times 7 = \square$$

$$\square \div \square = \square$$

$$\square \div \square = \square$$








$$8 \times 4 = \square$$


$$\square \div \square = \square$$


$$\square \div \square = \square$$

## 七、解决问题。(28 分)

### 1. 算一算。(6 分)


 有6只。	 的只数是  的6倍。	 的只数是  的9倍。
--	---	---

(1)  有多少只? (2 分)

(2)  有多少只? (4 分)

### 2. 广场上有 8 只灰鸽子。24 只白鸽子。(6 分)

(1) 白鸽子的只数是灰鸽子的几倍? (3 分)



(2) 这些鸽子一共需要多少间鸽舍? (3 分)



3. 亮亮和丽丽计划在假期学习国学,背诵经典。(10 分)

(1)



我每天背2句《论语》中的句子,5天能背多少句?

亮亮

(2)



我每星期学会4首唐诗,那么一个假期(按8个星期计算)能学会多少首唐诗?

丽丽

你们做得真好!学习知识贵在坚持啊!



李老师

4. 要使每行、每列都分别有四只不同的小羊,空白处应站哪只小羊?(6 分)

