

# 第一单元测试卷



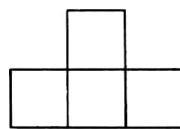
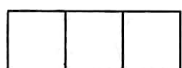
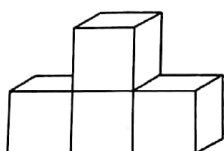
(时间:60 分钟 满分:100 分)

题 号	一	二	三	四	五	六	七	总 分
得 分								

## 一、填一填。(12 分)

下面各幅图分别是从哪里看到的图形?

1.

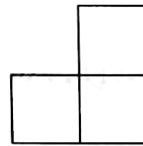
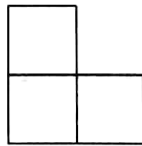
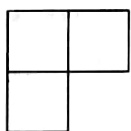
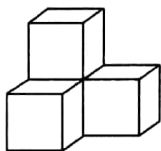


( )面

( )面

( )面

2.



( )面

( )面

( )面

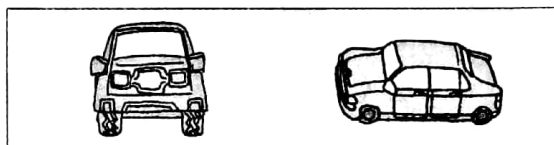
## 二、请你在小明看到的图的下面画△,在小红看到的图的下面画○。(8 分)



小明



小红



( )

( )




小明



小红



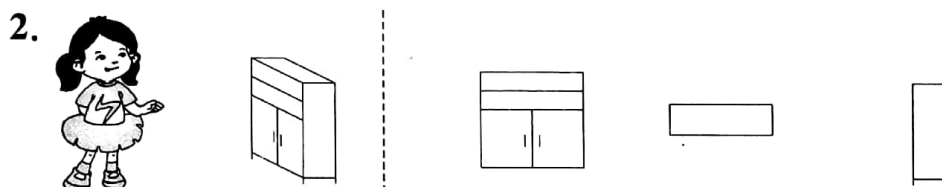
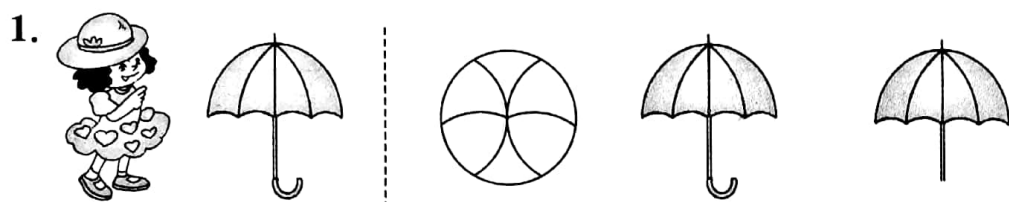
( )



( )






### 三、小朋友看到的是哪一面？给正确的图形涂上颜色。（12分）






### 四、连一连。（12分）

1. 下面的照片分别是谁拍的？连一连。（6分）



2. 下面有三幅图,你能根据图中景物判断分别是什么时刻吗?(连一连)

(6 分)




早晨

傍晚

中午

五、想一想,填一填。(12 分)



1的对面是3, 2的对面是4, 5的对面是6。



1. 小刚看到的数字是: \_\_\_\_\_
2. 小芳看到的数字是: \_\_\_\_\_
3. 小明看到的数字是: \_\_\_\_\_

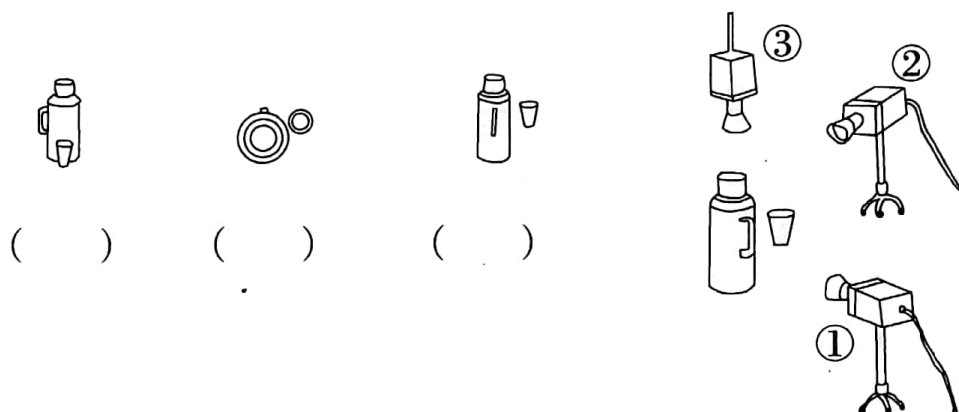
六、在右边的方格图里画出从前面、侧面、后面看到的左面物体的形状。(12 分)

	前面	侧面	后面																																				
1.	<table border="1" style="width: 100%; height: 100px; border-collapse: collapse;"> <tr><td></td><td></td><td></td><td></td></tr> <tr><td></td><td></td><td></td><td></td></tr> <tr><td></td><td></td><td></td><td></td></tr> </table>													<table border="1" style="width: 100%; height: 100px; border-collapse: collapse;"> <tr><td></td><td></td><td></td><td></td></tr> <tr><td></td><td></td><td></td><td></td></tr> <tr><td></td><td></td><td></td><td></td></tr> </table>													<table border="1" style="width: 100%; height: 100px; border-collapse: collapse;"> <tr><td></td><td></td><td></td><td></td></tr> <tr><td></td><td></td><td></td><td></td></tr> <tr><td></td><td></td><td></td><td></td></tr> </table>												
2.	<table border="1" style="width: 100%; height: 100px; border-collapse: collapse;"> <tr><td></td><td></td><td></td><td></td></tr> <tr><td></td><td></td><td></td><td></td></tr> <tr><td></td><td></td><td></td><td></td></tr> </table>													<table border="1" style="width: 100%; height: 100px; border-collapse: collapse;"> <tr><td></td><td></td><td></td><td></td></tr> <tr><td></td><td></td><td></td><td></td></tr> <tr><td></td><td></td><td></td><td></td></tr> </table>													<table border="1" style="width: 100%; height: 100px; border-collapse: collapse;"> <tr><td></td><td></td><td></td><td></td></tr> <tr><td></td><td></td><td></td><td></td></tr> <tr><td></td><td></td><td></td><td></td></tr> </table>												




# 七、按要求做一做。(32 分)

1. 下面的暖水瓶和水杯分别是 从哪个方位看到的, 将相应的序号填在括号里。(6 分)



2. 下面的两道算式是谁列出来的?(12 分)



①  $4 \times 3 = 12$  (块)      ②  $2 \times 3 = 6$  (块)  
(      )      (      )

3. 观察物体, 写出观察角度。(14 分)

