



第二单元测试密卷

时间：70 分钟 满分：100 分

| 题号 | 一 | 二 | 三 | 四 | 五 | 六 | 七 | 总分 |
|----|---|---|---|---|---|---|---|----|
| 得分 | | | | | | | | |

一、想一想,填一填。(14 分)

1. 连加、连减和加减混合算式,按照()的顺序计算。

2. 把下列每组的两个算式合并成一个算式。

$$32+41=73 \quad 73+20=93 \quad \underline{\hspace{2cm}}$$

$$84-15=69 \quad 69+31=100 \quad \underline{\hspace{2cm}}$$

$$24+38=62 \quad 62-50=12 \quad \underline{\hspace{2cm}}$$

3. 三个数相加的结果是 63,其中两个数分别为 24 和 19,第三个数是()。

4. 72 减去 34 后,再减去 26,结果是()。

5. 王立有奥特曼大卡 36 张,李明比王立少 8 张,他俩一共有()张奥特曼大卡。

二、精挑细选。(把正确答案的序号填在括号里)(8 分)

1. 42 先加上 18,再减去 15,列出算式是()。

A. $42+18-15$

B. $42+18+15$

C. $42-18-15$

2. 第一个加数是 26,第二个加数和第三个加数都是 20,他们的和是()。

A. 46

B. 66

C. 56



3. 在一道减法算式中,被减数是 90,两个减数均是 35,差是()。

A. 30

B. 40

C. 20

4. 育英小学二年级有 3 个班,一班有 31 人,二班有 38 人,三班有 29 人,3 个班一共有()人。

A. 88

B. 98

C. 78

三、认真计算。(30 分)

1. 口算小超人。(10 分)

$50+20+3=$

$35+(5+11)=$

$20+42+15=$

$78-(16+20)=$

$74-30-18=$

$69-15-19=$

$15+4-15=$

$27+(30-20)=$

$39+11-30=$

$66-(33+22)=$

2. 用竖式计算。(12 分)

$91-(38+29)=$

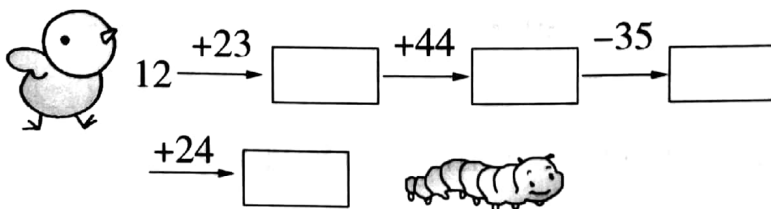
$55+27-49=$

$97-28-16=$

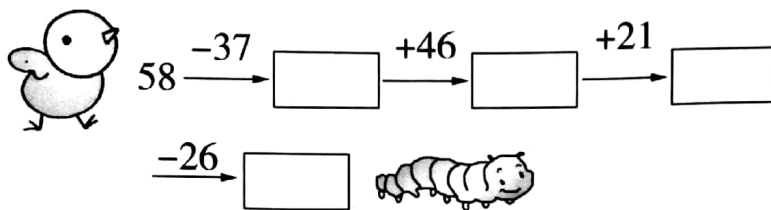
$17+23+39=$

3. 小鸡快跑吃虫子。(8 分)

(1)



(2)



四、脑瓜转一转,会列又会算。(8分)

1. (4分)



24 只



36 只



18 只

? 只

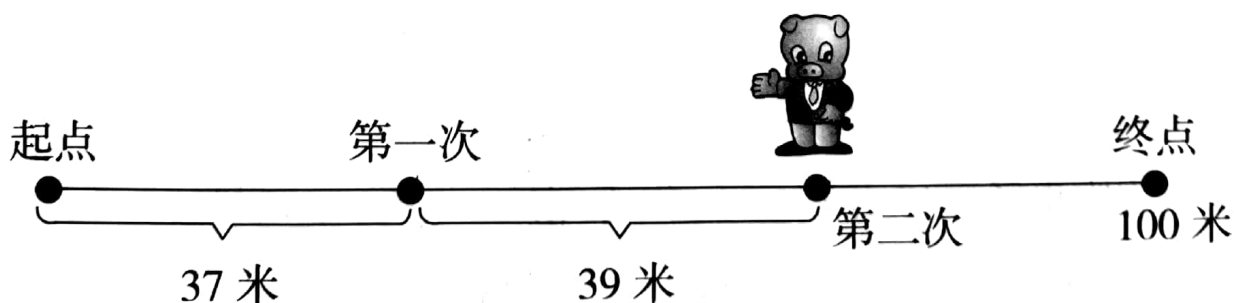
$$\square \bigcirc \square \bigcirc \square = \square (\text{只})$$

2. 小美原有 35 张卡片,送给小明 12 张后,又买来 28 张,小美现在有多少

张卡片? (4分)

$$\square \bigcirc \square \bigcirc \square = \square (\text{张})$$

五、小猪跑步。(8分)



小猪还剩多少米就跑到终点了?(用两种方法计算)



扫描全能王 创建

六、走进生活,解决问题。(23 分)



15 元



5 元



8 元



7 元

1. 买一个汉堡、一份鸡腿和一份可乐,一共需要多少钱?(7 分)

2. 如果小红只买了一份薯条和一份鸡腿,付了 100 元,应找回多少钱?
(用两种方法解答)(8 分)

3. 小朋友,如果你有 100 元,你最想买上面哪些东西? 需要多少钱? 还剩多少钱?(8 分)

七、买哪三件商品能获得奖品呢?(9 分)



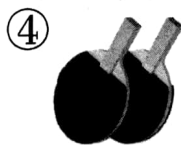
39 元



19 元



62 元



21 元



87 元



43 元

好消息:
满 100 元送 10 元的
奖品。



扫描全能王 创建