



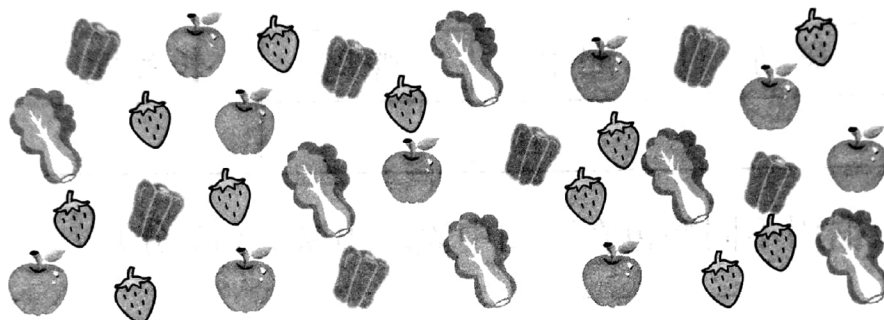
# 第六单元测试密卷

时间：70 分钟 满分：100 分

题号	一	二	三	四	总分
得分					

## 一、想一想,填一填。(24 分)

### 1. 我是小小统计员。(16 分)



(1)把上面的蔬菜和水果的数量用不同的颜色表示在下面的方格里。

(8 分)


(2)( )最多,( )最少,最多的和最少的一共有( )个。

(6 分)


(3)你最喜欢吃( )。(2 分)

### 2. 参观动物园。(每格代表 1 只动物)(8 分)

猴子															
大象															



熊 































骆驼 

(1) 动物园里( )最多,( )最少。





(2) 熊比大象多( )只。

(3) 骆驼比猴子少( )只。

## 二、下面是某地区六月份的天气记录。(20 分)

1	2	3	4	5	6	7	8	9	10
									
11	12	13	14	15	16	17	18	19	20
									
21	22	23	24	25	26	27	28	29	30
									

1. 整理六月份的天气记录,在下面的格子里涂色。(8 分)

2. 填一填。(12 分)

(1) 这个月,有( )天,有( )天,有( )天,有( )天。

(2) 比多( )天。

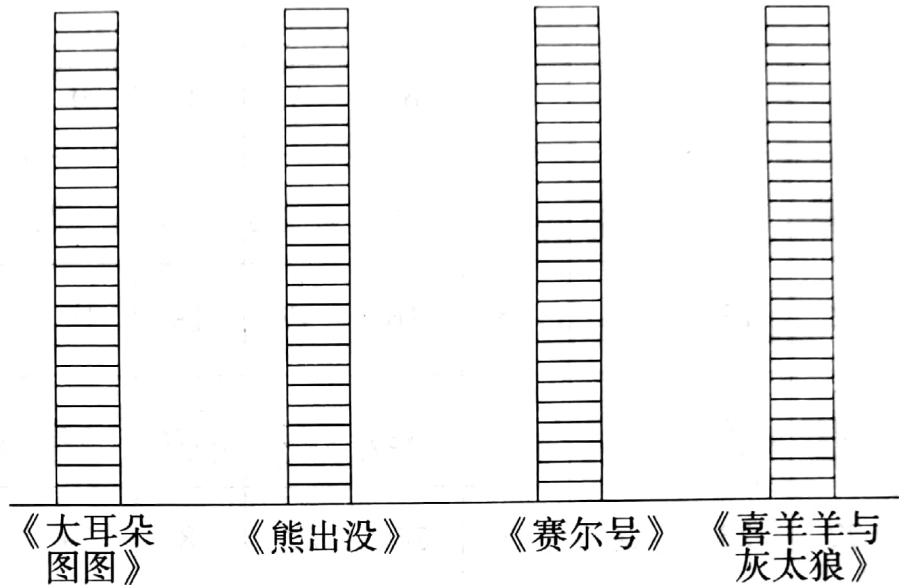
(3) 比少( )天。



三、下面是二(1)班同学最喜欢看的动画片统计表。(23 分)

《大耳朵图图》	《熊出没》	《赛尔号》	《喜羊羊与灰太狼》
14 人	22 人	9 人	10 人

1. 完成统计图。(8 分)




2. 喜欢看哪部动画片的同学最多？喜欢看哪部动画片的同学最少？(4 分)

3. 喜欢看《赛尔号》的比喜欢看《熊出没》的少几人？(5 分)

4. 你喜欢看哪部动画片？为什么？(6 分)



四、小小统计员。(33 分)



1. 画“正”字记录动物的只数。(5 分)

大象	斑马	犀牛	鸵鸟	长颈鹿

2. 根据整理的数据用不同颜色在下图中表示出来。(10 分)

大象 

--	--	--	--	--	--	--	--	--	--

斑马 

--	--	--	--	--	--	--	--	--	--

犀牛 

--	--	--	--	--	--	--	--	--	--

鸵鸟 

--	--	--	--	--	--	--	--	--	--

长颈鹿 

--	--	--	--	--	--	--	--	--	--

3. 根据统计图完成下列各题。(18 分)

- (1)( )最少,( )最多。(6 分)
- (2)大象比长颈鹿多多少只?(6 分)
- (3)斑马比犀牛多多少只?(6 分)