



第七单元测试密卷

时间：70 分钟 满分：100 分

题号	一	二	三	四	五	六	总分
得分							

一、比一比,看谁先过河吃到桃子。(18 分)

$7 \times 9 =$	$8 \times 2 =$	$4 \times 9 =$
$24 \div 8 =$	$28 \div 7 =$	$48 \div 5 =$
$9 \times 6 =$	$7 \times 6 =$	$8 \times 5 =$
$35 \div 7 =$	$27 \div 3 =$	$49 \div 7 =$
$50 \div 6 =$	$8 \times 3 =$	$9 \times 2 =$
$8 \times 4 =$	$60 \div 8 =$	$81 \div 9 =$

二、看图填一填。(16 分)


1. 一共有多少朵鲜花?(4 分)



$\square \bigcirc \square = \square$ (朵) 口诀: _____



2. (6 分)



$$\square \times \square = \square$$

$$\square \div \square = \square$$

3. 小狗的只数是小兔的几倍? (3 分)




63 只



7 只

$$\square \bigcirc \square = \square$$

4. (3 分)



$$\square \bigcirc \square = \square$$


三、画一画,填一填。(8 分)

1. ○的个数是☆的 4 倍。



○有()个。

2 △的个数是□的 2 倍。



△有()个。



扫描全能王 创建

四、括号里最大能填几？(12 分)

$7 \times () < 30$

$() \times 8 < 19$

$50 > 7 \times ()$

$() \times 4 < 35$

$9 \times () < 40$

$60 > 7 \times ()$

五、在○里填上“+”、“-”、“×”或“÷”。(12 分)

$2 \bigcirc 7 = 14$

$24 \bigcirc 3 = 8$

$9 \bigcirc 1 = 8$


$8 \bigcirc 9 = 17$

$8 \bigcirc 1 = 8$

$45 \bigcirc 5 = 9$

六、生活中的数学。(34 分)

1. (8 分)



(1) 爷爷今年多少岁？

(2) 妈妈的年龄是小红的几倍？

2. (8 分)



8 元



56 元

(1) 买 4 辆小汽车要花多少钱？



扫描全能王 创建

(2) 买一架飞机的钱能买几辆小汽车？

3. (6 分)




(限乘4人)

18人去玩这种小汽车。至少要租多少辆？



4. 儿童读物每本 7 元, 小红有 40 元, 小明有 65 元, 小红最多能买几本?
还剩多少元? 小明呢? (6 分)

5. (6 分)



? 头



扫描全能王 创建