



第三单元测试密卷


时间：70 分钟 满分：100 分

题号	一	二	三	四	五	六	七	总分
得分								

一、想一想,填一填。(22 分)

1. 一个乘数是 6,另一个乘数是 4,积是()。

2. 看图列式计算。



用加法算：_____ 用乘法算：_____

3. 在()里填上适当的数。

$5 \times () = 30$

$6 \times () = 12$

$() \times 4 = 12$

$3 \times () = 9$

$() \times 5 = 20$

$() \times 5 = 25$

4. 在○里填上“>”“<”或“=”。

$6 \times 6 \bigcirc 6 \times 2$

$4 \times 3 \bigcirc 5 \times 3$

$4 \times 6 \bigcirc 5 \times 5$

$7 + 7 \bigcirc 5 \times 5$

$4 + 4 \bigcirc 4 \times 4$

$6 \times 2 \bigcirc 4 \times 3$

5. 小明和爷爷、奶奶、爸爸、妈妈、小姑生活在一起,中午吃饭时,每人要 2 根筷子,饭桌上一共要摆()根筷子,算式是:_____


_____。

6. 一只兔子_____条腿,3 只兔子_____条腿,算式_____

5 只兔子是_____条腿,算式_____



二、看谁先摘到桃子。(12 分)



三、对口令,连一连。(7 分)

二四

二十四

6×6

三五

十六

4×6

四六

十二

2×4

五五

十五

4×4

二六

三十六

5×5

四四

得八

2×6

六六

二十五

5×3

四、画一画。(8 分)

3×2



4×3

2×2

5×4



五、计算乐园。(22 分)

1. 直接写出下面算式的得数。(12 分)

$6 \times 3 =$

$80 - 7 =$

$3 \times 5 =$

$2 \times 2 =$

$1 \times 3 =$

$6 + 12 =$

$6 \times 4 =$

$6 \times 3 =$

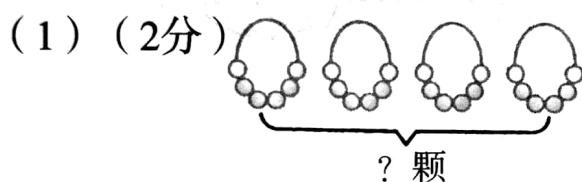
$4 \times 6 =$

$6 \times 6 =$

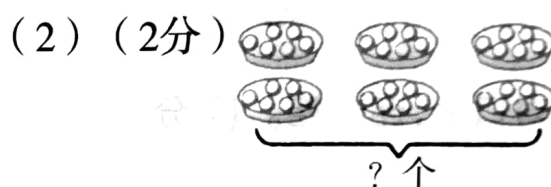
$1 \times 6 =$

$4 \times 3 =$

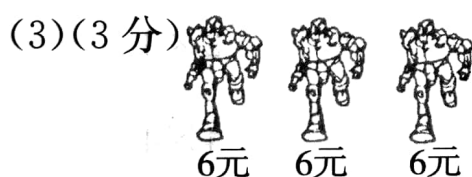
2. 看图列出算式。(10 分)



$\square \bigcirc \square = \square \text{ (颗)}$




$\square \bigcirc \square = \square \text{ (个)}$



买 3 只变形金刚一共要用多少元?

$\square \bigcirc \square = \square \text{ (元)}$



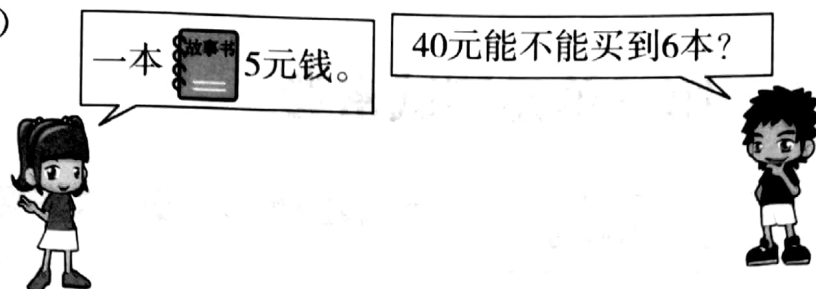
一共有多少只蝴蝶?

$\square \bigcirc \square = \square \text{ (只)}$




六、解决问题。(23 分)

1. (6 分)



2. 看一看,数一数。

(1) 3 只小鸡有几只脚? 6 只小鸡呢? (6 分)



(2) 如果每只小鸡 4 元钱,买这 6 只小鸡 20 元钱够吗? (6 分)

(3) 你还能提出什么数学问题? 列式算一算。(5 分)

七、实践操作题。(6 分)

元旦时学校组织学生们在校门口挂灯笼,每隔 2 米挂一个,挂了 6 米长,如果每个灯笼要 5 元,买这些灯笼共需多少元?(动手画一画吧!)

