






第四单元测试密卷

时间：70 分钟 满分：100 分

题号	一	二	三	四	五	六	七	八	九	总分
得分										

一、想一想,填一填。(15 分)

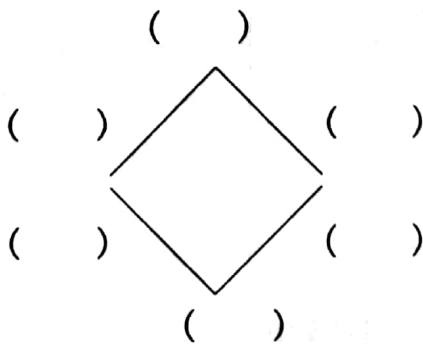
1. 角是由一个_____和两条_____组成的图形。

2. 所有的直角大小相等,  有()个角,  有()个角,  有()个角。

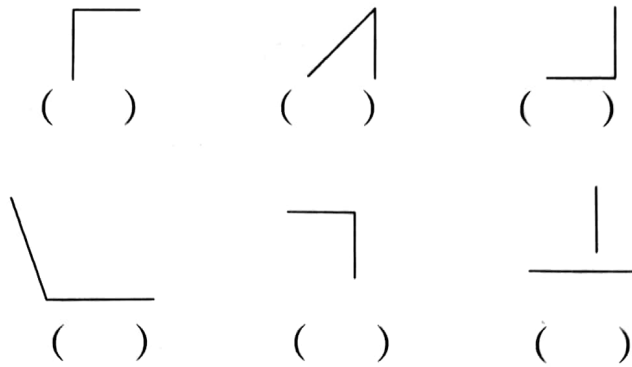
3. 黑板有()个直角。数学书封面有()个直角。

4. 自己写出两个含有直角物体的名称:()、()。


5. 写出角上各部分的名称。



二、在角下面的括号里分别填上“直角”、“钝角”和“锐角”(6 分)



三、小动物们画的角对吗?(对的打“√”,错的打“×”)(6 分)




四、对错我来判。(对的打“√”,错的打“×”)(8 分)


1. \angle \angle \angle 这三个角一样大。 ()
2. 角的边越长,所构成的角越大。 ()
3. 锐角都比直角小。 ()
4. ☆有 5 个锐角。 ()




五、说说每个钟面上时针和分针组成的角分别是什么角？(8分)



()



()



()



()

六、动手操作题。(25分)

1. 按要求画角。(图中已画出了角的顶点和一条边)(8分)



锐角



直角



直角

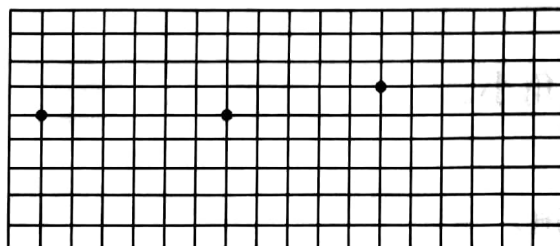


钝角

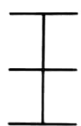
2. 在下面两个图形中各多加一条线段就可以多两个角,你试试看?(8分)



3. 从给出的三个点出发,分别画一个直角,一个比直角大的角,一个比直角小的角。(9分)



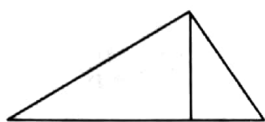
七、数一数,下面图形中各有几个直角?(10分)



()




()



()



()



()

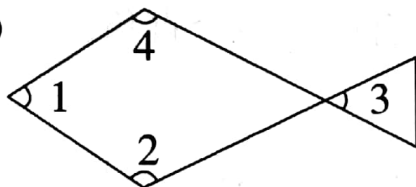
八、观察钟面上的时针和分针回答问题。(8分)

1. 1 时整,分针和时针组成的角是什么角?(4分)

2. 10 时 30 分,分针和时针组成的是什么角?(4分)

九、图中的角分别是什么角?(14分)

1. (8分)



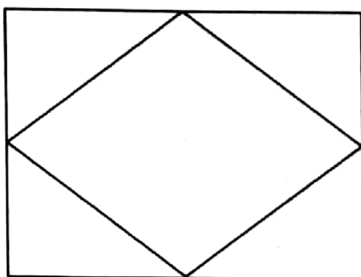
(1) $\angle 1$ 是()角;

(2) $\angle 2$ 是()角;

(3) $\angle 3$ 是()角;

(4) $\angle 4$ 是()角;

2. (6分)



(1) 图中有()个锐角;

(2) 图中有()个直角;

(3) 图中有()个钝角。



扫描全能王 创建