



第一单元测试密卷

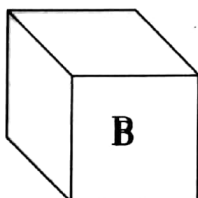
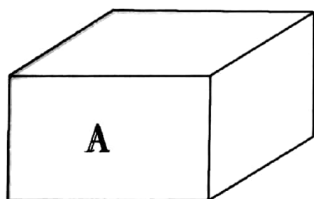
时间：70 分钟 满分：100 分

题号	一	二	三	四	五	六	总分
得分							

一、观察物体，填一填。(24 分)

1. 下列右边的图形是用左边哪个物体画出来的？把序号填在括号里。

(10 分)

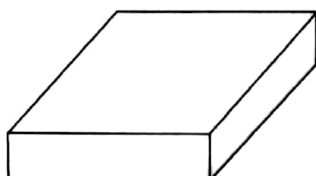
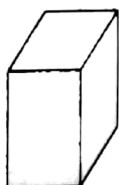


()



()

2. 观察下面的立体图形，在正面画“○”，侧面画“×”，上面画“√”。(6 分)



3. 哪个是小刚看到的,哪个是小玲看到的? 在括号里填上名字。(8 分)



小刚



小玲



()



()

二、在淘气看到的图下面画“△”,在笑笑看到的图下面画“○”。(8 分)



淘气




笑笑






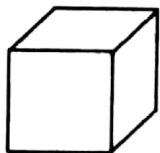


三、观察物体,连一连。(21 分)

1. 下面四幅图分别是谁看到的? 连一连。(12 分)



2. 下面的立体图形从上面看到的各是什么图形？连一连。(9 分)



四、山羊在开车，大家争着为他拍照，请把大家所拍照片的序号填在相应的括号里。(16 分)



①



②





③

④

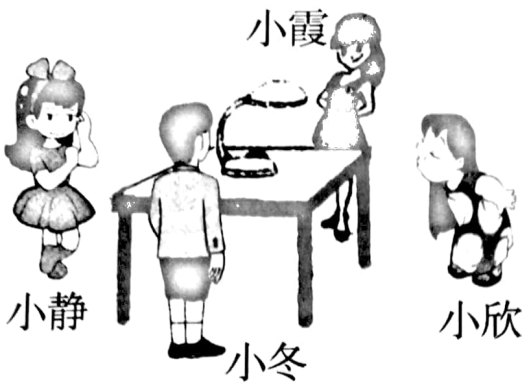


第()幅是  拍到的，第()幅是  拍到的，第()幅是

 拍到的，第()幅是  拍到的。



五、下面四幅图分别是谁看到的？填一填名字。(16 分)



()



()

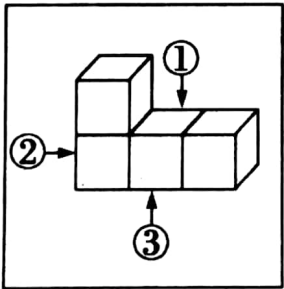


()

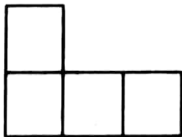


()

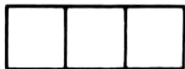
六、下面的三幅图分别是在哪个位置看到的？把相应的序号填在括号里。(15 分)



()



()



()

