




第四单元达标检测卷

冀教版

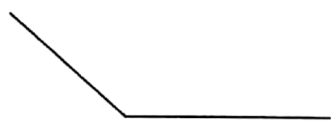


时间：60分钟 满分：100分

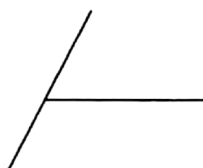
题号	一	二	三	四	五	六	七	八	总分
得分									

一、知识基础练。(共10分)

1. 在是角的图形下面的()里画“√”。(3分)



()



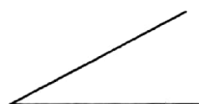
()




()



()



()

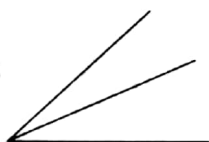


()

2. 在一个正方形上剪去一个角,剩下的部分有()个角。(2分)

3. 填一填。(2分)

(1)



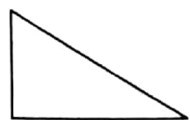
有()个角

(2)



有()个角


4. 下面的图形中各有几个角?(3分)



()



()



()



二、判断正误。(对的打“√”,错的打“×”)(共10分)

1. 只要有两条边的图形就是角。()

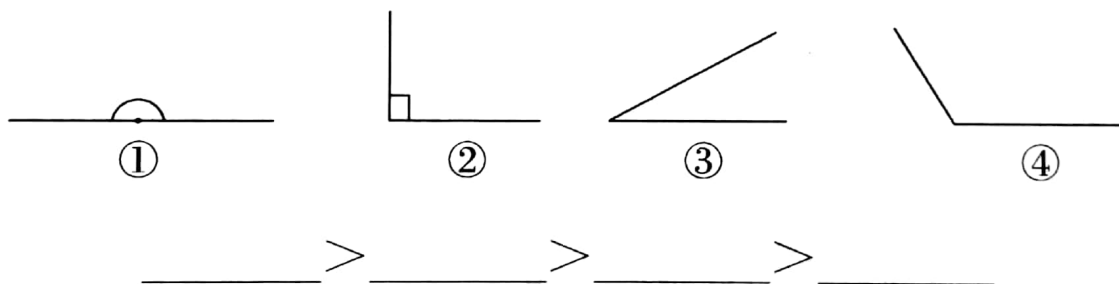


2. 从一个点起,用直尺何不同的方向画出两条线,就能画成一个角。 ()
3. 任何一个角都有一个顶点的两条边。 ()
4. 所有锐角的大小都是相等的。 ()
5. 黑板框上的直角比数学书上的直角大。 ()

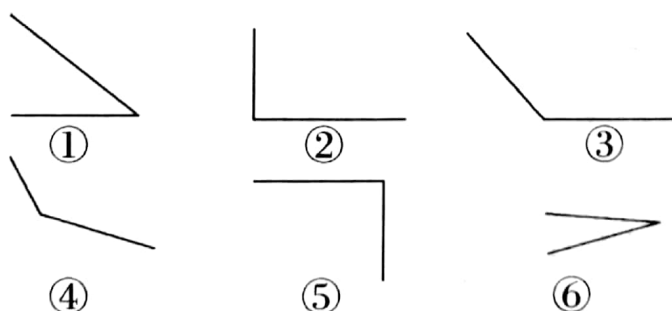
三、1. 在有直角的物品下面的()里画“√”。(2 分)



2. 排队。(按角的度数排列大小)。(8 分)



四、1. 给下面的角分类。(12 分)

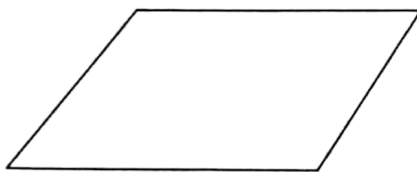


名称	锐角	直角	钝角
序号			

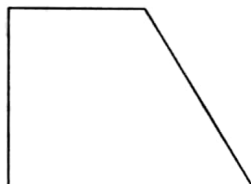


2. 在下面的图形里加一条线段。(10 分)

(1) 使它增加两个直角。



(2) 使它增加三个直角。



五、动手画一画。(共 8 分)

(1) 以给出的线为一条边,画一个角。



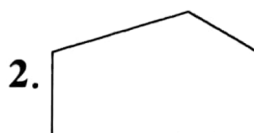
(2) 以下面的点为顶点画一个角。



六、数一数。(共 12 分)



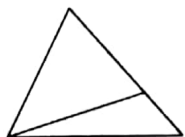
有()个角



有()个角



3.

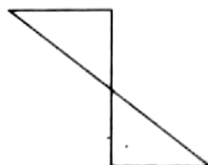


有()个锐角

有()个直角

有()个钝角

4.


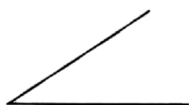


有()个锐角

有()个直角

有()个钝角

七、找朋友。(连线)(共 4 分)



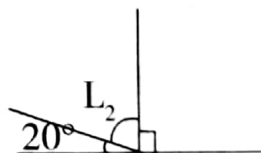
钝角

锐角


直角

八、实际应用。(共 24 分)

1. 如下图, L_2 是多少度? (8 分)



2. 两本书放在一起, 如下图, 最大的角是多少度? (8 分)



3. 下图中共有多少个三角形? (8 分)

