

第七单元测试卷



(时间:90 分钟 满分:100 分)

题 号	一	二	三	四	五	六	七	总 分
得 分								

一、填空题。(每空 1 分,共 15 分)

- 生活中,我们常用的质量单位有()、()和(),每相邻两个质量单位间的进率是()。
- 一袋绵白糖重 500 克,两袋这样的白糖重()克,也就是()千克。
- 一只鸽子大约重 500(),一只羊大约重 55(),一卡车水泥重 4()。
- 7 吨=()千克 13000 克=()千克
2 千克 500 克=()克 ()吨=9000 千克
6 吨 50 千克=()千克 11 千克=()克

二、判断题。(对的画“√”,错的画“×”)(6 分)

- 2 吨=2000 克 ()
- 1500 千克+4500 千克=6 吨 ()
- 一节火车车厢的载重是 20 千克。 ()
- 6 吨棉花比 6 吨铁轻。 ()
- 一袋盐重 500 克,两袋盐重 1 吨。 ()
- 1 吨比 999 千克多 1 千克。 ()



三、选择题。(10 分)





- 一只大公鸡重()。
A. 2 吨 B. 2 克 C. 2 千克
- 一辆货车的载重量是()。
A. 8 吨 B. 980 千克 C. 9000 克
- ()约重 500 克。
A. 1 瓶水 B. 1 个鸡蛋 C. 1 袋盐
- 一袋面粉重 25 千克,()袋面粉重 1 吨。
A. 100 B. 50 C. 40
- 小明的体重是(),身高是()。
A. 30 千克 B. 8000 克 C. 1 吨
D. 120 米 E. 120 厘米 F. 120 分米

四、在○里填上“>”“<”或“=”。(12 分)

- | | | |
|-------------|--------------|--------------|
| 7 千克○4 吨 | 4200 千克○42 吨 | 15 千克○1500 克 |
| 3 吨○3200 千克 | 5 吨○5000 克 | 10 吨○1000 克 |
| 770 克○7 千克 | 60 吨○6000 千克 | 8 千克○8000 克 |
| 480 克○1 千克 | 50 吨○8000 千克 | 2 吨○2000 千克 |

五、动物园的管理人员正在分批给动物们测体重,请你把动物的体重按从轻到重的顺序排列出来。(每小题 4 分,共 8 分)

- 1.
- | | | | |
|---|---|---|---|
|  |  |  |  |
| 2吨 | 150千克 | 200克 | 300千克 |

- 2.
- | | | | |
|---|---|---|---|
|  |  |  |  |
| 130千克 | 3000克 | 3吨 | 300千克 |



六、算一算。(10 分)

$$500 \text{ 千克} + 500 \text{ 千克} = (\quad) \text{ 吨}$$

$$7000 \text{ 千克} - 5000 \text{ 千克} = (\quad) \text{ 吨}$$


$$8000 \text{ 克} - 3000 \text{ 克} = (\quad) \text{ 千克}$$

$$10 \text{ 吨} - 2000 \text{ 千克} = (\quad) \text{ 千克}$$

$$5 \text{ 吨} - 3 \text{ 吨} = (\quad) \text{ 千克}$$

七、解决问题。(39 分)

1. 水果店运进一车水果,其中苹果有 900 千克,比梨少 1200 千克,苹果和梨一共多少千克? 合多少吨? (5 分)



2. (6 分)



照这样吊15次,一共吊运货物多少吨?



3. 工地上一共有 7 吨沙子,一辆大卡车运走了 3000 千克,还剩下多少千克? (6 分)



4. 过河。(10 分)



1800千克
大象



220千克
狮子



35千克
小猴



340千克
豹



150千克
小马



限载2吨



限载600千克

5 只动物要同时过河,应怎样乘船比较合适?

5. 载重量为 4 吨的卡车每次的运费是 450 元,载重量为 2 吨的卡车每次的运费是 300 元,总共要运 10 吨钢材。(12 分)

(1)只用载重量 4 吨的卡车运这批钢材,需要运费多少钱?(3 分)

(2)只用载重量 2 吨的卡车运这批钢材,需要运费多少钱?(4 分)

(3)同时用这两辆车来运,至少需要多少钱?(5 分)

