

期末测试卷(一)

(时间:90 分钟;满分:100 分)

冀教版

题 号	一	二	三	四	五	总 分
得 分						

一、小小神算手。(30 分)

1. 直接写出得数。(8 分)

$60 \div 3 =$

$150 \times 4 =$

$90 \div 6 =$

$25 \times 2 =$

$88 \div 8 =$

$44 \div 2 =$

$400 \times 9 =$

$13 \times 7 =$

2. 用竖式计算,带 * 的要求验算。(10 分)

$768 \div 9 =$

$* 36 \times 7 =$

一定认真哟!



$357 \times 6 =$

$96 \div 7 =$

3. 脱式计算。(12 分)

$(73 + 86) \times 8$

$38 \times 4 + 25 \times 5$

$668 - (332 + 167)$

$75 \div (304 - 299)$



二、我能填对。(16 分)

1. 在括号中填上合适的质量单位。



160 ()



3 ()



450 ()



30 ()

2. 北京到广州的空中航线长是一个四位数,这个数最高位上是 1,百位上是 9,其余各位上的数字是 6,这个数是()千米,读作()千米。

3. 在下面的○里填上>、<或=。

$$8890 \bigcirc 8868$$

$$80 \div 2 \div 4 \bigcirc 80 \div 8$$

$$13 \times 4 \bigcirc 5 \times 13$$

$$52 \text{ 千克} \bigcirc 5200 \text{ 克}$$


4. 一个数除以 3,商是 17,余数是 2,这个数是()。

5. 要使 $\square 4 \div 6$ 的商是二位数, \square 里最小填();要使商是一位数, \square 里最大填()。

6. 一只身长 5 厘米的蚱蜢一次可跳跃的距离是它身长的 35 倍,那么蚱蜢一次可跳跃的距离是()。

7. 一个纸箱可以装 9 瓶柚子蜜,50 瓶柚子蜜至少需要()个纸箱。

8. 用 3 个边长是 2 厘米的正方形拼成一个长方形,这个长方形的周长是()厘米。



三、我会判断。(13 分)

牛奶



豆浆



蛋糕



油条



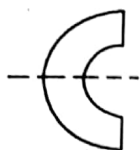
饼干

1. 右图的饮料和点心只能各选一种,一共有()种不同的搭



配,连一连。(6分)


2. 在轴对称图形的下面画“√”,不是轴对称图形的画“×”,并画出对称图形的一条对称轴。(7分)



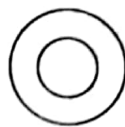
()




()



()



()



()

四、精心选一选。(将正确答案的序号填在括号里)(每题2分,计10分)

1. 下面算式正确的是()。

A. $56 \div 6 = 8 \cdots 8$

B. $8 - 8 \times 0 = 0$

C. $250 \times 4 = 100$

D. $4 \times 205 = 820$

2. 下列说法错误的是()。

A. 物体平移形状、大小都不变

B. 风车的转动不属于旋转现象

C. 拉抽屉是平移现象

D. 物体在旋转过程中形状大小不变

3. 按 $\triangle \bigcirc \square \star \triangle \bigcirc \square \star \cdots$ 的顺序排下去,第126个图形是()。

A. \triangle

B. \bigcirc

C. \square

D. \star

4. 把 $33 \div 3 = 11$, $66 \div 6 = 11$, $11 + 11 = 22$ 组成一个综合算式是()。

A. $33 \div 3 + 66 \div 6$

B. $33 \div 3 + 11$

C. $(11 + 11) \div 11$

D. $33 \div 3 \div 6$

5. 用一根长8分米的木条做一个正方形的相框,这个相框的边长是()分米。

A. 1

B. 2

C. 3

D. 4




五、我能解决问题啦！（31 分）

1. 小丽家和学校相距多少米？（7 分）



2. 组装一辆三轮电动车需要 3 个轮子, 54 个轮子够装 18 辆这样的三轮电动车吗? (8 分)



4. 工程队修一条长 358 的路, 修了 7 天后还剩 260 米, 平均每天修多少米? (8 分)

4. 小明家利用一面院墙, 用篱笆围成一个长方形的花园(如下图)。花园长 9 米, 宽 5 米, 求篱笆一共长多少米? (8 分)

