



## 期末测试卷(二)

(时间:90 分钟;满分:100 分)



题 号	一	二	三	四	五	总分
得 分						

### 一、填空题。(10 题 4 分,其余每空 1 分,共 22 分)

1. 3264 是由( )个千,( )个百,( )个十和( )个一组成。

2. 在一个算式里,即有加减法,又有乘除法,要先算( ),再算( )。

3. 一个边长是 1 cm 的正方形,它的周长是( )cm,用 2 个这样的正方形拼成一个长方形,这个长方形的周长是( )cm。

4. 一个数由 2 个一和 9 个千组成,这个数是( ),读作( )。

5. 用 3、6、0、9 四个数字组成的最小四位数是( ),最大四位数是( )。

6. 读出或写出横线上的数。

(1)世界上有9000 多种鸟类。

读作:\_\_\_\_\_

(2)南极大陆终年被冰雪覆盖,有些地方的冰层厚达四千二百米。写作:\_\_\_\_\_

7. 在○里填“>”“<”或“=”。(6 分)

9 千克○ 8999 克

7 吨-2 吨○ 9 千克

5010 ○ 5001

10000 ○ 10 个一千



8. 先在方框内填上得数,再在横线上列出综合算式。

$$(1) 91 - 84 = 7$$

$$(2) 35 + 25 = 60$$

$$91 \div 7 = \square$$

$$60 \times 7 = \square$$

## 二、选择,把正确答案的序号填在括号里。(10分)

1. 下面( )是  经过旋转得到的。



2. 一个长方形的周长是 14 cm,这个长方形的长和宽不可能是( )。

A. 12 2

B. 6 1

C. 5 2

3. 下面各数一个零也不读的是( )。

A. 8004

B. 9040

C. 8000

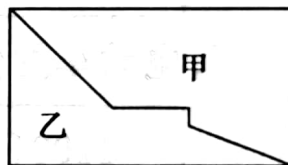
4. 观察右图,下面叙述正确的是( )。

A. 甲的周长长

B. 乙的周长长

C. 甲乙的周长同样长

D. 无法确定



5. 学校广播站有 4 名男播音员,4 名女播音员,播报新闻需要一男一女两名,则有( )种搭配方法。

A. 4

B. 8

C. 16

## 三、计算题。(29分)

1. 估算。(8分)

$$3125 + 987 \approx$$

$$3796 - 1207 \approx$$

$$1518 + 3511 \approx$$

$$2185 - 897 \approx$$

2. 脱式计算。(9分)

$$97 \times 8 + 154$$

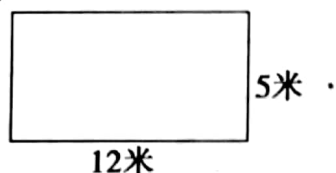
$$85 \div (131 - 126)$$

$$54 \times 6 - 84 \div 4$$

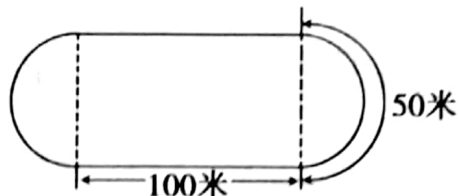


3. 求下面图形的周长。(12 分)


(1)



(2)



#### 四、猜猜看。(4 分)



1. 组合柜的价格可能是多少元?(选择合适的答案画“√”)

2400(     )	2998(     )	3990(     )
-------------	-------------	-------------

2. 电动车的价格可能是多少元?(选择合适的答案画“√”)

1190(     )	2390(     )	1540(     )
-------------	-------------	-------------

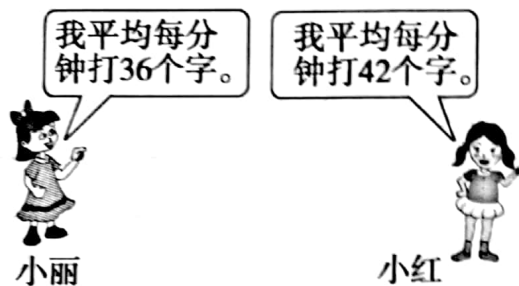
#### 五、解决问题。(35 分)

1. 同学们种了 160 棵松树,还种了 4 行杨树,每行 16 棵,种的松树比杨树多多少棵?(8 分)

2. 用两根同样长的铁丝围成一个正方形和一个长方形,长方形的长是 13 米,宽是 5 米,正方形的边长是多少米?(8 分)



3. 小丽和小红一起打字,各打了 6 分钟,她们一共打了多少个字? (8 分)




4.

### 好消息

下列商品有奖促销:

购买2000元的商品,奖100元。



空调  
2160元



自行车  
378元



手机1  
1800元



电饭锅  
268元



手机2  
1350元

- (1) 只买一个空调有奖吗? 为什么? 买一个空调实际花了多少元? (5 分)

- (2) 妈妈想买一部手机和一个电饭锅, 请你帮她选一下怎样买要划算? (6 分)

