



期末测试卷(五)

(时间:90 分钟;满分:100 分)

冀教版

题 号	一	二	三	四	五	六	总 分
得 分							

一、认真想,细心填。(共 22 分)

- 由 5 个千、3 个百、7 个十和 8 个一组成的数是(),读作()。
- 2 吨=()千克 6450 千克=()吨()千克
5000 千克=()吨 3 吨 70 千克=()千克
- 在○里填上“>”“<”或“=”。
692 ○ 629 5990 ○ 6000
4t ○ 4000 kg 858 千克+159 千克○ 1 吨
- 在()里填上合适的质量单位。
(1)一头大象重 3()。
(2)一条黄瓜约重 150()。
(3)一只大公鸡约重 2()。
(4)一辆卡车能装货 5()。
- 在一个长是 9 分米,宽是 5 分米的长方形中剪一个最大的正方形,这个正方形的周长是()分米,剩下的长方形周长是()分米。
- 政府给灾区学校送去 8908 千克煤,可以说大约是()千克,还可以说大约是()吨。
- $\square \div 4 = 15 \cdots \square$ 这个算式中,余数最大是(),这时被除数是()。



8. 红红帮妈妈做饭,她买了猪肉、牛肉、鸡肉、豆角、白菜和土豆。如果一种肉搭配一种蔬菜,红红有()种不同的搭配方法。

二、我是小法官,能准确判断是与非(对的在括号里填“√”,错的填“×”。)(10 分)

1. 用两个完全一样的正方形拼成一个长方形,这个长方形的周长一定是每个正方形周长的 2 倍。()
2. 正方形、圆都是轴对称图形,都有 4 条对称轴。()
3. 10 个 1000 是一万。()
4. 9 千克铁和 9000 克棉花同样重。()
5. 把 $49+66=115$, $406-115=291$ 写成一个算式是 $406-49+66$ 。()


三、认真选,你一定能选对!(把正确答案的序号填在括号里)(10 分)

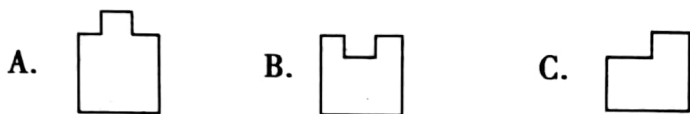
1. 下面图形不是轴对称图形的是()。



2. $246 \times \square$ 的积是一个三位数, \square 里最大填()。

A. 5 B. 4 C. 3

3. 下面的()图形的周长和  周长相等。



4. 4000 是一个数的近似数,那么这个数最可能是()。

A. 4671 B. 4010 C. 3498

5. 一本童话书每本售价 8 元,小刚有 83 元,最多可以买()本这样的童话书。

A. 9 B. 10 C. 11



四、细心想一想,你一定能算对。(24 分)

1. 直接写得数(8 分)。

$90 \times 6 =$

$90 \div 3 =$

$300 \times 3 =$

$80 \div 8 =$

$63 \div 7 =$

$0 \times 66 =$

$99 + 202 \approx$

$690 - 301 \approx$

2. 竖式计算(6 分)。

$96 \div 4 =$

$74 \times 2 =$

$308 \times 5 =$

3. 脱式计算(12 分)。

$456 + 85 \div 5$

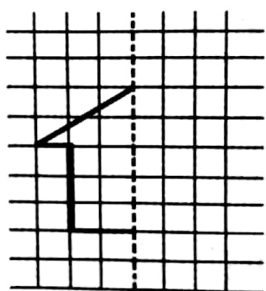
$(29 + 21) \times 8$

$801 - 56 \times 8$

$(65 + 16) \div 3$

五、动手画一画,算一算。(8 分)

1. 画出对称图形的另一部分。(2 分)



2. 画出周长是 12 厘米的一个长方形和一个正方形,标出每边的长度。(6 分)



六、解决问题。(26 分)

1. 一本故事书 235 页,小明已经看了 145 页,剩下的计划 5 天看完,每天要看多少页?(8 分)

2. 红星小学 2 名教师带 45 名同学去海洋馆参观,用 500 元钱够吗?(8 分)



3.



照相机766元



电风扇195元



手机1303元

(1)爸爸想买这三样商品,估计一下大约一共需要多少钱?
(5 分)

(2) 自己提一个问题并解答。

(5 分)

