



期末测试卷(十)

(时间:90 分钟;满分:100 分)

冀教版

题 号	一	二	三	四	总 分
得 分					

一、认真填空。(每题 2 分,共 16 分)

1. 一个数,千位上是 3,百位上是 2,十位上是 0,个位上是 8,这个数是(),读作()。
2. 一车煤有 3909 千克,可以说大约有()千克,还可以说大约有()吨。
3. 3 个 921 是(),276 的 5 倍是()。
4. 一个数除以 4,商是 16,余数是 2,这个数是()。
5. 用一根长 96 厘米的铁丝围成一个最大的正方形,这个正方形的周长是()厘米。
6. $35 \div 8$ 的余数是()。
7. 一个长方形的周长是 18 厘米,若宽不变,长减少 2 厘米后,这个长方形的周长是()厘米。
8. 在括号里填上适当的单位名称。
小红的体重是 30()。 100 桶矿泉水重 1()。
一袋盐重 400()。 一座大桥载重 80()。

二、择优录取。(把正确答案的序号填在括号里)(14 分)

1. 要使 $72 \div \square$ 的商是一位数且没有余数, \square 里可以填()。
A. 3 B. 6 C. 8
2. 下面各数中,一个零也不读出来的是()。
A. 3008 B. 3800 C. 3080



3. 相邻的两个质量单位间的进率是()。

A. 1000

B. 100

C. 10

4. $\square \div 5 = \square \cdots \square$, 余数可以是 \square 。

A. 1, 2, 3, 4

B. 0, 1, 2, 3, 4

C. 2, 3, 4, 5

5. 198×4 的积接近()。

A. 400

B. 700

C. 800

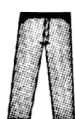
6. 105×7 () 145×5

A. $>$

B. $<$

C. $=$

7. 下面这些衣物中, 一件上衣配一条裤子, 则有()种不同的穿法。



A. 6

B. 5

C. 3

三、计算乐园。(36 分)

1. 在 \square 里填上合适的数字。(6 分)

$$\begin{array}{r} 9 \\ 8 \overline{) 78} \\ \underline{7 } \\ \end{array}$$

$$\begin{array}{r} \square 5 3 \\ \times \square \\ \hline \square 8 2 \end{array}$$

2. 列竖式计算并验算。(10 分)

$$84 \times 6$$

$$216 \div 3$$

验算:

$$390 \times 2$$

$$95 \div 6$$

验算:



3. 脱式计算。(12 分)

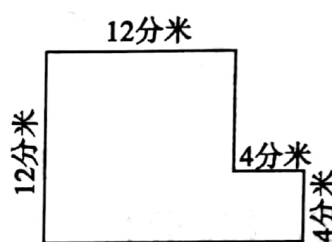
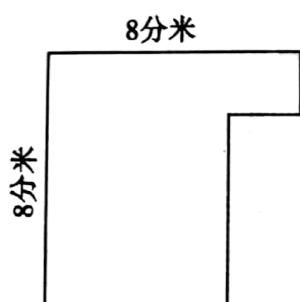
$$503 \times (606 - 598)$$

$$185 \times 6 - 900$$

$$(60 + 24) \div 7$$

$$185 \times 3 \times 2$$

4. 求下列图形的周长。(8 分)

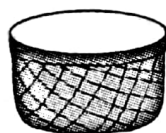


四、解决问题。(34 分)

1.



72 千克

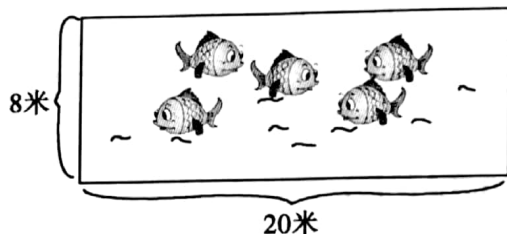


可装 2 千克

这些萝卜可以装多少筐？平均分给 4 只小白兔，每只小白兔可以分多少千克？(8 分)



2.



我每天绕鱼池跳3圈。



小青蛙每天绕鱼池跳多少米？(8分)

3. 一头家猪的质量是 129 千克，一头野猪的质量是这头家猪的 3 倍，而一头小象的质量和这头野猪的质量合起来刚好是 1 吨。

(1) 这头野猪的质量是多少千克？(5分)

(2)

这头小象的质量是多少千克？

(5分)



4. 育才小学三年级共有 95 人去野生动物园参观，共带了 800 元，买门票够不够？如果不够，还差多少元？(8分)

