

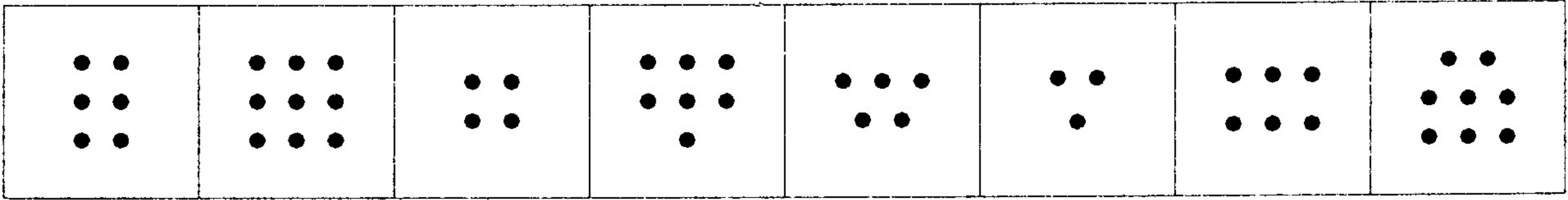
期中测试卷（一）

(时间:60分钟 满分:100分)

题号	一	二	三	四	五	六	七	附加题	总分
得分									

一、填一填。(25分)

1. 下面的圆点代表着小红家的电话号码，你能写下来吗？



小红家的电话号码是：



(1) 从左边数，第2个是 ()；从右边数，第3个是 ()。

(2) 一共有 () 种蔬菜。

(3) 有 () 个， 有 () 棵。


3. 在6、3、1、4、5这五个数中，

(1) 最大的数是 ()，最小的数是 ()。

(2) 把这些数按从大到小的顺序排一排。

() > () > () > () > ()

4.



(1) 闹钟在课本的 () 边。

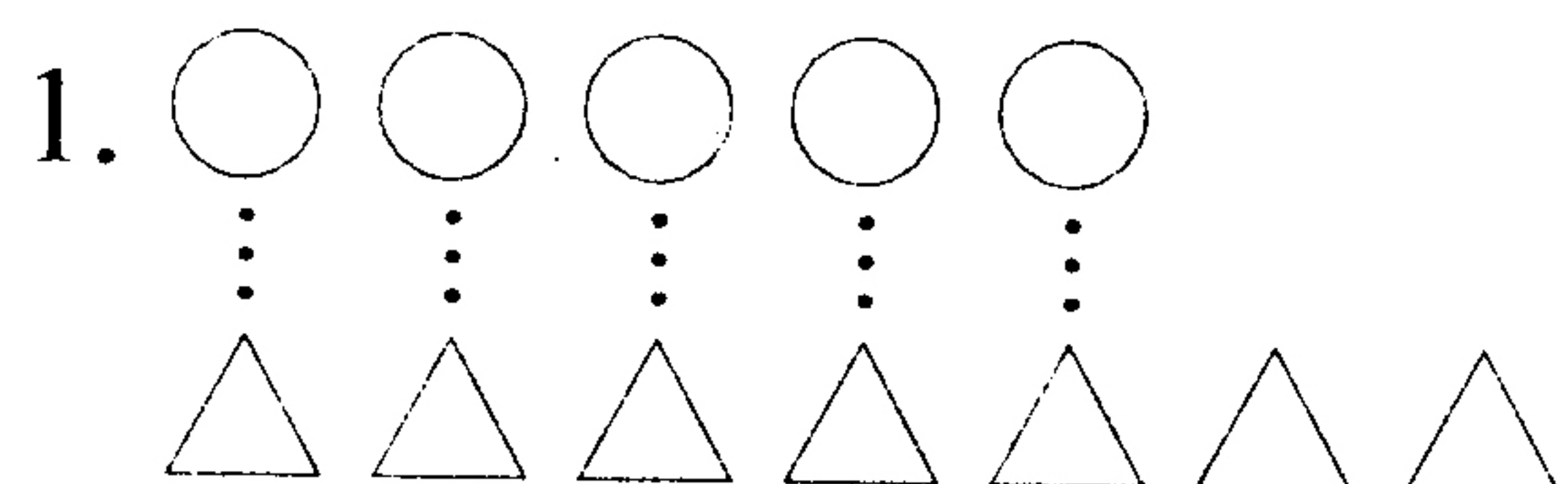
(2) 笔在闹钟的 () 面。

(3) 漫画书在文具盒的 () 面。

(4) 文具盒在笔的 () 边。

(5) 闹钟在尺子的 () 面。

二、数一数，比一比，画一画。(6分)

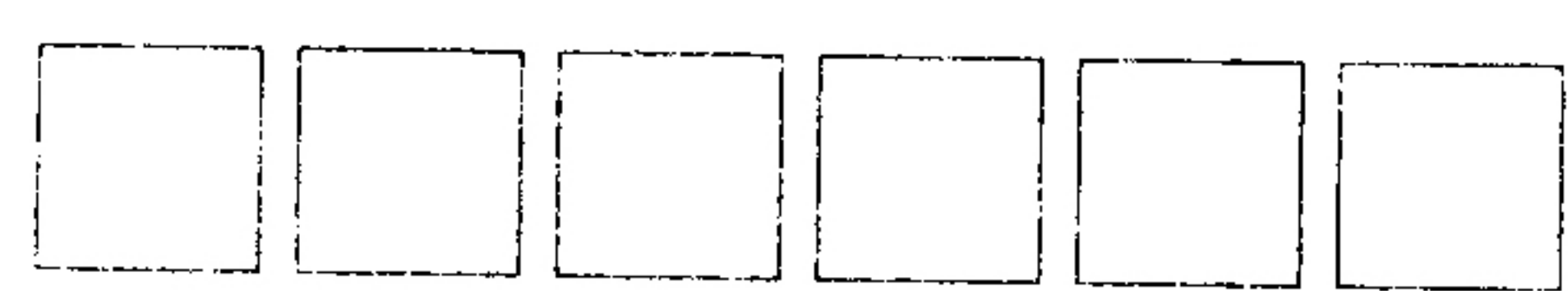


○比△少 () 个，△比○多 () 个。


2. 在多的后面画“√”，少的后面画“×”。



3. 画○比□多2个。



4. 画☆比□少3个。



三、计算。(21分)

1. 直接写得数。(12分)

$9-3=$

$8-2=$

$2+7=$

$5+3=$

$8-0=$

$4+2=$

$9+1=$

$0+5=$

$2-1+6=$

$9+1-1=$

$2-1+7=$

$2+3+4=$

2. 在□里填上合适的数。(9分)

$7 + \square = 10$

$\square - 5 = 4$

$\square + 2 = 10$

$8 - \square = 3$

$\square + 4 = 8$

$\square + 1 = 4$

$\square + 4 = 9$

$3 + \square = 7$

$4 + \square = 4$

四、在○里填上“>”“<”或“=”。(9分)

$8 - 8 \bigcirc 1$

$10 - 7 \bigcirc 2$

$3 + 5 \bigcirc 8$

$9 - 6 \bigcirc 0$

$2 + 5 \bigcirc 6$

$4 + 0 \bigcirc 4 - 0$

$7 - 2 \bigcirc 4 + 2$

$7 - 1 \bigcirc 8 - 3$

$10 - 5 \bigcirc 4 + 1$

五、数一数，填一填。(9分)

$5 + (\quad) = 9$

$10 - (\quad) = 10$

$(\quad) + 1 = 7$

$1 + 3 = (\quad)$

$(\quad) - 3 = 4$

$3 + (\quad) = 6$

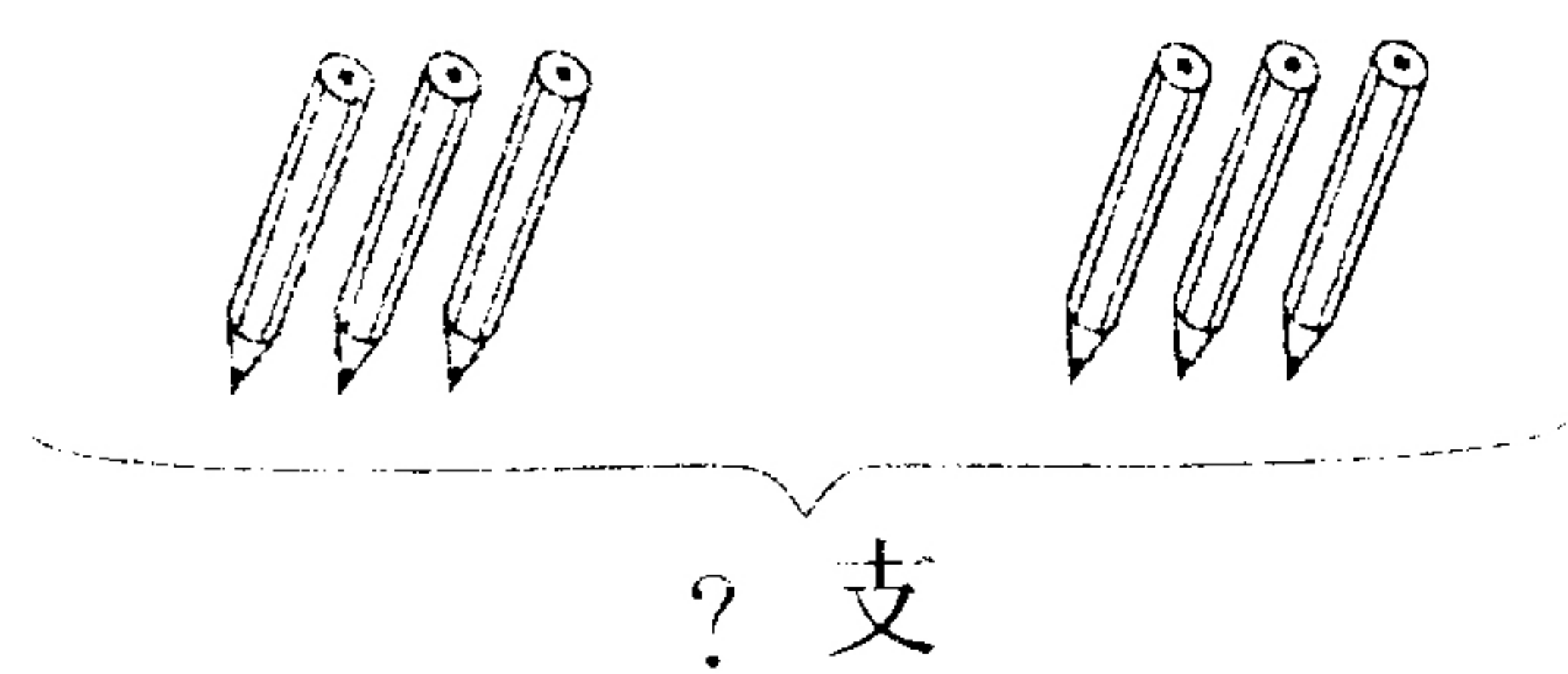
$4 - (\quad) = 0 + 1$

$2 + 6 = (\quad) - 2$

$(\quad) + 2 = 8$

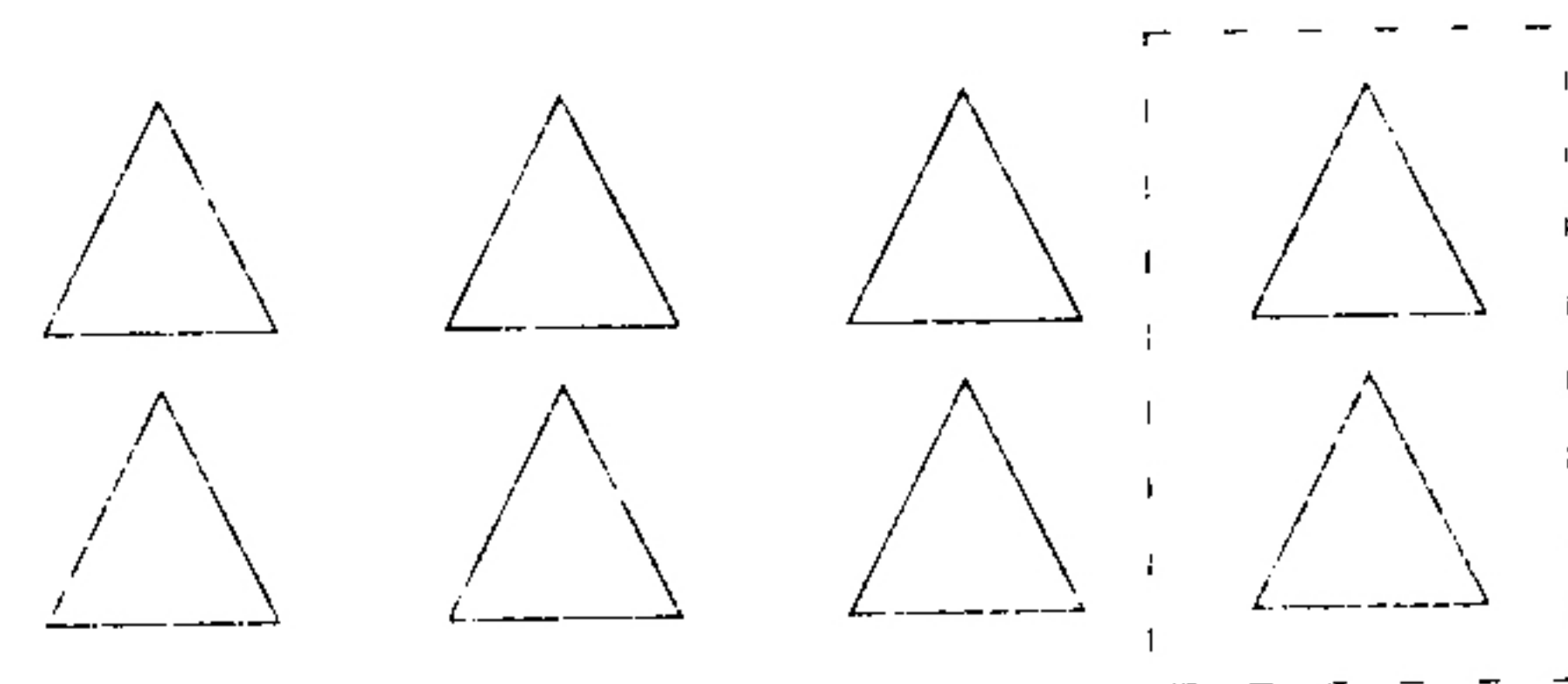
六、看图列式计算。(12分)

1.



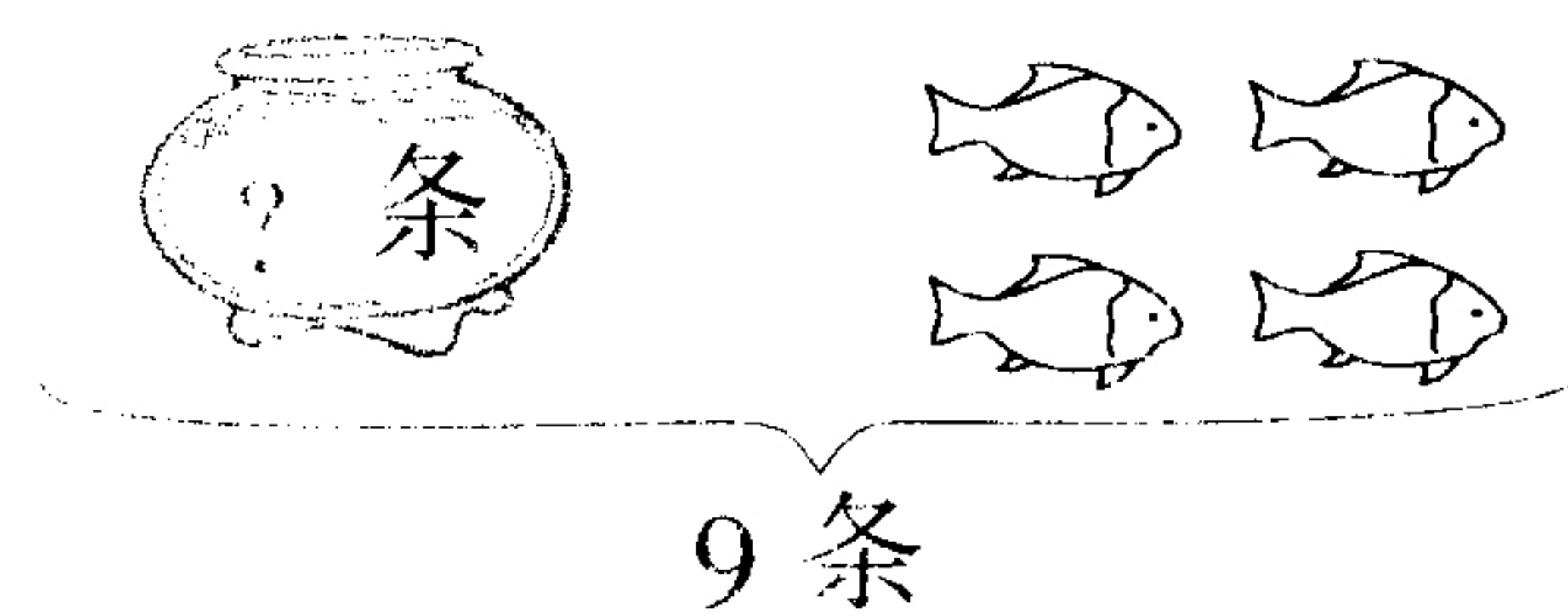
$\square \bigcirc \square = \square \text{ (支)}$

2.



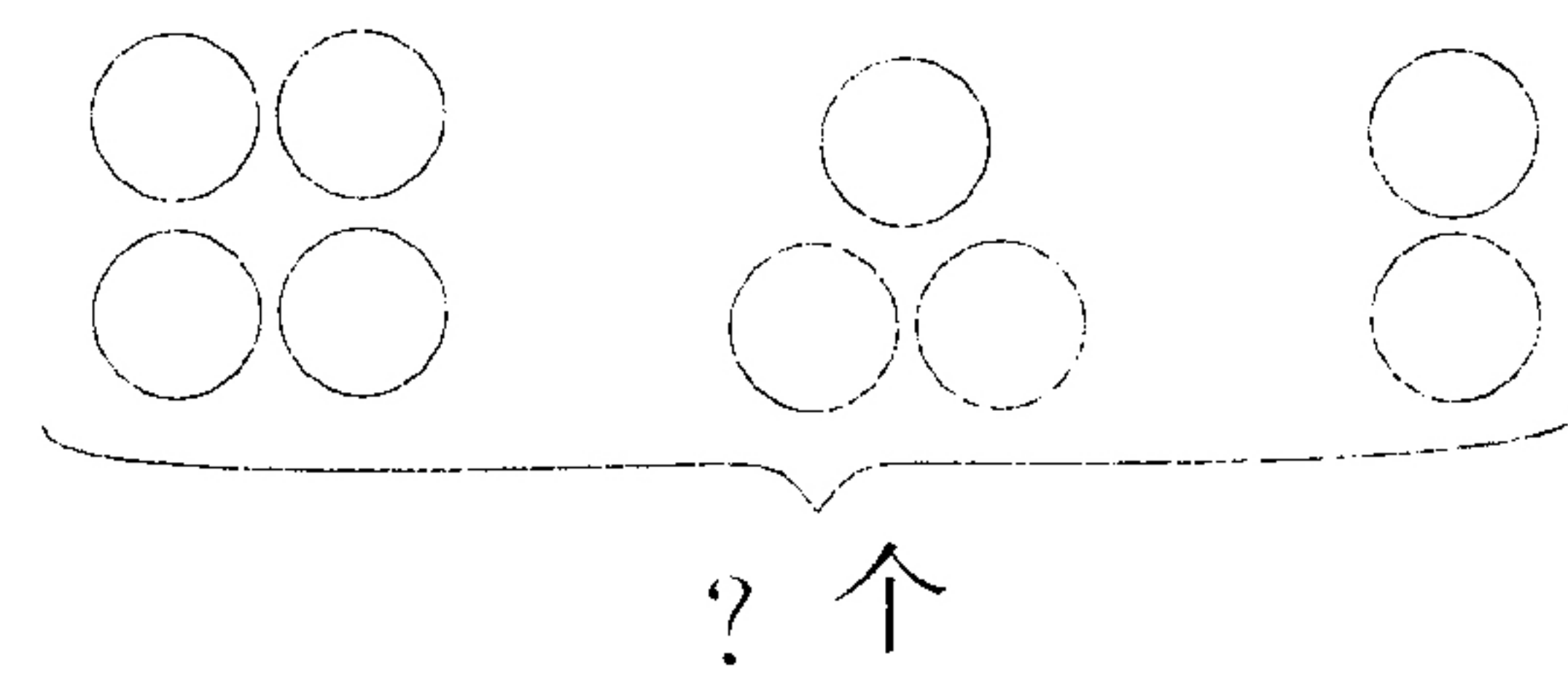
$\square \bigcirc \square = \square$

3.



$\square \bigcirc \square = \square \text{ (条)}$

4.



$\square \bigcirc \square \bigcirc \square = \square \text{ (个)}$

注意事:


1. 写清学
姓名、班
学号。

2. 书写工
字迹清
卷面干
整洁。

七、解决问题。(18分)

1. 停车场原有 10 辆小汽车，开走了 4 辆，又开来了 3 辆，现在停车场有多少辆小汽车？

2. 湖里一共有 9 只天鹅，先是飞走了 2 只，然后又飞走了 4 只，现在湖里还剩几只天鹅？



(1) 如果 1 只小猫吃一条鱼，鱼够吗？请圈出正确答案。
(够 不够)

(2) 如果不够，你认为还差 () 条鱼。

附加题。(10分)

填数，使每条线上 3 个数相加为 10。

