

期中测试卷（二）

(时间:60分钟 满分:100分)

学 校

班 级

姓 名

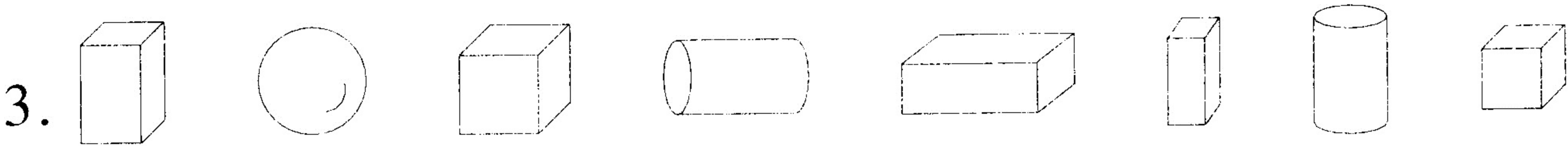
学 号

**注意事项:**  
1. 写清学校、姓名、班级、学号。  
2. 书写工整,字迹清晰,卷面干净、整洁。

题 号	一	二	三	四	五	六	七	附加题	总 分
得 分									

弥 一、填一填。(23分)

1. 最大的一位数是 (      ), 最小的两位数是 (      )。  
2. 10 和 8 中间的数是 (      )。



- (1) 一共有 (      ) 个图形。  
(2) 长方体有 (      ) 个, 正方体有 (      ) 个, 球有 (      ) 个, 圆柱有 (      ) 个。  
(3) 从左数第 3 个是 (      ), 从右数第 2 个是 (      )。

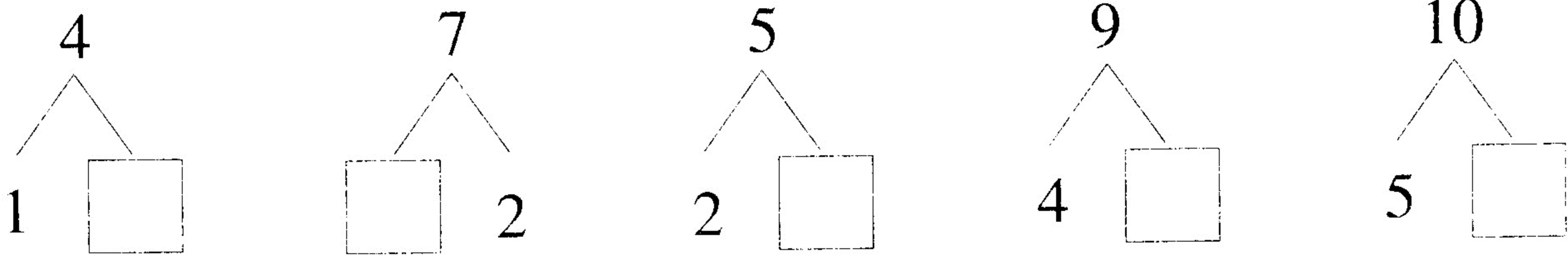
4. 

10	9				5
----	---	--	--	--	---




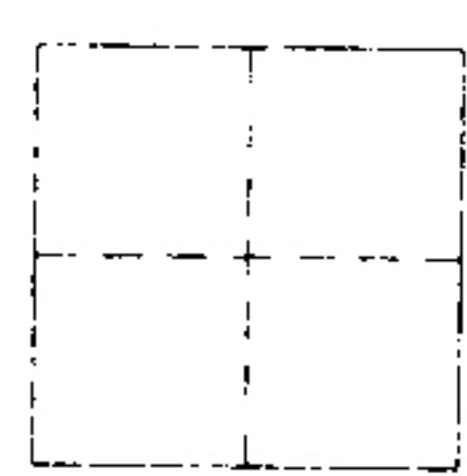
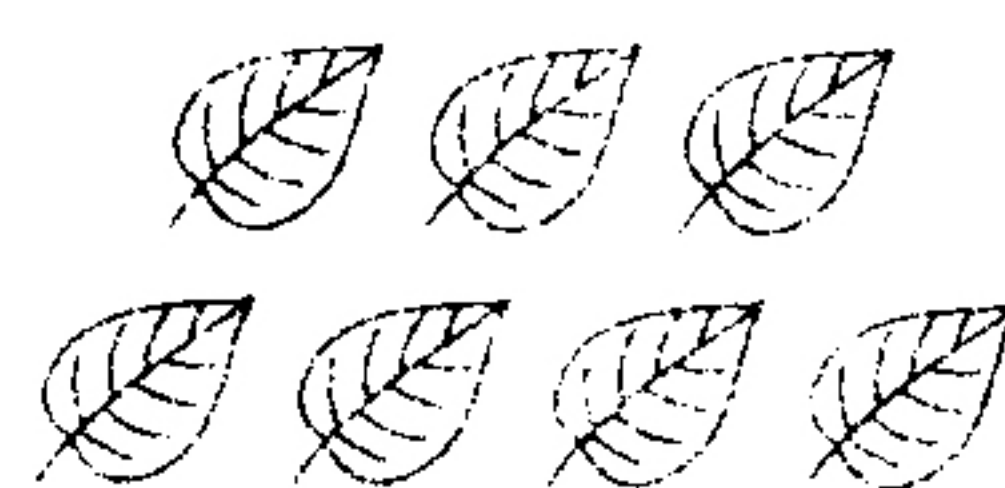



4		6		
---	--	---	--	--

5. 用 5、3 和 2 三个数组成一个加法算式和一个减法算式:

6. 在□里填上合适的数。

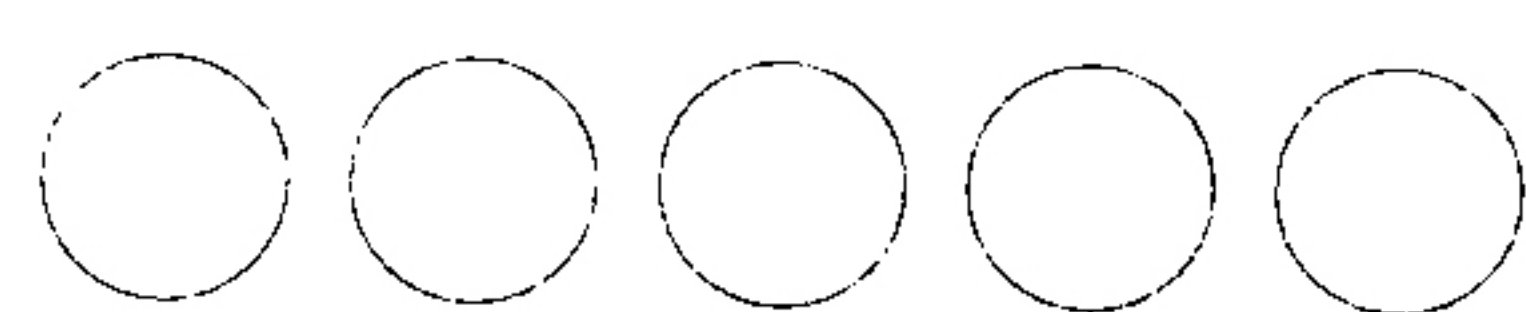


二、看图写数。(4分)



三、画一画，数一数，涂一涂。(8分)


1. 画△和○同样多。



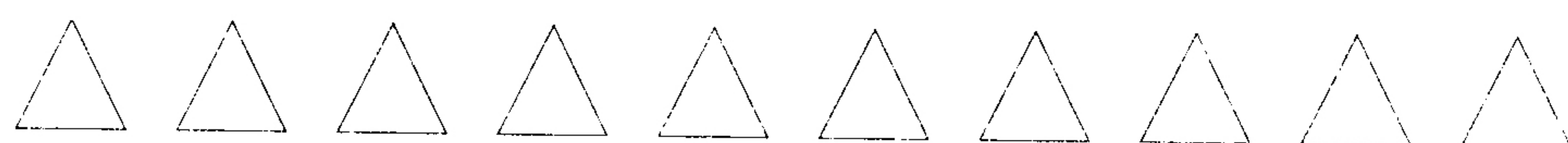
2. 画○比□少 3 个。



3. 把最右边的 2 个苹果涂上红色。



4. 把从左数第 3 个涂上颜色，把从右数第 4 个涂上颜色。



四、计算。(21 分)

1. 直接写得数。(12 分)

$5+3+2=$

$7-4-2=$

$6+3+1=$

10-6-3=

$8-3=$

$4-2=$

$8+2=$

$9-7=$

$0+8=$

$4+5=$

$$6-1=$$

$9-8=$



2. 在□里填上合适的数。(9分)

$10 - \square = 8$

$\square + 4 = 7$

$\square + 6 = 6$

$5 - \square = 0$

$8 - \square = 4$

$2 + \square = 9$

$10 - \square = 1$

$6 - \square = 4$

$9 - \square = 9$

五、在○里填上“>”“<”或“=”。(18分)

$6 + 2 \bigcirc 8$

$8 + 1 \bigcirc 7$

$4 + 3 \bigcirc 6 + 1$

$5 - 5 \bigcirc 1$

$4 \bigcirc 8 - 3$

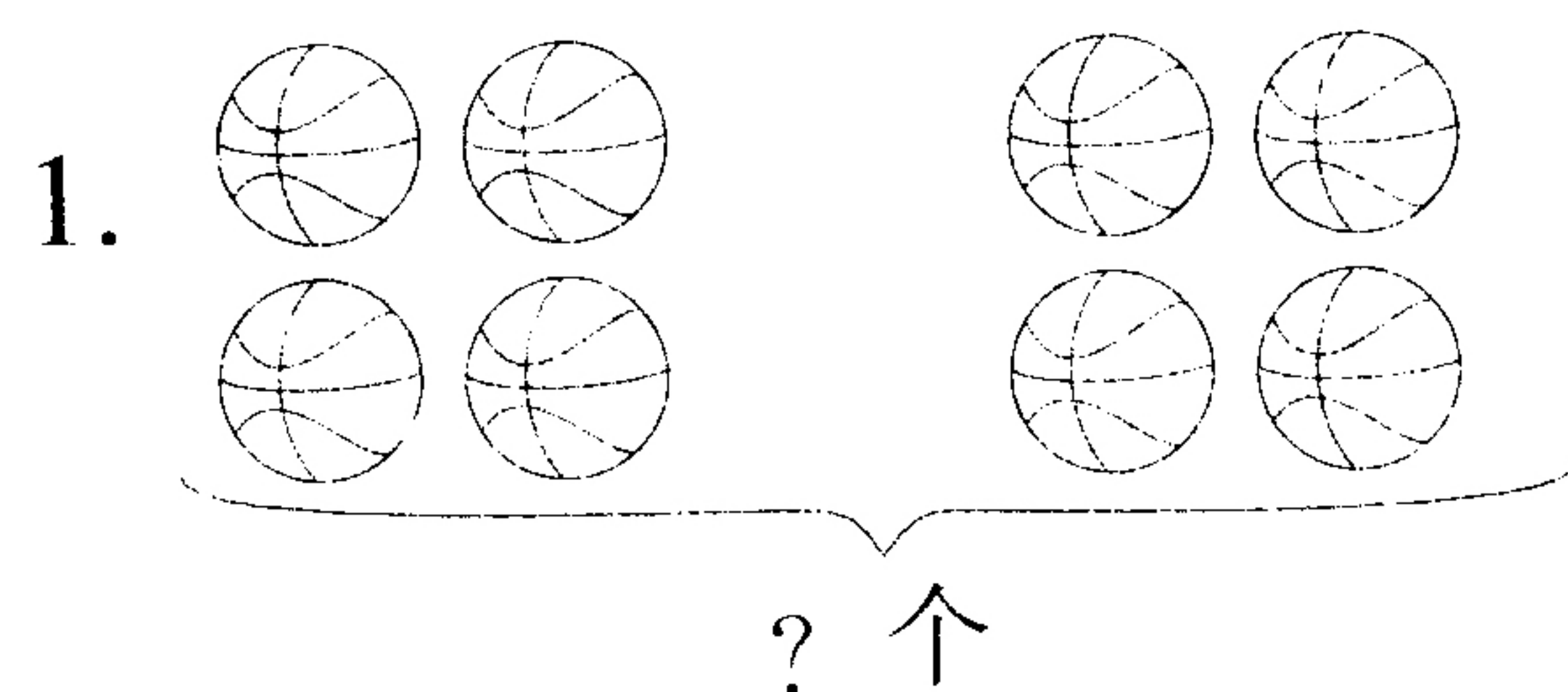
$8 - 5 \bigcirc 2 + 3$

$8 \bigcirc 5 + 5$


$7 \bigcirc 9 - 3$

$10 - 0 \bigcirc 10 + 0$


六、看图列式计算。(16分)



$\square \bigcirc \square = \square \text{ (个)}$

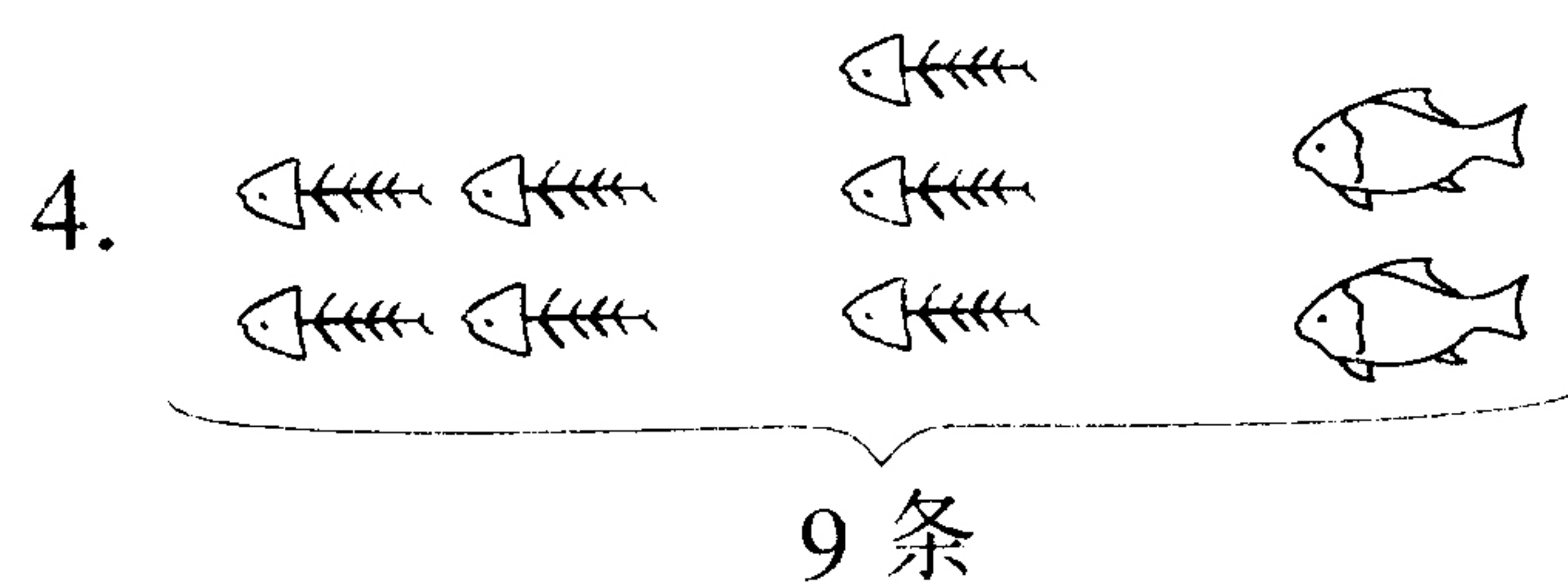


$\square \bigcirc \square = \square \text{ (个)}$



$\square - \square = \square$

$\square - \square = \square$



$\square \bigcirc \square \bigcirc \square = \square \text{ (条)}$

注意事:

1. 写清学  
姓名、班  
学号。

2. 书写工  
字迹清  
卷面干  
整洁。

七、解决问题。(10分)

1. 小白猫和小黑猫去钓鱼，小白猫上午钓了 2 条鱼，下午钓了 3 条鱼。小黑猫一天一共钓了 4 条鱼，它们这一天一共钓了多少条鱼？

2. 妈妈买了 7 个苹果，回来后吃掉了 2 个，现在还剩多少个苹果？

附加题。(10分)

1 只小猴吃 1 个苹果最少用 2 分钟，2 只小猴吃 2 个苹果最少用几分钟？

弥

封

线