

期中考试 全真模拟测试卷

重点学校卷

时间:90 分钟 满分:100 分

题 号	一	二	三	四	五	六	总 分	智慧园
得 分								

tián kòng

一、填 空。(7+7+5+5+3+3=30 分)

1. 按顺序填数。

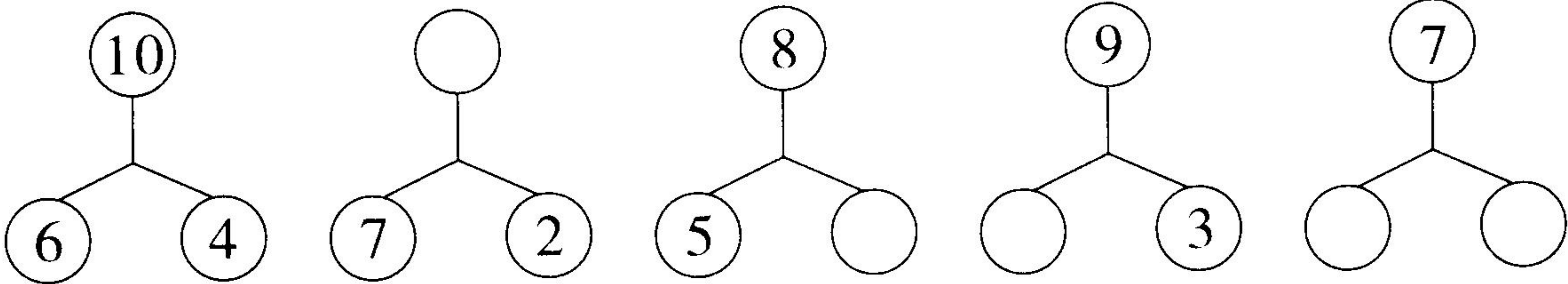
	1		3		5	
--	---	--	---	--	---	--

	8		6	
--	---	--	---	--

2. 在 2、8、0、6、10、5、9 中,一共有()个数,其中最小的数是(),最大的数是(),从右往左数,第五个数是();把这些数按从大到小的顺序写一写。

--	--	--	--	--	--	--

3. 照样子填数。



4. 在○里填“>”,“<”或“=”。

9○6

6-6○5

7+0○6

5+3○3+5

3+4○1+6

5+4○9

5. 在()里填入合适的数。

$2 + () = 5$ $8 - () = 0$ $() + 0 = 4$

6. ☆☆☆☆☆☆☆ (1) ☆比△多()个。

◇◇◇ (2) ◇比△少()个。

△△△△△ (3) △再添上()个就和☆一样多。

lián xiàn
二、连线。(10分)

7-4

2+8

5+2

7+2

4+4

2+2

6+4

10-3

3-0

3+5

10-1

4+0

kǒu suàn
三、口算。(20分)

$7 + 1 =$

$6 + 3 =$

$4 + 2 =$

$2 + 5 =$

$9 - 3 =$

$8 - 1 =$

$10 - 4 =$

$9 - 2 =$

$7 + 0 =$

$6 + 4 =$

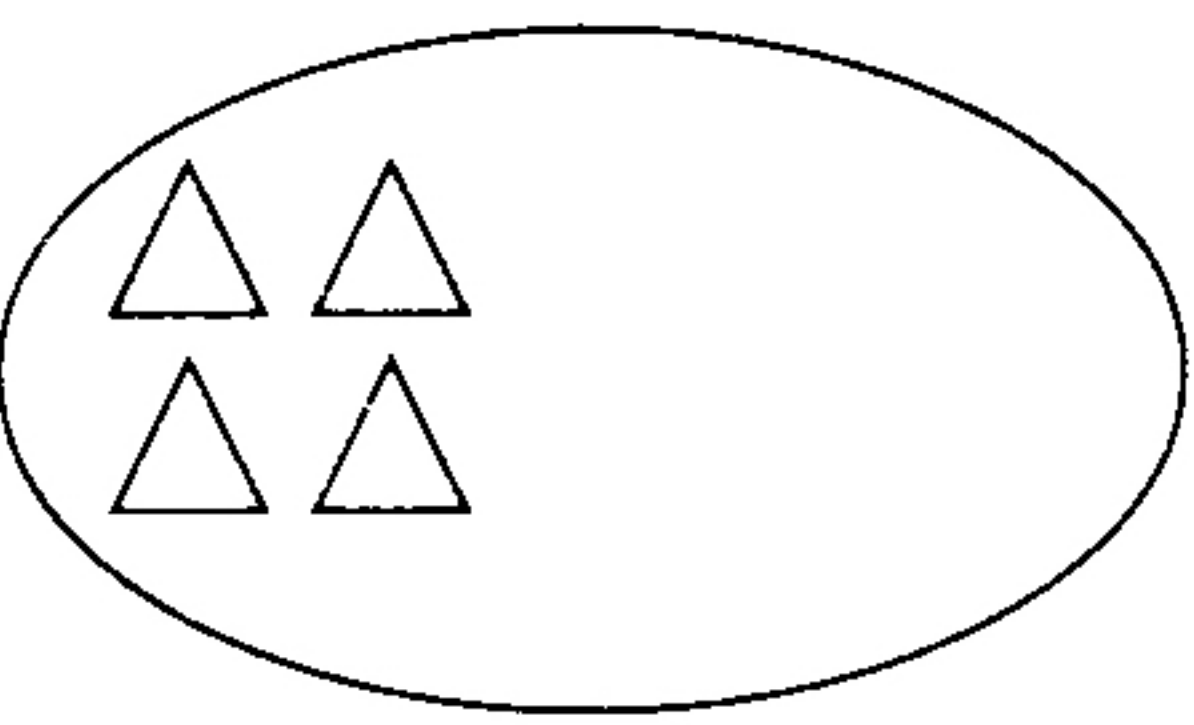
kàn tú jì xù huà
四、看图继续画。(8分)

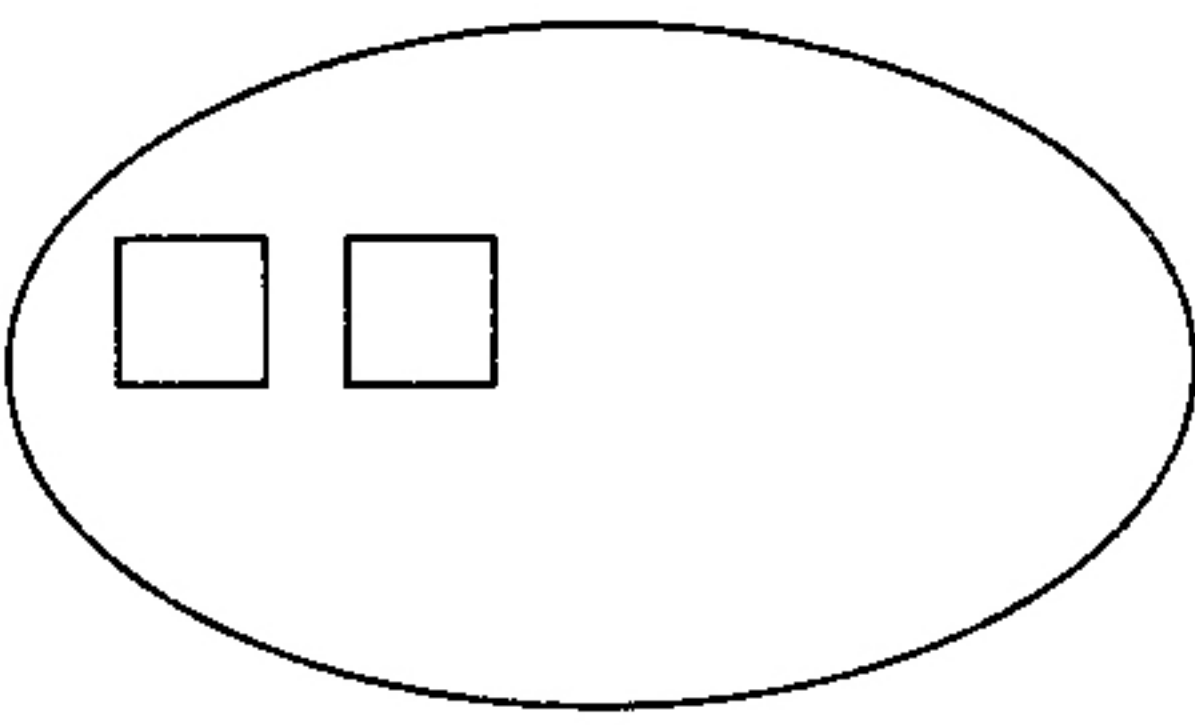
7

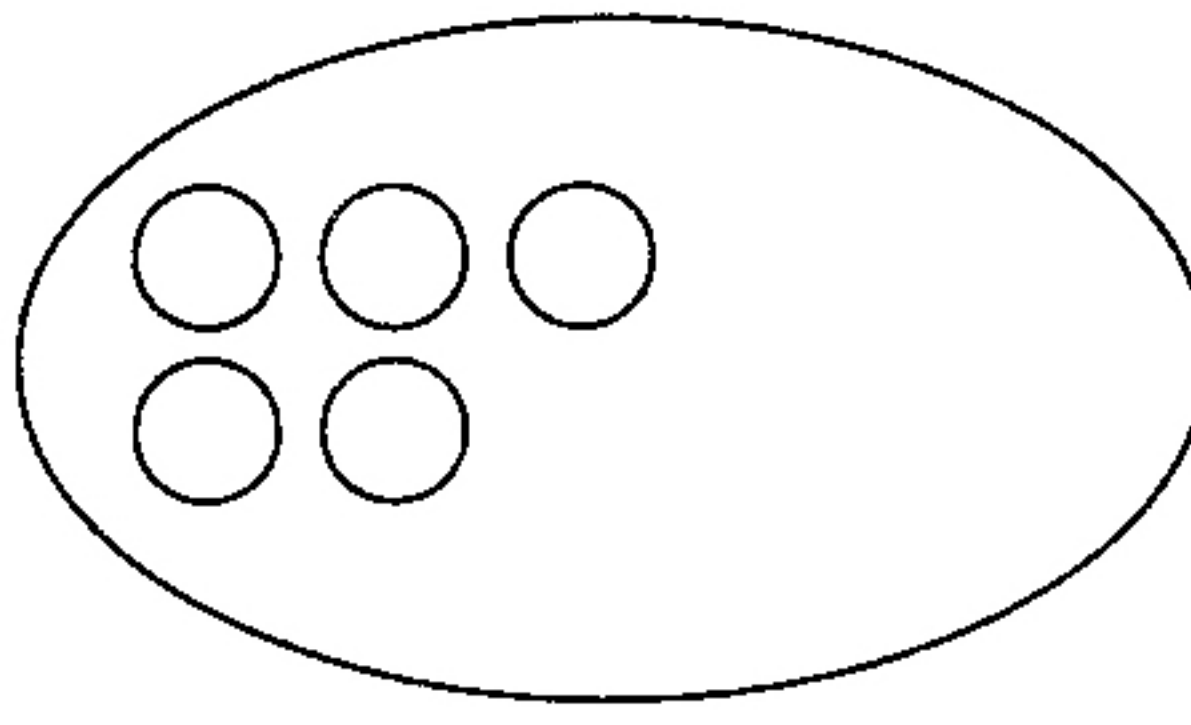
4

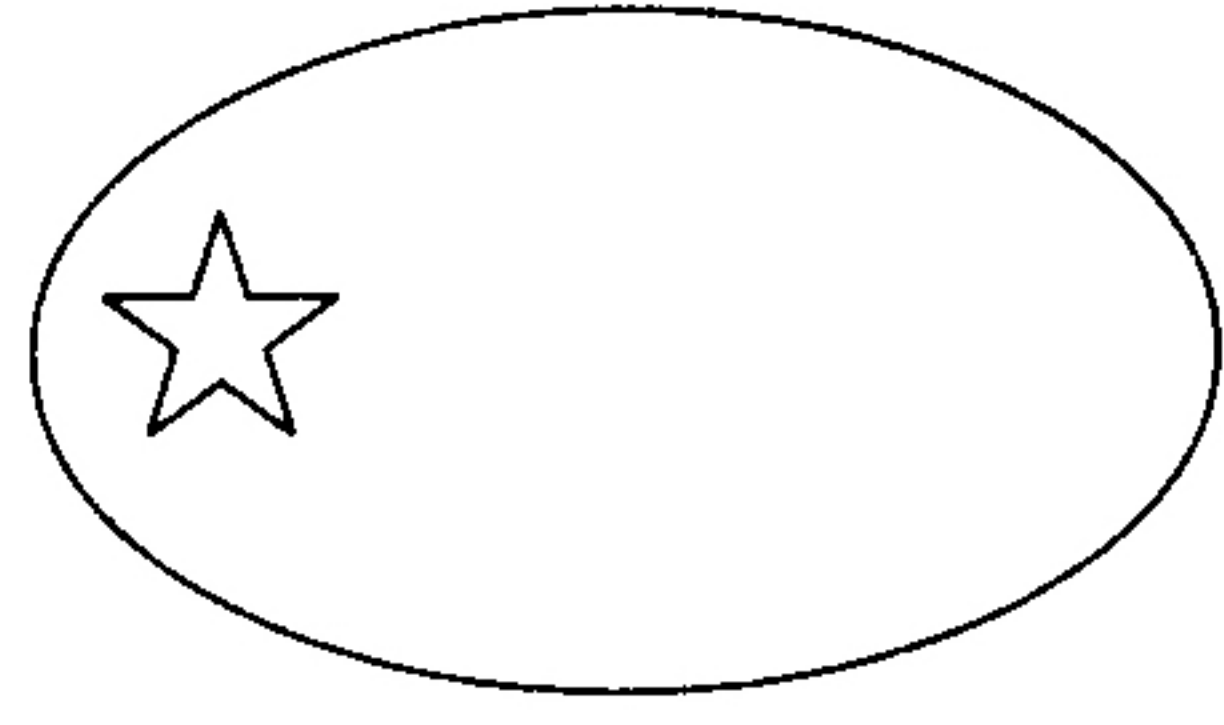
10

3











kàn tú liè shì jì suàn
五、看图列式计算。(22分)

1. (4分)





?只

○

=

2. (4 分)

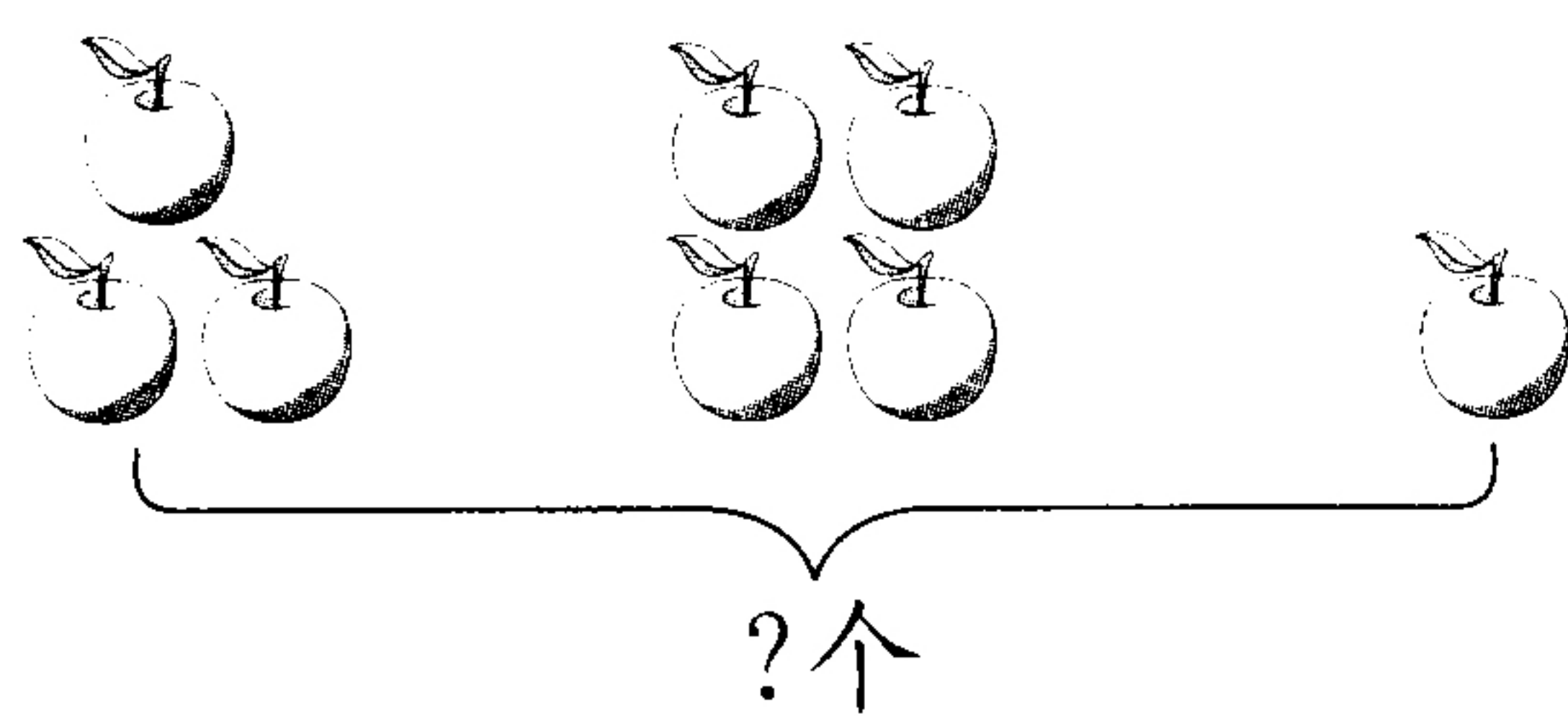


$$\square \bigcirc \square = \square$$

3. 有六个桃子，可以怎么分？(8 分)

6	5				
	1				

4. (6 分)



$$\square + \square + \square = \square$$

jiě jué wèn tí

六、解决问题。(10分)

1. 树上有7只小鸟,飞走4只,还剩几只?(5分)

$$\square \bigcirc \square = \square (\text{只})$$

2. 小白兔拿了10个红萝卜,小灰兔拿了4个红萝卜,

问:小灰兔再拿多少个红萝卜,它们两个的就一样多?(5分)



fù jiā tí

七、附加题。(10分)

