
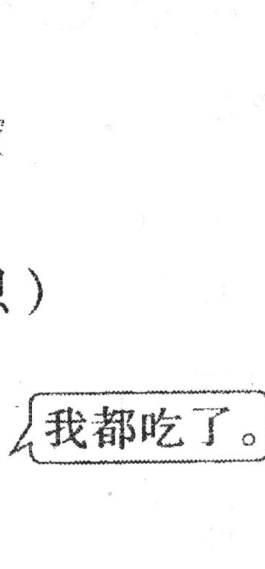





四、看图列式计算。(每题 4 分, 共 16 分)

1. 


$$\square + \square = \square \text{ (只)}$$

2.  我都吃了。

$$\square \bigcirc \square = \square \text{ (个)}$$


3. 

$$\square \bigcirc \square \bigcirc \square = \square \text{ (个)}$$

4. 


$$\square \bigcirc \square = \square \text{ (只)}$$

五、解决问题。(第 1、2 题每空 1 分, 列式计算 5 分, 第 3、4 题 5 分共 26 分)

1. 


左边有  $\square$  只, 右边  $\square$  只, 一共有  $\square$  只。

$$\square \bigcirc \square = \square \text{ (只)}$$

2. 

一共有  $\square$  只, 飞走了  $\square$  只, 还剩  $\square$  只。

$$\square \bigcirc \square = \square \text{ (只)}$$

3.  两人一共踢了几下?

$$\square \bigcirc \square = \square \text{ (下)}$$

4.  我付给售货员阿姨 9 元钱。 应找回多少元钱?

$$\square \bigcirc \square = \square \text{ (元)}$$