


微山县 2018-2019 学年度第一学期
一年级数学期中试题


时间：60 分钟 满分：100 分 其中卷面 5 分

注：监考老师读题（读一题做一题）

一、数一数，比一比。（6 分）



() ○ ()



() ○ ()

二、填一填。（27 分）

- 和 8 相邻的两个数是()和()。
- 5 和 7 中间的数是()，比 9 多 1 的数是()。
- 4 的前面一个数是()，7 后面一个数是()。
- 10 比 8 多()，()比 5 少 2, 7 比()多 4。

5.

2			5	6	
---	--	--	---	---	--

	8			5	4
--	---	--	--	---	---

6. 在 () 里填上合适的数。

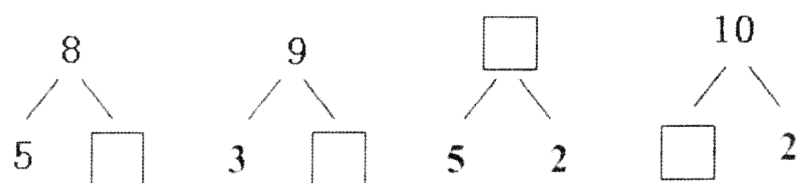
$4 + () = 6$ $5 + () = 10$ $3 + () = 8$ $() - 2 = 6$

7.

9	3	5	7	10	0	4	1
---	---	---	---	----	---	---	---

上面这些数中，从左往右数，第 2 个数是()，请圈出左面 2 个数，从右往左数，7 是第()个数。最大的数是()，最小的数是()。

8. 在方框里填上合适的数。



三、我会算。（10 分）


$8 - 5 =$ $4 + 5 =$ $7 - 3 =$ $1 + 4 + 2 =$ $7 - 2 =$
 $6 - 0 =$ $10 - 7 =$ $5 - 2 + 2 =$ $9 - 2 - 4 =$ $2 + 4 =$

四、我会排。（5 分）

把 6、8、5、0、2 按顺序排一排。

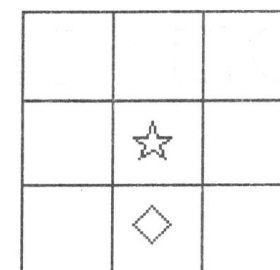
() < () < () < () < ()

五、把形状相同的物体用线连起来。（4 分）

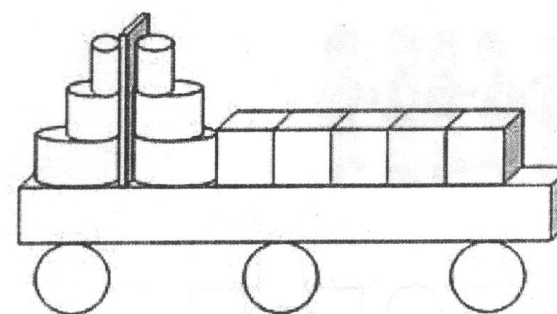


六、找位置，画一画。（3 分）

- 在☆的上面画▲。
- 在☆的左面画○。
- 在◇的右面画□。



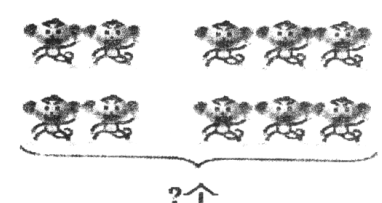
七、数出下面图形的个数。（4 分）




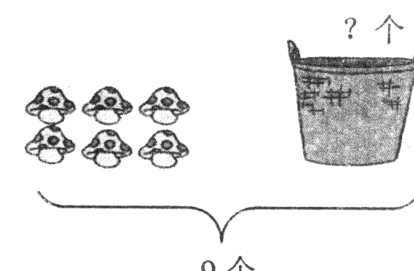
有 () 个； 有 () 个；


有 () 个； 有 () 个。

八、看图列式计算。(16分)

1. 
 $\square \bigcirc \square = \square$ (只)

2. 
 $\square \bigcirc \square = \square$ (只)

3. 
 $\square \bigcirc \square = \square$ (个)

4. 
 $\square \bigcirc \square \bigcirc \square = \square$ (个)


5. 

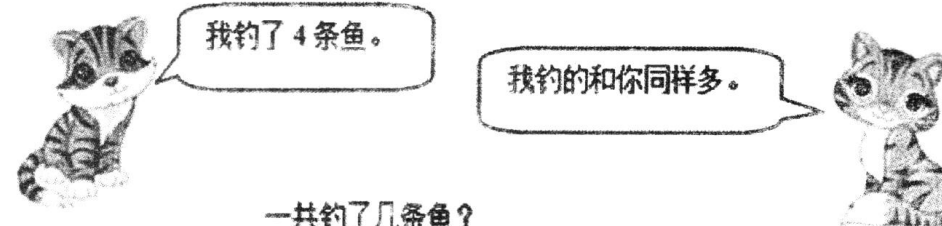
加法算式: $\square \bigcirc \square = \square$ $\square \bigcirc \square = \square$

减法算式: $\square \bigcirc \square = \square$ $\square \bigcirc \square = \square$

九、走进生活。(20分)

1. 
 一共有多少个苹果?
 $\square \bigcirc \square = \square$ (个)

2. 荷叶上一共有 7 只青蛙。 
 还剩几只青蛙?
 $\square \bigcirc \square = \square$ (只)

3. 
 一共钓了几条鱼?
 $\square \bigcirc \square = \square$ (条)

4. 用自己的方式表示出下列算式的意思。

$1+4=\square$

$4-2=\square$