

# 2018—2019 学年第一学期二年级数学半期质量检测

(完卷时间: 60 分钟 满分: 100 分)

## 一、填空。(25 分)

1. 根据生活实际, 在横线上填上适当的长度单位。



封面长约 21\_\_\_\_\_ 高约 70\_\_\_\_\_ 高约 2\_\_\_\_\_ 长约 65\_\_\_\_\_



2.

表示: \_\_\_\_\_ 个 \_\_\_\_\_ 相加。 加法算式: \_\_\_\_\_

乘法算式: \_\_\_\_\_ 或 \_\_\_\_\_

应用的口诀: \_\_\_\_\_

3. 在括号里填上 “>”、“<” 或 “=”。

$$53-6 ( ) 53-7$$

$$45+12 ( ) 67$$

$$40 \text{ 厘米} + 60 \text{ 厘米} ( ) 1 \text{ 米}$$

$$1 \text{ 米} - 6 \text{ 厘米} ( ) 95 \text{ 厘米}$$

$$1 \text{ 米} ( ) 99 \text{ 厘米}$$

$$5 \times 3 ( ) 5 + 3$$

4. 比 64 多 29 的数是 ( ), ( ) 比 82 少 16。

5. 找规律, 填数。

(1) 18、27、36、45、( )、( )、( )。

(2) 82、74、66、( )、50、( )、( )。

6. 一个三角形中, 至少有 ( ) 个锐角, 最多有 ( ) 个直角或钝角。

$$7. 4 \times 3 - 4 = ( ) \times ( ) \quad 3 \times 2 + 3 \times 3 = ( ) \times ( )$$

## 二、选择正确答案的序号填在括号里。(5 分)

1. 我们班黑板的长约是 ( )。

- ① 4 厘米 ② 4 米 ③ 10 米 ④ 6 米

2. 比 36 米多 6 米的数是 ( )。

- ① 40 米 ② 30 米 ③ 42 米 ④ 24 米

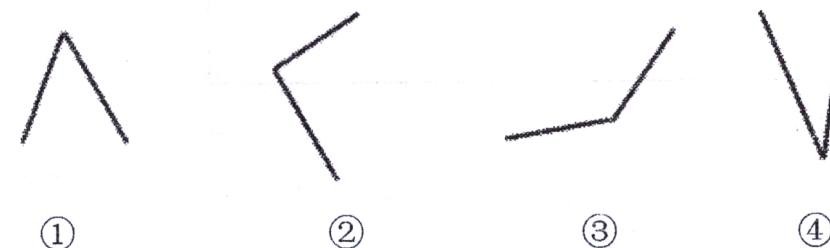
3. 角的大小和角两边的长短 ( )

- ① 有关 ② 无关 ③ 不能确定

4. 小红有 25 朵花, 比小明少 5 朵。小明有 ( ) 朵花。

- ① 20 ② 30 ③ 5 ④ 40

5. 下面的角中, ( ) 是钝角。



## 三、计算。(32 分)

1. 口算。(20 分)

$$3 \times 2 =$$

$$5 \times 6 =$$

$$6 \times 3 =$$

$$2 \times 4 =$$

$$4 \times 5 =$$

$$4 \times 4 =$$

$$5 \times 5 =$$

$$6 \times 4 =$$

$$40 + 24 =$$

$$53 - 8 =$$

$$27 + 9 =$$

$$78 - 70 =$$

$$3 \times 4 + 3 =$$

$$6 \times 2 - 8 =$$

$$3 \times 5 - 9 =$$

$$6 \times 6 + 20 =$$

$$46 + 50 - 6 =$$

$$80 + 2 - 40 =$$

$$96 - (40 - 4) =$$

$$76 - 8 - 30 =$$

2. 竖式计算。(12 分)

$$36 + 28 =$$


$$75 - 37 =$$

$$72 + 16 - 34 =$$


$$93 - (29 + 18) =$$

四、量一量、画一画。(6分)

1. 先量出下面线段的长度，再在右边画一条比它长 2 厘米的线段。



2. 画出你喜欢的图形，表示“ $3 \times 5$ ”的意义。



3. 画一个小于直角的角。

五、解决问题。(32分)

1. 草地上有白羊 45 只，黑羊比白羊少 8 只。黑羊有多少只？

\_\_\_\_\_

答：黑羊有 ( ) 只。

2. 学校合唱队有 32 名男生，女生比男生多 18 名。女生有多少名？合唱队一共有多少人？

\_\_\_\_\_

答：女生有 ( ) 名，合唱队一共有 ( ) 人。

3. 一本书 95 页，小明三天看完。第一天看了 27 页，第二天看了 30 页，第三天看了多少页？

\_\_\_\_\_

答：第三天看了 ( ) 页。

4.



(1) 小红要买 3 个笔盒，一共用多少钱？

\_\_\_\_\_

答：一共用 ( ) 元钱。

(2) 小明要买一支笔、一个笔盒和一个胶带一共用多少钱？

\_\_\_\_\_

答：一共用 ( ) 元钱。


(3) 你还能提出什么数学问题？

\_\_\_\_\_

\_\_\_\_\_

答：

5. 一共有多少只小鸡？



\_\_\_\_\_

答：一共有 ( ) 只小鸡。