


2018—2019学年度上学期 小学二年级数学练习题（中段）

(P2—51页)

一、填空。(第4、6、7、8小题各3分，其余每小题2分，共20分)

1 在下面的()填上“米”或“厘米”。



教室的墙高

3 ()



鞋子长

26 ()



洗衣机高

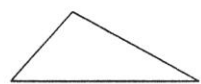
90 ()



集装箱长

12 ()


2 数一数，下面的图形中各有几个角？填在()里。




() 个角



() 个角



() 个角



() 个角

3 按要求写算式。

$$13+13+13=\square\bigcirc\square$$

$$5\text{和}9\text{相加:}\square\bigcirc\square$$

$$\text{两个乘数都是}8:\square\bigcirc\square$$

$$5\text{个}9\text{相加:}\square\bigcirc\square$$

4. 在下面的()里填上“>”、“<”或“=”，在□里填上合适的数。

$$2\text{米}\bigcirc 25\text{厘米}$$

$$57+33\bigcirc 80$$

$$68-\square<40$$

$$1\text{米}\bigcirc 100\text{厘米}$$

$$6+3\bigcirc 6\times 3$$

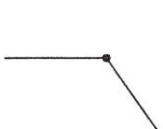
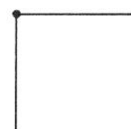
$$62+\square>80$$

5. 请你先用加法算式表示下面的乘法算式，再算出得数。

$$9\times 5=\underline{\hspace{2cm}}=(\hspace{1cm})$$

$$16\times 3=\underline{\hspace{2cm}}=(\hspace{1cm})$$

6 连一连。



钝角

锐角

直角

7. □里应该填几？

$$83-29=\square 4$$

$$36+54=\square 0$$

$$90-18=\square 2$$

$$37+26=\square 5$$

$$91-75=\square 6$$

$$45+38=\square 3$$

8. 在□里填上合适的数。

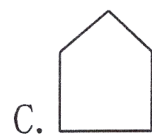
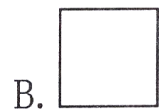
$$\begin{array}{r} \square 8 \\ - 3 \square \\ \hline 4 6 \end{array}$$

$$\begin{array}{r} \square 6 \\ + 2 \square \\ \hline 7 5 \end{array}$$

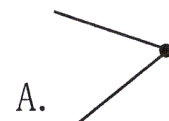
$$\begin{array}{r} \square 2 \\ - \square \square \\ \hline 6 9 \end{array}$$

二、选择正确答案的序号填在()里。(5分)

9 围成下面图形的线段，数量最多的是()。



10 下面各角，()是钝角。



11. 下面各算式，计算结果最大的是()。

A. 15×3

B. $15+3$

C. 3×3

12 求10个5相加的和，正确的列式是()。

A. $10+5$

B. 5×10

C. $10+10$

13. 下面各题的计算结果，与其它两题不相等的是()。

A. $95-28-42$

B. $95-(28+42)$

C. $95-28+42$

三、我会算。(30分)

14. 口算。(6分)

$$12+80=$$

$$95-60=$$

$$43+17=$$

$$64-40=$$

$$37-20=$$

$$19+80=$$

$$81-20=$$

$$13+13=$$

$$14+25=$$

$$50-15=$$

$$24+36=$$

$$73-23=$$

15 列竖式计算下面各题。(第一行每题2分，第二行每题3分，共15分)

(1) $59-36=$

(2) $42+48=$

(3) $80-25=$

(4) $92-56-19=$

(5) $29+61-74=$

(6) $15+49+27=$

16. 直接写出得数。(9分)

$$\begin{array}{lll} 62-26+38= & 40+19-24= & 80-43-17= \\ 34+56-21= & 14+58+23= & 92-(24+36)= \\ 74-(56-34)= & 27+(48-29)= & 76-(27+13)= \end{array}$$

四、动手画一画，量一量。(第17小题2分，第18、19小题各3分，共8分)

17 连接右图中每两个点画线段。

(1) 一共能画()条线段。

(2) 量出每条线段的长度，标在图中。

18. 在下面画一个锐角、一个钝角和一个直角。(3分)

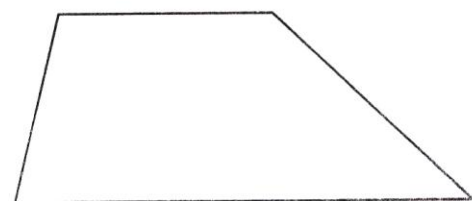
锐角:

钝角:

直角:


19. (1) 右边的图形中有()个锐角，()个钝角。

(2) 在右图中画一条线段，使它有3个直角。



五、看图写算式。(每小题3分，共12分)

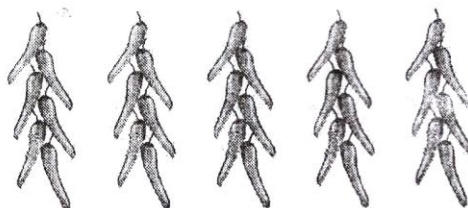
20



加法算式: _____

乘法算式: $\square \times \square$

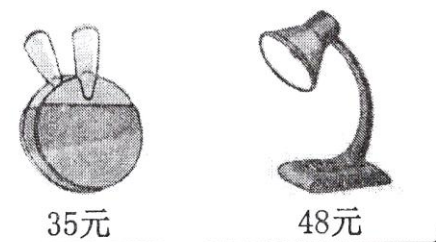
21



加法算式: _____

乘法算式: $\square \times \square$

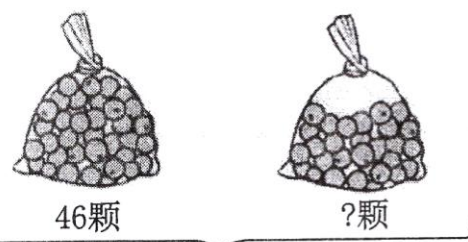
22.



共?元

$$\square \bigcirc \square = \square \text{ (元)}$$

23



共80颗

$$\square \bigcirc \square = \square \text{ (颗)}$$

六、我会解决问题。(每小题5分，共25分)


24.



男生有38人，女生有多少人?



25.



一共可以坐多少人?




26.



校园里的杨树和柳树一共有多少棵?



27.



营业员应找给妈妈多少元?



28.



他们三人一共有多少节?

