

期中素质测评试卷

(总分:100 分 时间:90 分钟)

题 号	一	二	三	四	五	六	七	总 分
得 分								

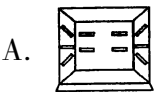
一、填空乐园。(12 分)

- 25 的 3 倍是(75),250 是 5 的(50)倍。
- 在计算 $498-(132+156)$ 时,应先算(加)法,后算(减)法;在计算 $35+18\div3$ 时,应先算(除)法,后算(加)法。
- 光明小学二年级有 237 人,比三年级少 29 人。二年级和三年级共有(503)人。
- $654-236-148=654-(\boxed{236}+\boxed{148})$, $579-(156+237)=579-\boxed{156}-\boxed{237}$ 。
- 32 与 12 的差再除以 4,结果是(5)。

二、将正确答案的序号填在括号里。(8 分)

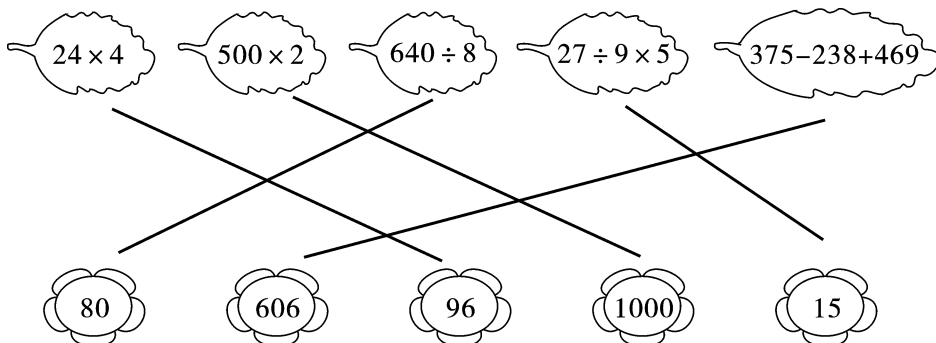
- 在一个算式里,既有小括号,又有乘、除法,要先算(C)。
A. 乘法 B. 除法 C. 小括号里面的
- 40×5 的积的末尾共有(B)个 0。
A. 一 B. 两 C. 三
- $630\div9$ 的商是(B)位数。
A. 一 B. 两 C. 三

4.  下面哪幅图是小东看到的? 正确的答案是(A)。

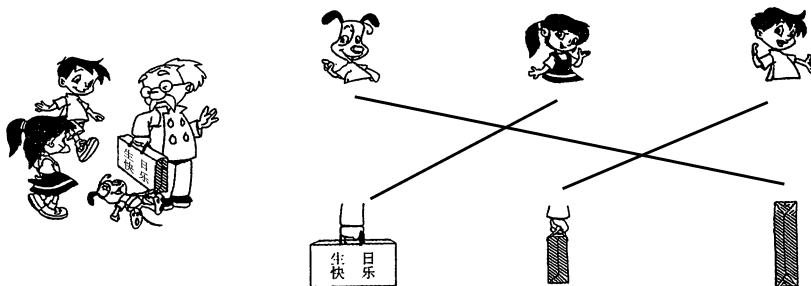


三、巧手连线。(11 分)

1. 将算式与相应的得数连起来。(5 分)




2. 他们分别看到了礼盒的哪一面?(6 分)



四、你能指出下面这些图分别是谁看到的吗? 将他们的名字填在()里。(8 分)



五、你能分辨出小猫看到的是哪个画面吗? 在下面的()里画“√”。(4 分)



六、计算乐园。(27 分)

1. 用竖式计算。(9 分)

$$526+138+207=871$$

$$\begin{array}{r} 526 \\ 138 \\ + 207 \\ \hline 871 \end{array}$$

$$900-245-318=337$$

$$\begin{array}{r} 900 \\ - 245 \\ \hline 655 \\ - 318 \\ \hline 337 \end{array}$$

$$267+178-236=209$$

$$\begin{array}{r} 267 \\ + 178 \\ \hline 445 \\ - 236 \\ \hline 209 \end{array}$$

2. 计算下面各题。(18 分)

$$\begin{aligned} & (83-76) \times 3 \\ &= 7 \times 3 \\ &= 21 \end{aligned}$$

$$\begin{aligned} & 46-24 \div 6 \\ &= 46-4 \\ &= 42 \end{aligned}$$


$$\begin{aligned} & 21 \div (22-15) \\ &= 21 \div 7 \\ &= 3 \end{aligned}$$

$$\begin{aligned} & 63 \div 3 + 29 \\ &= 21 + 29 \\ &= 50 \end{aligned}$$

$$\begin{aligned} & 43 \times 2 - 50 \\ &= 86 - 50 \\ &= 36 \end{aligned}$$

$$\begin{aligned} & 720 \div 8 - 26 \\ &= 90 - 26 \\ &= 64 \end{aligned}$$

七、生活中的数学。(30 分)

1. 小白兔采了 26 个, 送给小灰兔 8 个, 剩下的留给 3 个兔宝宝, 平均每个兔宝宝可以分得几个? (5 分)

【答案】 $(26-8) \div 3 = 6$ (个)

答: 平均每个兔宝宝可以分得 6 个。

2. 小云买 1 瓶饮料用了 2 元,小丽买 5 瓶饮料用了 15 元。小云买的饮料每瓶比小丽买的便宜多少钱? (6 分)

【答案】 $15 \div 5 - 2 = 1$ (元)

答:小云买的饮料每瓶比小丽买的便宜 1 元。

3. 新学期,三年级买生字本、算术本和美术本共 543 本,其中生字本 278 本,算术本 149 本。美术本多少本? (6 分)

【答案】 $543 - 278 - 149 = 116$ (本)

答:美术本 116 本。

4. 星光影院有上下两层,楼下有 800 个座位,楼上的座位比楼下少 420 个。这个影院一共有多少个座位? (6 分)

【答案】 $800 + 800 - 420 = 1180$ (个)

答:这个影院一共有 1180 个座位。

5. 军军今年 18 岁,爸爸的年龄是军军年龄的 3 倍。请问:14 年前爸爸的年龄是军军的年龄的多少倍? (7 分)

【答案】 $18 \times 3 = 54$ (岁) $54 - 14 = 40$ (岁)

$18 - 14 = 4$ (岁) $40 \div 4 = 10$

答:14 年前爸爸的年龄是军军的年龄的 10 倍。