



期中测试卷

[考试范围:第1~4单元]

时间:90 分钟

满分:100 分

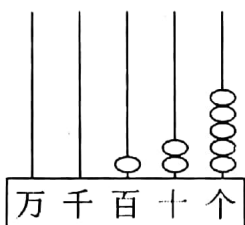
题号	一	二	三	四	五	六	总分
得分							

姓名
班级



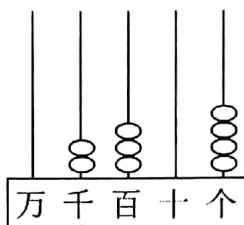
一、快来填一填。(38 分)

1. 看图写数并读一读。



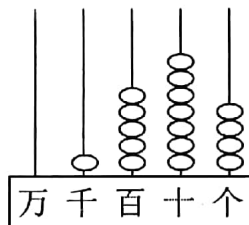
写作: _____

读作: _____



写作: _____

读作: _____



写作: _____

读作: _____

2. 72 是 8 的()倍,72 的 8 倍是()。

3. 三位数除以一位数,商可能是()位数,也可能是()位数。

4. 42×8 的积是(),积的最高位是(),它是一个()位数。

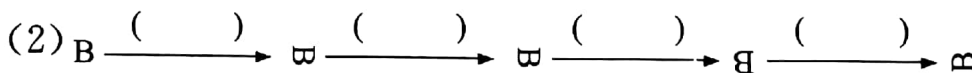
5. 由两个 8 和两个 0 组成的四位数中,只读一个零的数是()和()。

6. 已知 $\triangle \div \square = 12 \cdots 4$, \square 最小是(),这时 \triangle 是()。

7. 顺达超市上月的利润是 8908 元,约是()元。

8. 幼儿园有 104 个小皮球,如果每 8 个小皮球装一盒,一共能装()盒,如果把这些小皮球分给各班小朋友,每个班分 9 个,最多可分给()个班。

9. 请在括号里填上“平移”和“旋转”。



10. 里最大能填几?

$48 \square < 486$

$64 \square 8 < 6459$

$810 > 8 \square 1$

$9830 > 9 \square 64$

$931 > 93 \square$

$6354 > 63 \square 3$

$7 \times (\quad) < 54$

$40 > 6 \times (\quad)$

$42 \div (\quad) > 20$

$9 \times (\quad) < 30$

$20 > 2 \times (\quad)$

$(\quad) \times 3 < 20$

二、快来判一判。(对的画“√”,错的画“×”)(5分)

1. 770 百位上的“7”表示的数比十位上的“7”表示的数大。 ()

2. 58 除以 4, 商 13, 余数是 6。 ()

3. $\begin{array}{r} 38 \\ \times 5 \\ \hline 190 \end{array}$ 和 $\begin{array}{r} 6 \\ 6 \overline{)42} \\ \underline{36} \\ 6 \end{array}$ 都是正确的。 ()

4. $\square \div 6 = \square \cdots \square$, 余数只能填 1、2、3、4、5。 ()

5. 因为 $428 \times 3 = 1284$, 所以三位数乘一位数的积一定是四位数。 ()

三、快来选一选。(10分)

1. 一个数, 千位上和百位上的数字都是 8, 其他各数位上都是 0, 这个数写作()。

A. 8800

B. 8080

C. 8008

2. 拧水龙头是()现象。

A. 平移

B. 旋转

C. 平移和旋转

3. 计算三位数乘一位数时, 如果十位上乘得的积满 40, 就向()位进 4。

A. 个

B. 十

C. 百

4. $435 \div 7 = \triangle \cdots 1$ 的验算式是()。

A. $7 \times \triangle + 1 = 435$

B. $(\triangle + 1) \times 7 = 435$

C. $(\triangle + 7) \times 1 = 435$

5. 根据下面的信息, 你知道()的酱油最便宜。

	利民商店	幸福商店	民生商店
数量/瓶	6	7	8
总价/元	66	84	104

A. 利民商店

B. 幸福商店

C. 民生商店

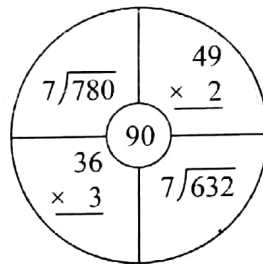
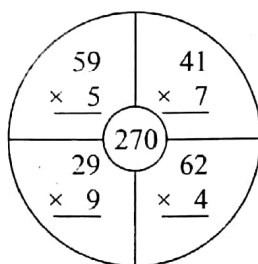
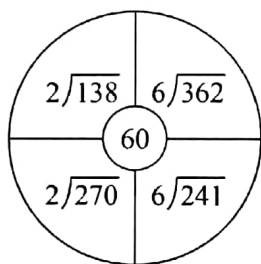


四、快来算一算。(21 分)

1. 直接写得数。(6 分)

$804 \div 4 =$	$100 \times 2 =$	$40 \times 8 =$	$240 \div 4 =$
$300 \times 6 =$	$920 \div 4 =$	$604 \div 2 =$	$6 \times 80 =$
$510 \div 5 =$	$960 \div 4 =$	$450 \div 3 =$	$305 \times 2 =$

2. 估一估, 哪个算式的结果最接近圈中的数, 在它的上面画“√”。(3 分)



3. 用竖式计算。(带☆题要验算)(12 分)

$$\star 514 \div 3 =$$

$$83 \times 3 =$$

$$791 \div 7 =$$


$$160 \times 5 =$$

$$\star 720 \div 6 =$$

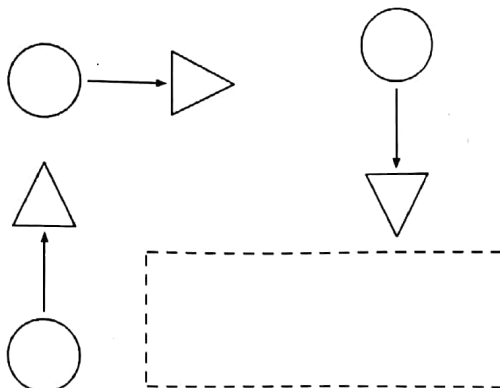
$$305 \times 7 =$$

五、快来做一做。(12 分)

1. 画出下列图形的对称轴。(8 分)



2. 根据前三幅图形的规律, 在方框中画出合适的图案。(4 分)



六、快来解决问题。(14分)

1. 4位老师带60名学生去参观植物园,怎样买票最合算?(4分)

票价

成人	8元
学生	4元
团体(每人)	5元

2. 贝贝家距学校504米,她每天上学大约走8分钟;丽丽家距学校390米,她每天上学大约走6分钟。

(1) 贝贝和丽丽两人谁走得快一些?(3分)

(2) 一天,贝贝和丽丽同时从家出发去学校,丽丽保持往常的速度,贝贝要想和丽丽同时到校,每分钟要走多少米?(3分)

3.



每小时行615千米



每小时行80千米



每小时行5千米

提出数学问题并解答。(4分)

