

第八周考卷

【观察物体(一)】


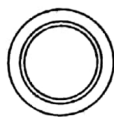
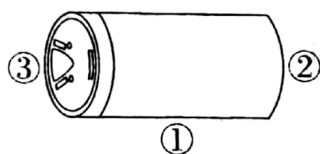
时间:60 分钟

满分:100 分

题号	一	二	三	四	五	总分
得分						

一、填一填。(每空3分,共36分)

1. 下面右边的三幅图分别是在哪个位置看到的? 把相应的序号填在括号里。



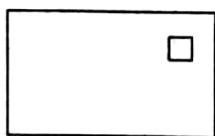
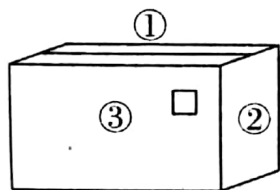


()

()

()

2. 下面右边的三幅图分别是从哪个位置看到的? 把相应的序号填在括号里。




()

()

()

3. 下面右边的图分别是谁看到的? 在括号里填一填。

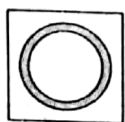
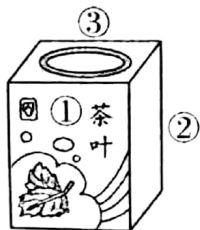


()

()

()

4. 这三张照片, 分别是茶叶盒的哪个方位拍的? 把相应的序号填在括号里。



()


()

()




二、连一连。(34 分)

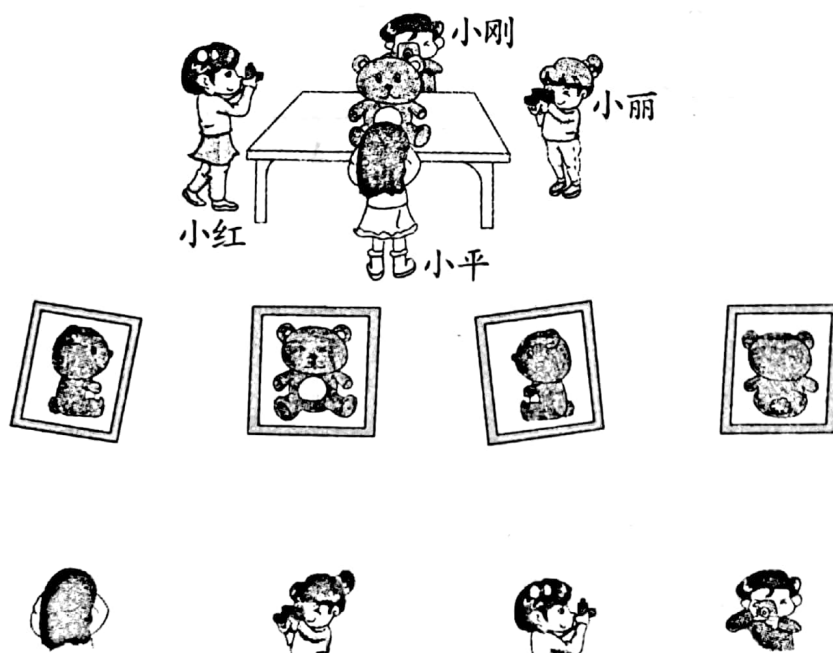
1. 三只小动物分别看到的是长方体的哪个面？连一连。(6 分)





2. 小鸟、小猫、小猴看到的房子分别是怎样的？连一连。(6 分)



3. 下面小熊的照片分别是谁拍到的？连一连。(8 分)



4. 右边的茶杯图分别是谁看到的？连一连。(8 分)

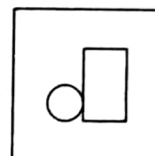
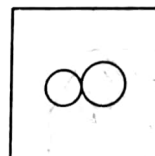
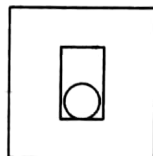
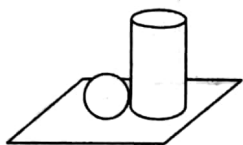


5. 下面右边的图形分别是从哪个位置看到的？连一连。(6 分)

正面


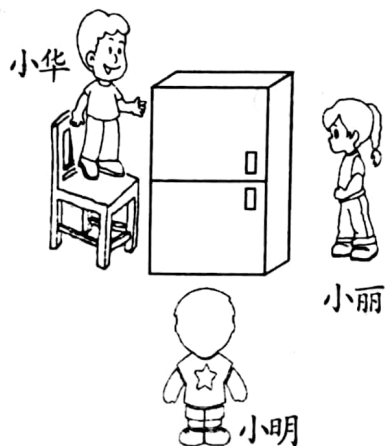
左面

上面

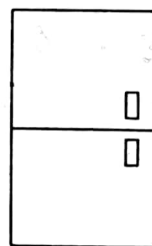


三、认真观察，并完成下面各题。(12 分)

1.



A




B



C

小明看到的应该是()。

2.



下面的图分别是谁看到的？把名字写在下面的括号里。



()




()



()

四、佳佳看到的分别是哪一幅图？在()里画“√”。(10分)

1.


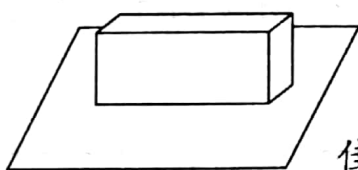


()

()

()

2.




()

()

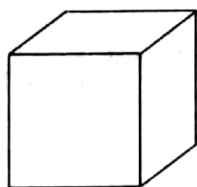
()

五、猜一猜。(8分)

一个立体图形从某个方向看到的图形是长方形，这个立体图形可能是什么？在这个图形下面画“○”。



()



()



()



()

