

第九周考卷

【7的乘法口诀 8的乘法口诀】

时间:60 分钟

满分:100 分

题号	一	二	三	四	五	六	七	八	总分
得分									

一、填空。(每空1分,共16分)

- 8个4相加得(),再加上8得()。
- 2个星期有()天,4个星期有()天,6个星期有()天。
- 7×3 改写成加法算式是()。
- $8+8+8+8+8$ 改写成乘法算式是(),用口诀()。
- 比7个8少10的数是(),再加上15得()。
- ()里最大能填几?

$$8 \times () < 42 \quad 7 \times () < 50 \quad () \times 8 < 18$$

$$4 \times () < 32 \quad 3 \times () < 25 \quad 8 \times () < 50$$

二、选择。(将正确答案前的序号写在括号内)(10分)

- 一个乘数是6,另一个乘数是7,积是多少?列式正确的是()。
A. $6+7$ B. 6×7 C. $7+8$
- 求3个8相加的和是多少?算式()比较简便。
A. $8+8+8$ B. $3+8$ C. 8×3
- 7×8 和 8×7 的()。
A. 读法相同 B. 乘法口诀相同 C. 结果不同
- $7+5 \times 7$ 与下列算式()的得数一样。
A. 5×7 B. 6×7 C. 7×7
- 下面得数是42的算式是()。
A. 5×8 B. 7×8 C. 6×7



三、判断。(对的在括号内画“√”,错的画“×”)(5分)

1. 两个乘数都是7,算式是 $7 \times 7 = 49$ 。 ()
2. 8×2 可以看作2个8相加。 ()
3. $3 \times 6 = 18$ 和 $2 \times 9 = 18$ 都用同一句口诀。 ()
4. 一支钢笔7元,买8支这样的钢笔共需要15元。 ()
5. 8个6的和是多少? 写成算式是 8×6 。 ()

四、直接写出得数。(16分)

$$\begin{array}{l} 2 \times 7 = \\ 7 \times 8 = \\ 8 \times 3 = \\ 4 \times 7 = \end{array}$$

$$\begin{array}{l} 7 \times 7 = \\ 3 \times 6 = \\ 8 \times 4 = \\ 7 \times 5 = \end{array}$$

$$\begin{array}{l} 8 \times 6 = \\ 6 \times 5 = \\ 8 \times 5 = \\ 3 \times 5 = \end{array}$$

$$\begin{array}{l} 6 \times 8 = \\ 8 \times 2 = \\ 4 \times 8 = \\ 8 \times 8 = \end{array}$$

五、连线。(8分)

$$2 \times 8$$



$$6 \times 4$$

$$8 + 8$$



$$4 \times 4$$

$$8 + 8 + 8$$




$$5 \times 8 + 8$$

$$6 \times 8$$



$$5 \times 7$$

六、想一想,  中应填几。(10分)

$$\heartsuit \times 7 = 28$$

$$5 \times \heartsuit = 35$$

$$8 \times \heartsuit = 56$$

$$7 \times \heartsuit = 42$$

$$8 \times 5 + 8 = 8 \times \heartsuit$$

$$8 \times 3 + 8 = 8 \times \heartsuit$$

$$8 \times 4 + 8 = 8 \times \heartsuit$$


$$6 \times 7 + 7 = 7 \times \heartsuit$$

$$8 \times 8 - 8 = 8 \times \heartsuit$$

$$8 \times 6 - 8 = 8 \times \heartsuit$$



七、看图列式计算。(16分)



$$\square \times \square = \square$$

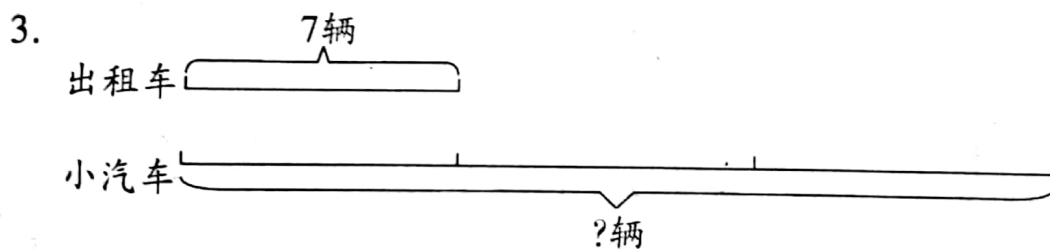
$$\square \times \square = \square$$



一共有多少条腿?

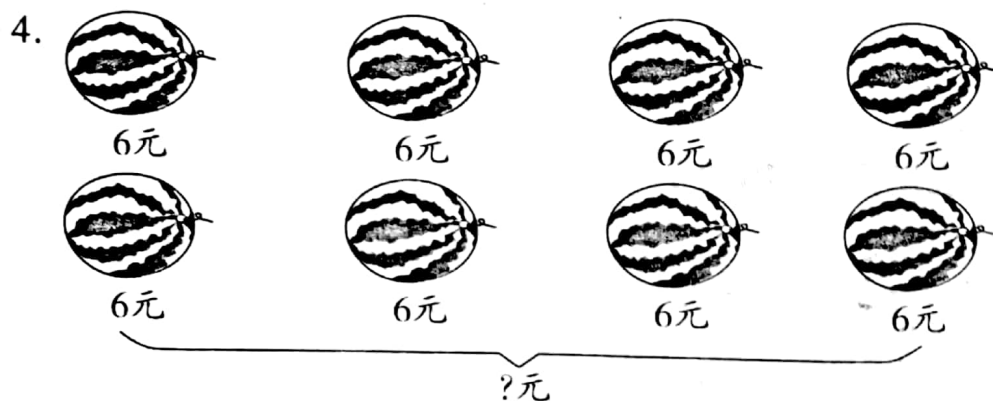
$$\square \times \square = \square$$

$$\square \times \square = \square$$



$$\square \times \square = \square$$

$$\square \times \square = \square$$



$$\square \times \square = \square$$

$$\square \times \square = \square$$



八、解决问题。(19分)

1.



每千克4元

我买了8千克,一共需要多少钱?

(4分)

小丽



2. 乐乐每天练8个大字,一周共练多少个大字?(5分)

3. 爸爸、妈妈、爷爷、奶奶和我去动物园,买门票一共要花多少钱?(5分)

票价

成人:8元
儿童:6元

4.



5元

用40元最多可以买几瓶?(5分)

