

第七周考卷


【乘加 乘减 6的乘法口诀】

时间:60 分钟

满分:100 分

题号	一	二	三	四	五	六	总分
得分							

一、比比看谁先到家。(12 分)



$5 \times 6 =$

$4 \times 3 - 4 =$

$3 \times 6 + 3 =$

$5 \times 5 + 20 =$



$3 \times 6 =$

$2 \times 4 - 3 =$

$4 \times 6 + 5 =$

$5 \times 6 - 15 =$



$6 \times 6 =$

$3 \times 3 + 6 =$

$4 \times 5 - 8 =$

$2 \times 6 + 12 =$



二、选择。(将正确答案前的序号写在括号内)(10 分)

1. 6×4 和 6×5 的积相差()。

A. 6

B. 5

C. 12

2. 4 个 6 相加,正确的算式是()。

A. $4 + 6$ B. 6×4 C. $6 + 6 + 6$

3. 1 个包子 2 元,6 个包子()元。

A. 12

B. 6

C. 8

4. 下面得数相等的一组是()。

A. 5×2 与 $5 + 2$ B. 6×4 与 $6 \times 4 + 4$ C. 3×4 与 $3 \times 3 + 3$ 


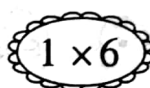




5. 每个盘子装 6 个桃子, 装了 5 个盘子还剩 3 个桃子, 共有()个桃子。

A. 30

B. 33

C. 27

三、蜜蜂采蜜。(连线)(6 分)



四、算一算, 填一填。(33 分)

1. 在○里填上“+”“-”或“×”。(9 分)

$2 \bigcirc 3 = 6$

$5 \bigcirc 6 = 11$

$6 \bigcirc 6 = 0$

$4 \bigcirc 3 = 7$

$3 \bigcirc 6 = 18$

$4 \bigcirc 5 = 20$

$6 \bigcirc 2 = 4$

$5 \bigcirc 5 = 10$

$4 \bigcirc 6 = 24$

2. 在○里填上“>”“<”或“=”。(9 分)

$3 + 2 \bigcirc 3 \times 3$

$5 \times 5 \bigcirc 5 + 5 + 5$

$4 \times 6 \bigcirc 4 + 6$

$2 \times 6 \bigcirc 3 \times 4$

$3 \times 4 + 4 \bigcirc 4 \times 5$

$5 \times 3 - 2 \bigcirc 5 + 12$

$6 \times 3 \bigcirc 2 \times 6 + 2$

$4 \times 5 - 5 \bigcirc 5 \times 3$

$2 \times 1 + 2 \bigcirc 2 \times 1 - 1$

3. 在()里填上适当的数。(6 分)

$4 \times () + 4 = 12$

$2 \times 2 + () = 8$

$7 + 3 \times () = 10$

$5 + 3 \times () = 17$

$2 \times 6 + () = 30$

$30 - () \times 4 = 10$



4. 计算。(9 分)

$3 \times 5 + 6 =$

$2 \times 6 - 4 =$

$4 \times 4 + 4 =$

$5 \times 6 + 10 =$

$2 \times 3 + 8 =$

$1 \times 4 + 12 =$

$5 \times 4 - 13 =$


$3 \times 3 - 9 =$

$5 \times 5 + 7 =$

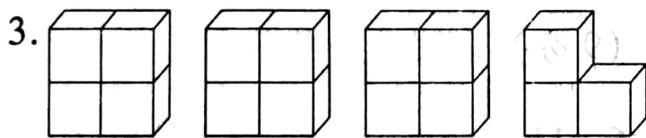
五、看图列式计算。(12 分)



$\square \bigcirc \square = \square (\text{人})$

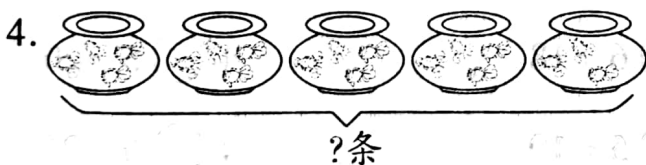


$\square \bigcirc \square = \square (\text{个})$



$\square \times \square + \square = \square \text{ 或}$

$\square \times \square - \square = \square$



$\square \times \square + \square = \square (\text{条}) \text{ 或}$

$\square \times \square - \square = \square (\text{条})$

六、解决问题。(27 分)

1. 一张饭桌配 4 把椅子,6 张这样的饭桌需配多少把椅子?(4 分)

2. 我和爸爸妈妈去植物园玩,爸爸需付多少钱买门票?(4 分)

成人:5 元/张
儿童:3 元/张



3.



6元



8元



10元



3元

(1) 买3双手套和1条围巾需付多少元钱?(4分)

(2) 买5双袜子和1顶帽子需付多少元钱?(4分)

(3) 用20元买6双袜子钱够吗?(4分)

(4) 你还能提出其他数学问题并解答吗?(3分)

4. 同学们春游,共有28人,6个帐篷能住下吗?(4分)



最多住5人



扫描全能王 创建