

## 第十周考卷

【9的乘法口诀 整理和复习】

时间:60 分钟

满分:100 分

题号	一	二	三	四	五	六	七	八	总分
得分									

## 一、填空。(每空1分,共19分)

- 9个5相加,写成乘法算式是( )或( )。
- 9乘3等于( ),写作( ),用到口诀( ),  
用口诀写出另一道乘法算式是( )。
- 9个7的和是( ),再加上4得( )。
- 比2个9多5的数是( )。
- 根据口诀写出两道乘法算式。

六九五十四

八九七十二

6. ( )里最大能填几?

$( ) \times 8 < 75$

$7 \times ( ) < 29$

$9 \times ( ) < 28$

$( ) \times 9 < 26$

$( ) \times 5 < 47$

$9 \times ( ) < 39$

## 二、比比谁过河最快。(12分)



$4 \times 8 =$

$5 \times 9 =$

$7 \times 7 =$

$6 \times 4 =$



$9 \times 6 =$

$8 \times 5 =$

$8 \times 8 =$

$3 \times 5 =$



$5 \times 7 =$


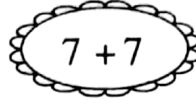

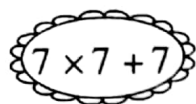
$2 \times 9 =$

$6 \times 6 =$

$9 \times 7 =$



三、小蜜蜂该落在哪朵花上？（连一连）（10分）



四、在○里填上“>”“<”或“=”。（9分）

$6 + 8 \bigcirc 48$

$8 \times 8 \bigcirc 16$

$7 + 7 \bigcirc 7 \times 7$

$6 \times 9 \bigcirc 5 \times 9$

$4 \times 6 \bigcirc 8 \times 3$

$2 \times 9 \bigcirc 3 \times 9$

$9 \times 6 \bigcirc 9 \times 5 + 9$

$8 \times 3 \bigcirc 4 \times 6$

$6 \times 8 + 8 \bigcirc 8 \times 8 - 8$

五、填表格。（8分）

×	2	3	4	5	6	7	8	9
6						42		
7		21						
8				40				
9							72	



六、想一想  中应填几。(7分)

$$7 \times 4 = 7 \times 3 + \text{heart}$$

$$8 \times 8 = 8 \times 9 - \text{heart}$$

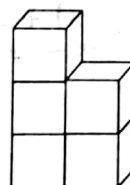
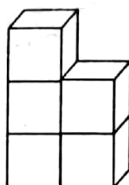
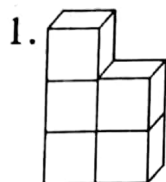
$$7 \times \text{heart} = 6 \times 8 + 8$$

$$9 \times \text{heart} - 9 = 9 \times 7$$

$$6 \times 9 + \text{heart} = 7 \times 9$$

$$4 \times 9 = \text{heart} \times 9 + \text{heart} \times 9$$

七、看图列式计算。(16分)








$$\square \times \square = \square \text{ (个)}$$

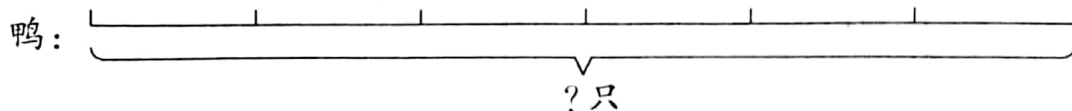
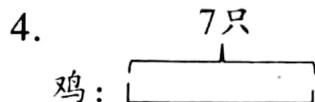


?元

$$\square \times \square = \square \text{ (元)}$$



$$\square \times \square = \square \text{ (个)}$$



?只

$$\square \times \square = \square \text{ (只)}$$

◇ 71 ◇



扫描全能王 创建

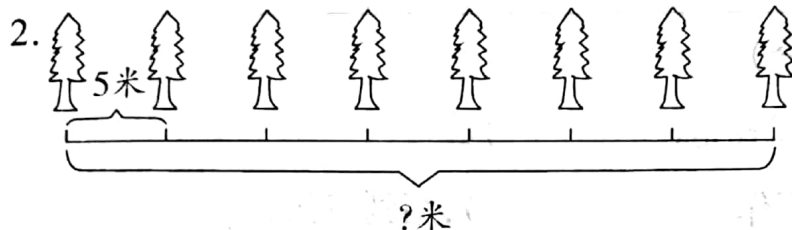
## 八、解决问题。(19分)

1. 小丽用珠子穿手链,每9个穿一串。需要多少颗珠子?(5分)




我要穿6串送我同学。

小丽



- 栽8棵树共多少米?(5分)

3.



4元



8元



15元

- (1) 买6把尺子和1盒油画棒需多少钱?(4分)

- (2) 买3支钢笔和1盒油画棒付50元钱够吗?(5分)

