

冀教版

# 第六周测评：角的认识



时间：60分钟

满分：100分

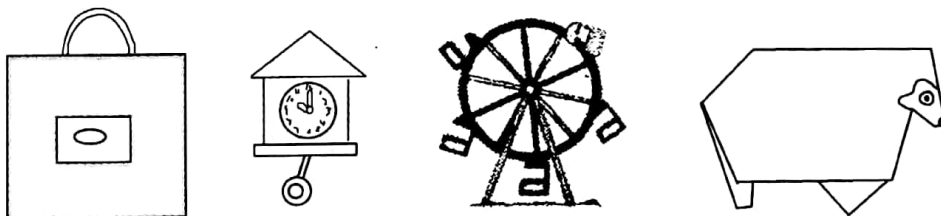
题号	一	二	三	四	五	六	七	总分
得分								

## 一、认一认。(共 21 分)

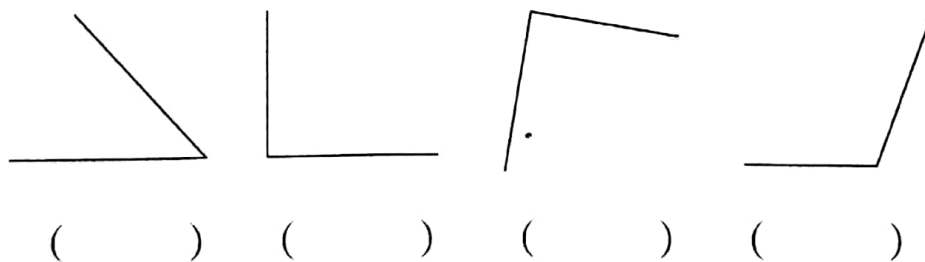
1. 下面的图形，是角的括号里画“√”。(5 分)



2. 在下面物品的图片上找角，并用彩笔描出来。(8 分)

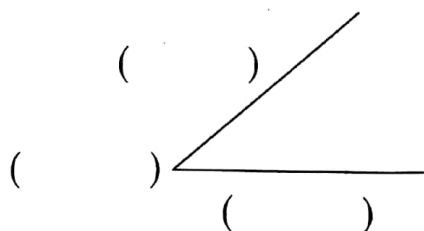


3. 用三角板比一比，是直角的在括号里画“√”。(8 分)



## 二、填一填。(共 22 分)

1. 填上角的各部分名称。



角的两边  
( ) 越大, 角  
就越大。角的大小  
跟 ( ) 没关系。



2. 一条红领巾有( )个角, 一张长方形纸有( )个角。
3. 一副三角板有( )个角, 其中最大的是( )角。
4. ( )角比直角大, ( )角比直角小。

## 三、判一判。(对的在括号里画“√”, 错的画“×”)(共 8 分)

1. 直角有的大, 有的小。 ( )
2. 用放大镜看角, 角就变大了。 ( )
3. 长方形和正方形都有 4 个直角。 ( )
4. 时针指向 5, 分针指向 12, 这时形成一个锐角。 ( )

## 四、数一数。(共 29 分)

1. 先写出钟面上的时间, 再说说时针和分针形成了什么角。

(9 分)



\_\_\_\_\_  
成 ( ) 角



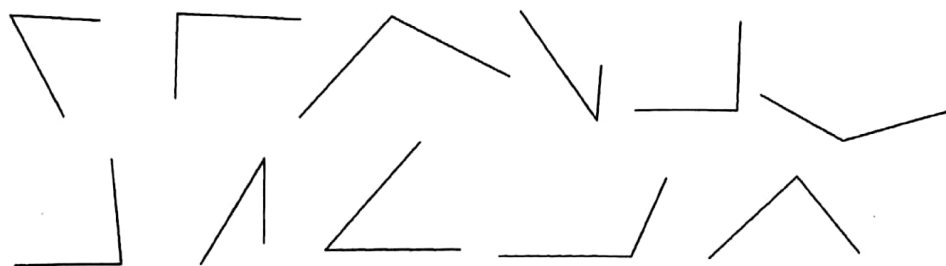
\_\_\_\_\_  
成 ( ) 角



\_\_\_\_\_  
成 ( ) 角



2. 先用三角板比一比,再把各角的数量填在表里。(8分)

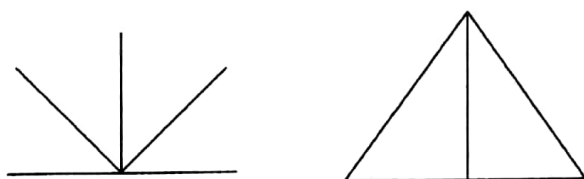


锐角	直角	钝角
( )个	( )个	( )个

3. 数角。(12分)



( )个角 ( )个角 ( )个角 ( )个角



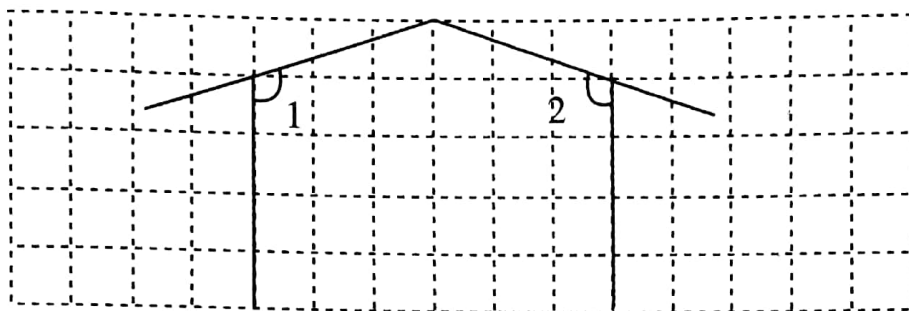
( )个直角 ( )个直角

五、画一画。(共11分)


1. 请分别画出一个直角、一个锐角和一个钝角。(6分)



2. 把图中角 1 分成一个锐角和一个直角, 角 2 分成一个钝角和一个锐角。(5 分)



- 六、在下面的方格纸上分别画一个锐角、一个直角和一个钝角。(3 分)



### 七、数学冲浪。(6 分)

一张长方形的纸剪去一个角, 还剩下几个角呢?

