

冀教版

# 第七周测评：

平均分  
除法的意义(一)  
除法的意义(二)



时间：60分钟

满分：100分

题号	一	二	三	四	五	六	总分
得分							

## 一、看图写出除法算式，并写出各数在算式中的名称。(12分)



$$\square \div \square = \square$$

∴ ∴ ∴

( ) ( ) ( )




$$\square \div \square = \square$$

∴ ∴ ∴

( ) ( ) ( )

## 二、填空。(共40分)



把12瓶矿泉水平均分成4份，每份是( )瓶。



2.



把( )个桃子,平均放在( )个盘子里,每盘放( )个。

$$\square \div \square = \square (\text{个})$$

3.



16 个杯子,每盒装( )个,需要( )个盒子。

$$\square \div \square = \square (\text{个})$$

4.  $20 \div 5 = 4$  读作( ),被除数是( ),除数是( ),商是( )。

5. 在○里填上“>”“<”或“=”。(12 分)

$6 \div 2 \bigcirc 5$

$24 \div 6 \bigcirc 4$

$16 \div 4 \bigcirc 25 \div 5$

$4 \times 2 \bigcirc 6$

$30 \div 5 \bigcirc 6$

$5 \div 5 \bigcirc 6 \div 6$

6. 先补全口诀,再根据口诀写出一个乘法算式和两个除法算式。

三( )十八

( )五一十

五六( )

\_\_\_\_\_

\_\_\_\_\_

\_\_\_\_\_

\_\_\_\_\_

\_\_\_\_\_

\_\_\_\_\_

\_\_\_\_\_

\_\_\_\_\_

\_\_\_\_\_



### 三、用口诀计算。(共 12 分)

$10 \div 2 =$

$4 \div 4 =$

$16 \div 4 =$

$36 \div 6 =$

$6 \div 3 =$

$15 \div 5 =$

$8 \div 2 =$

$20 \div 4 =$

$12 \div 4 =$


$9 \div 3 =$

$30 \div 6 =$

$24 \div 4 =$

### 四、看图列式。(共 8 分)

1.




$\square \times \square = \square$

$\square \div \square = \square$

$\square \div \square = \square$

口诀: \_\_\_\_\_

2.



$\square \times \square = \square$

$\square \div \square = \square$

$\square \div \square = \square$

口诀: \_\_\_\_\_

### 五、解决问题。(共 24 分)

1. (4 分)




8 只手套, 每 2 只配成一副, 能配多少副?

$\square \bigcirc \square = \square (\text{副})$




2. 12 条鱼,平均分给 3 只小猫吃。(5 分)



$$\square \bigcirc \square = \square (\text{条})$$

3. (15 分)



(1) 合唱队一共有多少名同学?

$$\square \bigcirc \square = \square (\text{名})$$

(2) 如果平均站成 6 排,每排有多少名同学?

$$\square \bigcirc \square = \square (\text{名})$$

(3) 如果每排 4 名同学,可以站成多少排?

$$\square \bigcirc \square = \square (\text{排})$$

六、思维探究,智力冲浪。(4 分)

这些羽毛球最少去掉( )只,就能平均分给 6 个班;最少添上( )只,就能平均分给 5 个班。

