

冀教版

# 第三周测评：

连加及小括号认识

实践活动 套圈游戏

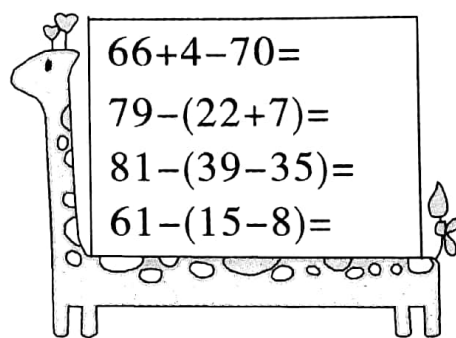
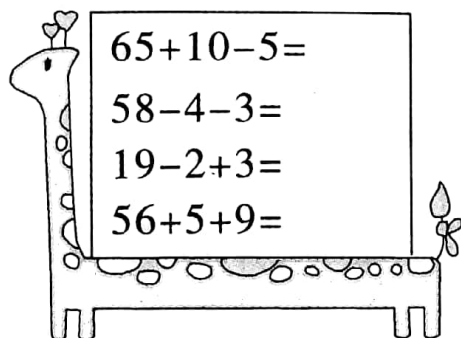


时间：60分钟

满分：100分

题号	一	二	三	四	五	六	七	八	总分
得分									

## 一、口算。(8分)



## 二、说一说先算什么,再计算。(12分)

$15+36+28$

$51-29-16$

$85-28+42$

$78-24-49$

$67-(45-28)$

$96-(12+34)$

## 三、在○里填上“>”“<”或“=”。(8分)

$60-35-22 \bigcirc 60-(35-22)$


$63-27+17 \bigcirc 63-(27-17)$

$78-45+11 \bigcirc 78-(45+11)$

$87-23-18 \bigcirc 87-(23-18)$



#### 四、计算接力赛。(12 分)



#### 五、先判断,再把错误的改正过来。(9 分)

$$\begin{array}{r} 6\ 1 \\ -\ 1\ 9 \\ \hline 4\ 2 \\ -\ 1\ 2 \\ \hline 3 \end{array}$$

改正:

( )

$$\begin{array}{r} 7\ 8 \\ -\ 3\ 9 \\ \hline 4\ 9 \\ -\ 3\ 1 \\ \hline 1\ 8 \end{array}$$

改正:

( )

$$86 - (23 - 17)$$

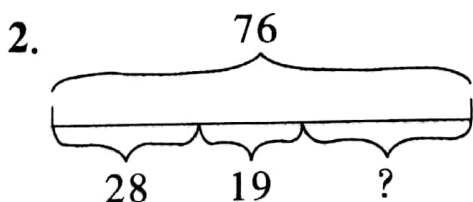

改正:

$$= 63 - 17$$

$$= 46$$


( )

#### 六、看图列式计算。(8 分)



## 七、解决问题。(共 35 分)

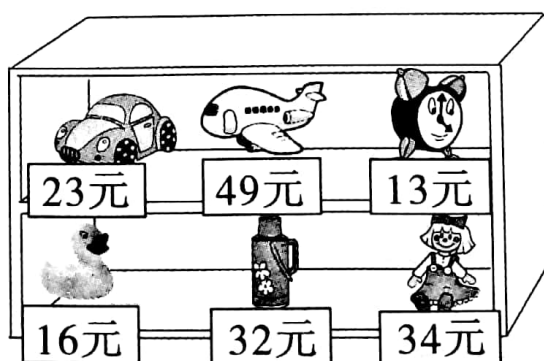
1. 二(1)班三个小组一共回收了 95 个饮料瓶。(5 分)



2. 妮妮用 100 元购买下面商品中的任意两件, 还剩多少元钱?  
(6 分)



3. 猜一猜。(12 分)



(1) 用 50 元买一件商品, 找回 30 多元, 买的可能是什么?



(2)用 90 元买两件商品,还剩不到 10 元,买的可能是什么?

(3)请你再提出一个数学问题并解答。

#### 4. 跳绳比赛。(12 分)

	第一次	第二次	第三次	总数
涛涛	18 下	35 下		
聪聪	27 下	34 下		97 下
亮亮	35 下		27 下	93 下

(1)聪聪第三次跳了( )下,亮亮第二次跳了( )下。

(2)涛涛获得了第二名,他跳的总数可能是( )下,他第三次可能跳了( )下。

#### 八、探索发现,智力冲浪。(8 分)

在○里填上“+”或“-”,使式子成立。

$$68 \bigcirc 25 \bigcirc 29 = 72 \quad 56 \bigcirc (32 \bigcirc 14) = 74$$

$$56 \bigcirc 25 \bigcirc 22 = 59 \quad 40 \bigcirc (23 \bigcirc 12) = 29$$

