

冀教版

第十二周测评：

倍的认识
游动物园



时间：60分钟

满分：100分


题号	一	二	三	四	五	六	总分
得分							

一、看图写数。(共8分)





1. ○○○○ | ○○○○ | ○○○○ | ○○○○

△△△△

○是△的()倍。

2. 



比多()个,是的()倍。

3. 第一行：

第二行：摆，个数是的6倍。

第二行要摆()个。

二、填空。(共22分)

1. 计算6的8倍与8的6倍的口诀都是()，结果是()。

2. 72是8的()倍，2的6倍是()。

3. 如图，美术组的人数是舞蹈组的()倍。



舞蹈组8人



美术组16人



4. 里最大能填几?

$\square \times 7 < 38$

$\square \times 8 < 30$

$\square \times 9 < 56$

$\square \times 6 < 50$

5. 根据条件把表格填完整。

乒乓球	篮球	排球	足球
()个	9个	5个	()个

乒乓球的个数是篮球的3倍,足球的个数是排球的2倍。



三、判断对错。(对的在括号里画“√”,错的画“×”)(共 10 分)

1. 5 的 9 倍和 9 个 5 的意思一样。 ()

2. 把 40 本书分成 5 份,每份一定是 8 本。 ()

3. 28 是 7 的 4 倍,也就是 28 里面有 4 个 7。 ()

4. 小明今年 7 岁,爸爸的年龄是他的 5 倍,爸爸今年 30 岁。 ()

5. 每件衣服有 3 粒扣子,5 件这样的衣服有 15 粒扣子。 ()

四、口算得数。(共 12 分)

$45 \div 9 =$ $3 \times 2 =$ $47 + 8 =$	$90 - 5 =$ $4 \times 4 =$ $18 \div 6 =$	$6 \times 7 =$ $36 \div 4 =$ $15 \div 3 =$	$75 - 30 =$ $8 \times 5 =$ $63 \div 9 =$
---	---	--	--

五、动手操作。(共 15 分)

1. 涂一涂,▲是☆的 3 倍。(2 分)

☆☆☆☆☆

△△△△△△△△△△△△△△△△△

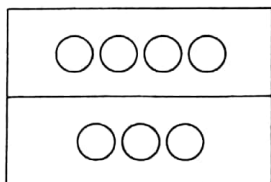


2. 填一填, ○的个数是●的()倍。(2分)

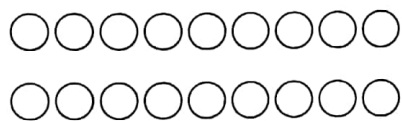


3. 画一画, 圈一圈。(4分)

$$4 \times 3$$



$$18 \div 3 = 6$$



4. 完成下表, 并按要求涂色。(7分)

将个位上是 0 和 5 的数涂上红色; 个位上是 4 和 6 的数涂上绿色; 个位和十位相加得 3 或 9 的数涂上你喜欢的颜色。

×	5	6	7	8	9
2					
3					
4					
5					
6					

六、解决问题。(共 33 分)

1. 圆珠笔的支数是钢笔的 6 倍, 圆珠笔一共有多少支?(4分)



$$\square \bigcirc \square = \square (\text{支})$$



2.



(1) 小猪一次运的西瓜是小猴的几倍? (4 分)

$$\square \bigcirc \square = \square$$

(2) 如果小猪自己运, 几次能运完? (4 分)

$$\square \bigcirc \square = \square (\text{次})$$

3.




? 元



7元



54元



? 元

(1) 一个足球的价格是一支钢笔的 5 倍, 一个足球多少钱? (5 分)

$$\square \bigcirc \square = \square (\text{元})$$

(2) 买一个书包的钱能买 6 个文具盒, 一个文具盒多少钱? (5 分)

$$\square \bigcirc \square = \square (\text{元})$$

(3) 一个书包的价格比一个足球贵多少钱? (5 分)

$$\square \bigcirc \square = \square (\text{元})$$

4.



请你提出一个关于“倍”的数学问题并解答。 (6 分)

