

冀教版

第十三周测评：探索乐园



时间：60分钟

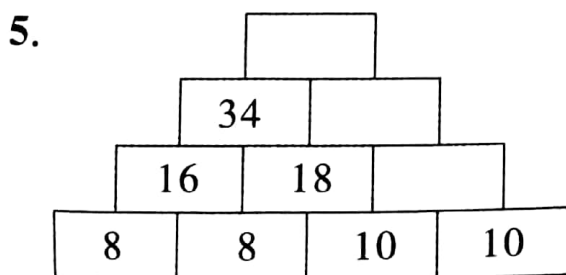
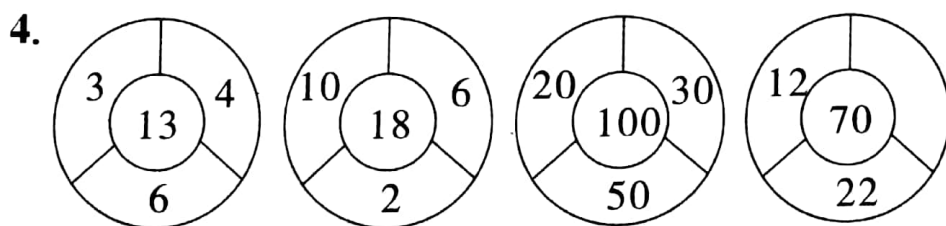
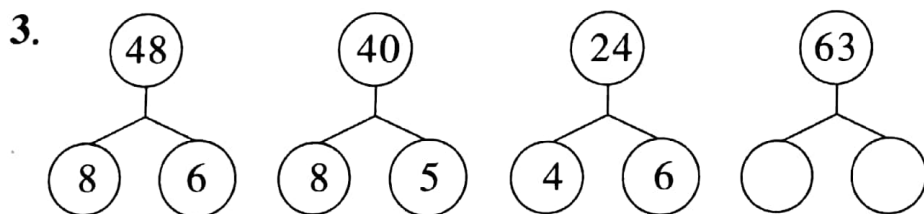
满分：100分

题号	一	二	三	四	总分
得分					

一、猪猪侠：超人强的城堡大门要按规律输入密码才能打开，我们快来破解吧！（共40分）

1. 7, 14, 21, 28, (), ()

2. 81, 72, 63, 54, (), ()



二、猪猪侠：超人强在城堡大厅里设了三道机关，我们得选择正确的序号才能解除机关继续前进。（共12分）

1. 下面这三组数，排列没有规律的一组是()。

① 30, 27, 24, 21, 18



②6,12,18,24,30

③1,4,9,25,36

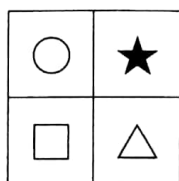
2. $\star + \star + \star + \star = 28$, $\bigcirc + \bigcirc + \bigcirc + \bigcirc + \bigcirc = 30$, $\triangle + \triangle + \triangle = 27$ 。想一想,下面判断正确的是()。

① $\star > \triangle$

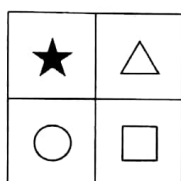
② $\bigcirc < \triangle$

③ $\bigcirc > \star$

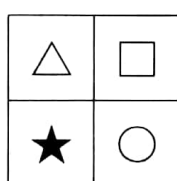
3. 按照图形排列规律,第四幅图应该是()。



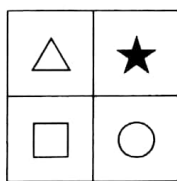
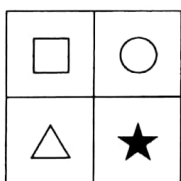
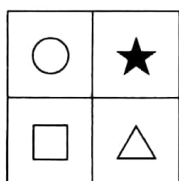
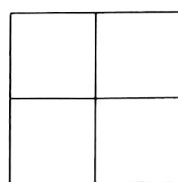
①



②




③



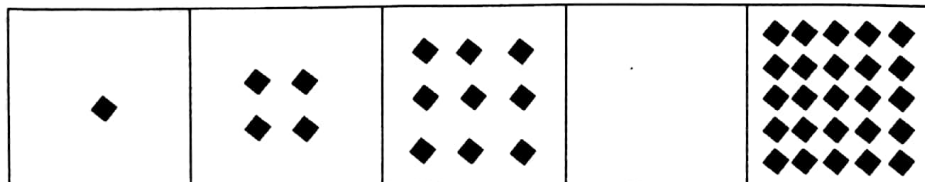
三、猪猪侠:通往最高层的通道上有一些图画谜题,只有把缺少的部分画出来才能登上最高层,让我们画一画吧!(共 23 分)

1. 按规律接着画。(4 分)

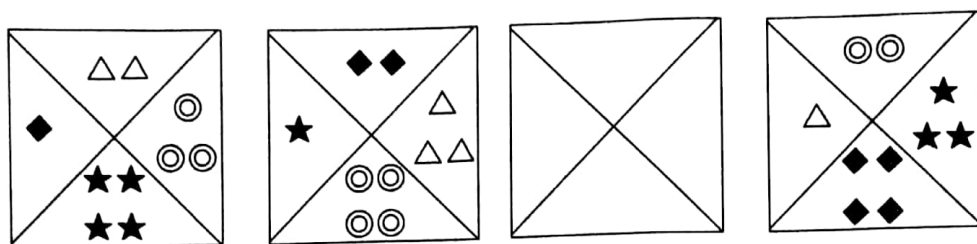


2. 把缺少的图形画出来。


(1)(3 分)



(2)(8 分)



3. 将 ☆ ♥ ☾ 画在下面的方格里,使每行和每列的图形各不相同。(8 分)



四、猪猪侠:超人强在最高层又设置了几个难关,解决它们就可以到达西西公主身边,加油吧!(共 25 分)

1. 下面有两队小兔,每只小兔身上都有一个编号,但有一只站错了队,请你把它圈出来。(5 分)

第一队: 12 15 19 24 37

第二队: 12 16 20 24 28 30



