

冀教版

第十一周测评：7、8、9的乘法口诀求商



时间：60分钟

满分：100分

题号	一	二	三	四	五	六	七	八	九	总分
得分										

一、照样子，读乘法口诀写算式。(6分)

四八三十二

三九二十七

五七三十五

七八五十六

$4 \times 8 = 32$

\_\_\_\_\_

\_\_\_\_\_

\_\_\_\_\_

$8 \times 4 = 32$

\_\_\_\_\_

\_\_\_\_\_

\_\_\_\_\_

$32 \div 8 = 4$

\_\_\_\_\_

\_\_\_\_\_

\_\_\_\_\_

$32 \div 4 = 8$

\_\_\_\_\_

\_\_\_\_\_

\_\_\_\_\_

二、在圆圈里填上“+”“-”“ $\times$ ”或“ $\div$ ”。(9分)

$6 \bigcirc 8 = 48$

$3 \bigcirc 3 = 9$

$24 \bigcirc 6 = 18$

$35 \bigcirc 5 = 30$

$63 \bigcirc 7 = 9$

$15 \bigcirc 3 = 5$

$18 \bigcirc 8 = 26$

$6 \bigcirc 6 = 1$

$32 \bigcirc 8 = 4$

三、在每组算式中得数大的算式后画“ $\checkmark$ ”。(6分)

$\left\{ \begin{array}{l} 36 \div 6 \square \\ 36 \div 4 \square \end{array} \right.$

$\left\{ \begin{array}{l} 24 \div 8 \square \\ 24 \div 3 \square \end{array} \right.$

$\left\{ \begin{array}{l} 21 \div 7 \square \\ 21 \div 3 \square \end{array} \right.$


$\left\{ \begin{array}{l} 30 \div 5 \square \\ 30 \div 6 \square \end{array} \right.$


$\left\{ \begin{array}{l} 56 \div 7 \square \\ 56 \div 8 \square \end{array} \right.$


$\left\{ \begin{array}{l} 72 \div 9 \square \\ 72 - 9 \square \end{array} \right.$





#### 四、连一连。(5 分)

  
 $32 \div 8$

  
 $63 \div 9$

  
 $45 \div 9$

  
 $9 \div 1$

  
 $63 \div 7$



#### 五、填表。(7 分)

被除数	54	36	8	72		18	
除数	9			8	9	3	7
商		9	4		5		6

#### 六、比一比,算一算。(12 分)

$72 \div 8 =$

$18 \div 3 =$

$54 \div 9 =$

$32 \div 4 =$

$27 \div 3 =$

$56 \div 7 =$

$45 \div 5 =$

$36 \div 6 =$

$81 \div 9 =$

$28 \div 7 =$

$48 \div 6 =$

$63 \div 7 =$

#### 七、看图列式计算。(16 分)

1.



$\square \times \square = \square$  (朵)

$\square \div \square = \square$  (盆)

$\square \times \square = \square$  (朵)

$\square \div \square = \square$  (朵)





$$\square \times \square = \square (\text{个}) \quad \square \div \square = \square (\text{个})$$

$$\square \times \square = \square (\text{个}) \quad \square \div \square = \square (\text{个})$$

## 八、认真想一想。(共 35 分)

1.



(1) 每个笼子养 6 只白兔, 一共需要几个笼子? (5 分)

$$\square \bigcirc \square = \square (\text{个})$$

(2) 把灰兔平均分给 9 位同学, 每人分得几只? (5 分)

$$\square \bigcirc \square = \square (\text{只})$$

2. 妈妈的生日到了, 红红带 50 元钱到花店买花。她想买 9 朵红玫瑰, 以此表达对妈妈长长的爱, 50 元够吗? (画“√”)(5 分)

$$\square \bigcirc \square = \square (\text{元})$$

够( ) 不够( )



红玫瑰  
5元一朵

3. 一堆桃子五十六, 一群小猴跑来偷, 每只小猴拿 7 个, 一次把桃都偷走。请你好好想一想, 一共来了几只猴? (5 分)

$$\square \bigcirc \square = \square (\text{只})$$



4. 用下面的花重新扎成 7 个相同的花束, 应怎样搭配?



建兰 21 枝



百合 42 枝



郁金香 35 枝

(1) 每束中建兰有几枝? (5 分)

$$\square \bigcirc \square = \square \text{ (枝)}$$

(2) 每束中百合有几枝? (5 分)

$$\square \bigcirc \square = \square \text{ (枝)}$$

(3) 每束中郁金香有几枝? (5 分)

$$\square \bigcirc \square = \square \text{ (枝)}$$

### 九、数学冲浪。(4 分)

一道两位数除以一位数的除法算式, 除数是 9。马小虎把被除数的十位数字和个位数字看颠倒了, 结果除得的商为 3。那么正确的商应该是几?

