

冀教版

第四周测评：

认识乘法

2~4 乘法口诀



时间：60分钟

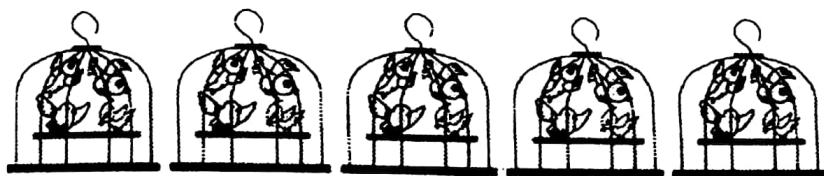
满分：100分

题号	一	二	三	四	五	六	七	八	九	十	总分
得分											

一、填一填。(16分)


1. $2 \times 3 = 6$ 读作(), 2 和 3 叫作(), 6 叫作()。

2.



加法算式：_____

乘法算式：() \times () = () 或 () \times () = ()



加法算式：_____ 或 _____

乘法算式：() \times () = () 或 () \times () = ()

4. 把加法算式改写成乘法算式。

$$2 + 2 + 2 + 2 = 8$$

$$1 + 1 + 1 = 3$$

$$3 + 3 + 3 + 3 + 3 = 15$$

$$\square \times \square = \square$$

$$\square \times \square = \square$$

$$\square \times \square = \square$$

5. 写出乘法算式。

(1) 3 个 7 相加：() \times () 或 () \times ()



(2) 乘数是 2 和 6: () \times () 或 () \times ()

二、把口诀补充完整。(6 分)

三()十二 ()二得二 二三得()

()得八 三三得() 四()十六

三、小鱼该游到哪里?(6 分)

$2 \times 1 \bigcirc 3$

$3 \times 2 \bigcirc 2 \times 3$



$4 \times 2 \bigcirc 4 + 2$

$4 \times 4 \bigcirc 5$

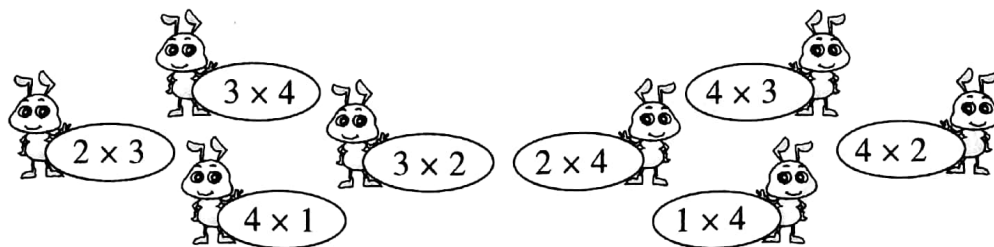
$2 \times 2 \bigcirc 3 \times 3$

$1 \times 3 \bigcirc 4 - 0$

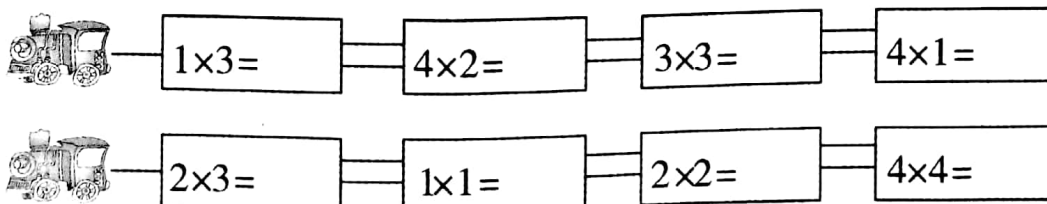
四、根据算式画出被盖住的图案。(8 分)



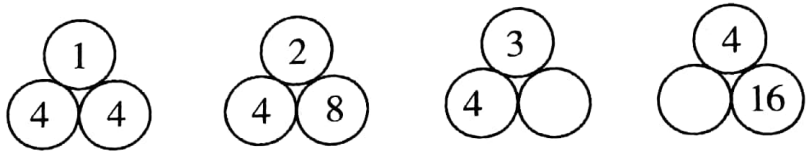
五、送小蚂蚁回家。(连一连)(共 8 分)



六、开小火车。(共 8 分)




七、按规律填数。(6 分)



八、照样子,用自己喜欢的图形画一画。(8 分)


4×3	
1×4	
4×2	

九、看图,写出乘法算式和口诀。(1 题 6 分,2 题 4 分,共 10 分)



$\square \times \square = \square$ 或 $\square \times \square = \square$

口诀: _____



$\square \times \square = \square$

口诀: _____



十、解决问题。(24 分)

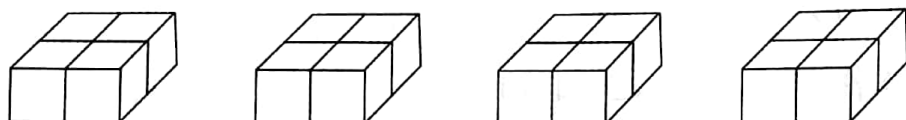
1.





每列有()棵树,有()列,一共有()棵树。(6 分)

$$\square \times \square = \square (\text{棵})$$

2.




摆一个长方体用()个 ,摆了()个,一共用()个

。(6 分)

$$\square \times \square = \square (\text{个})$$

3.



(1)一共有多少小朋友?(6 分)

$$\square \times \square = \square (\text{个})$$

(2)一共有多少只天鹅?(6 分)

$$\square \times \square = \square (\text{只})$$

