

冀教版

第五周测评：

5 的乘法口诀

6 的乘法口诀



时间：60分钟

满分：100分

题号	一	二	三	四	五	六	七	总分
得分								

一、我会计算。(共 19 分)

1. 比一比,谁能先过河?(12 分)



$2 \times 6 =$

$3 \times 5 =$

$5 \times 6 =$

$4 \times 2 =$



$5 \times 1 =$

$3 \times 4 =$

$2 \times 3 =$

$6 \times 6 =$



$3 \times 6 =$

$2 \times 5 =$

$4 \times 6 =$

$3 \times 3 =$

2. 下面藏的是几?(7 分)

$2 \times \text{桃子} = 10$

$2 \times \text{桃子} = 4$

$\text{桃子} \times 6 = 30$

$\text{桃子} \times 6 = 36$

$\text{桃子} \times 4 = 16$

$\text{桃子} \times \text{桃子} = 18$

二、我会填空。(共 22 分)

1. 和我对口诀。

三()十五

二()十二

()得一

()五二十五

四六()

六六()

2. 3 与 5 相加的和是(), 3 个 5 相加的和是()。

3. 计算 4×5 和计算()都是用口诀“四五二十”。

4. 两个乘数都是 6, 它们的积是()。



5. 在○里填上“+”“-”或“×”。(6分)

$5 \bigcirc 5 = 10$

$4 \bigcirc 5 = 20$

$2 \bigcirc 3 = 6$

$2 \bigcirc 4 = 8$

$6 \bigcirc 2 = 4$

$4 \bigcirc 6 = 24$

6. 在○里填上“>”“<”或“=”。(6分)

$5 \times 2 \bigcirc 7$

$3 \times 6 \bigcirc 20$

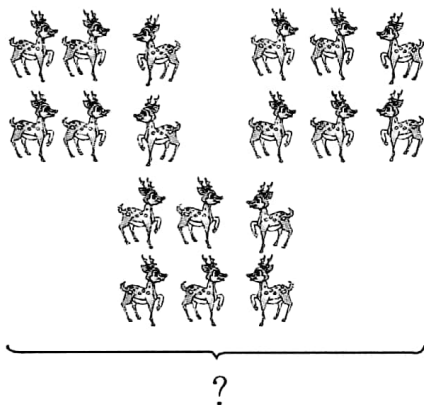
$4 \times 4 \bigcirc 20$

$2 \times 6 \bigcirc 6 + 6$

$13 \bigcirc 3 \times 5$

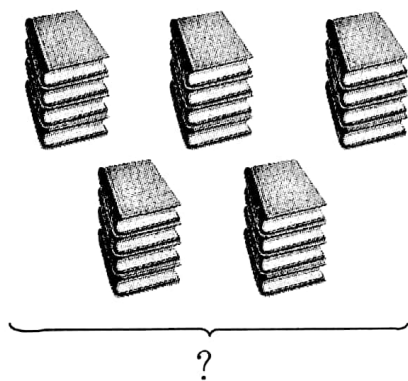
$3 \times 3 \bigcirc 3 + 3$

三、我会看图列式。(共8分)



$\square \bigcirc \square = \square (\text{只})$

口诀: _____

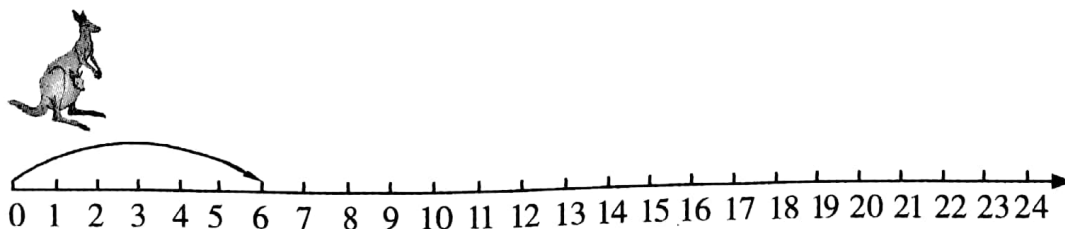


$\square \bigcirc \square = \square (\text{本})$

口诀: _____

四、动手操作。(10分)

1. 接着画一画。(6分)



2. 一只  有 6 条腿, 3 只  有 () 条腿, 5 只  有 () 条腿。(4分)



五、看图列式计算。(4 分)



加法算式：_____

乘法算式：_____

或 _____

口诀：_____


六、我会解决问题。(共 29 分)

1. 一共有多少个车轮子？(5 分)




$$\square \bigcirc \square = \square (\text{个})$$

2. (5 分)



$$\square \bigcirc \square = \square (\text{只})$$

3.




一共有多少名小朋友在跳绳？(6 分)

$$\square \bigcirc \square \bigcirc \square = \square (\text{名})$$



4.



(1) 买 2 辆玩具小汽车需要多少元钱? (4 分)

$$\square \bigcirc \square = \square (\text{元})$$

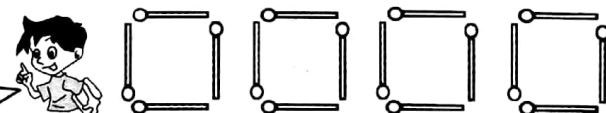
(2) 买 4 个布娃娃需要多少元钱? (4 分)

$$\square \bigcirc \square = \square (\text{元})$$

(3) 请你再提出一个数学问题并解答。(5 分)

七、思维探究,智力冲浪。(8 分)

$4 \times 4 = 16$ 。
我用 16 根火柴
摆了 4 个正方形。



如果减少 2 根或 3 根火柴,你还能摆成 4 个正方形吗? 试一试吧。

