



第三周测试卷
【测试内容:表内乘法(一)】



数学(JJ)二年级(上)

时间:60分钟

满分:100分

题号	一	二	三	四	五	六	七	八	九	总分
得分										



轻松练基础

一、填一填。(每空1分,共21分)

1. 写出乘法算式。

(1) 3个5相加:()或()。

(2) 3和6相乘:()。

(3) 4和5的积是20。()

2. 3×4 或 4×3 都可用口诀()来计算。用口诀“二六十二”可以写出算式()和()。


3. 把乘法口诀补充完整。

一五() 三四() 三六()

二四() ()六三十六 ()得六

三()十五 ()十六 一三()


4. $5 \times 6 = ()$, 读作()。

5. 摆一个  需要4根火柴, 摆5个这样的图形需要()根火柴。

6. 一个乘数是3, 另一个乘数是4, 积是(), 乘法算式是()。



二、看图填一填。(10 分)



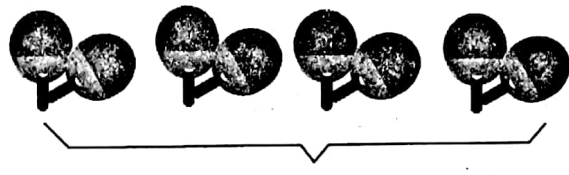
() 个 6 相加

加法算式: _____

乘法算式: $\square \times \square = \square$

或 $\square \times \square = \square$

口诀: _____



() 个 () 相加

加法算式: _____

乘法算式: $\square \times \square = \square$

或 $\square \times \square = \square$

口诀: _____

三、在○里填上“+”“-”或“×”。(6 分)

$6 \bigcirc 3 = 9$

$3 \bigcirc 6 = 18$

$2 \bigcirc 5 = 10$

$5 \bigcirc 0 = 5$

$7 \bigcirc 3 = 4$

$5 \bigcirc 4 = 20$

四、在()里填上合适的数。(6 分)

$5 \times () = 30$

$3 + () = 8$

$() \times 3 = 12$

$4 \times () = 20$

$() + 4 = 19$

$5 \times () = 5$

五、在○里填上“>”、“<”或“=”。(6 分)

$4 \times 4 \bigcirc 4 \times 3$

$3 \times 3 \bigcirc 3 + 3$

$6 \times 5 \bigcirc 5 \times 6$

$3 + 3 + 3 \bigcirc 4 \times 3$

$15 \bigcirc 5 \times 5$

$6 \times 3 \bigcirc 10 + 6$

六、连一连。(8 分)

3×5

三四十二

3×4

6×3

二四得八

3×6

4×3

三六十八

4×2

2×4

三五十五

5×3



七、直接写得数。(12分)

$3 \times 4 =$

$6 \times 5 =$

$4 \times 4 =$

$1 \times 3 =$

$2 \times 6 =$

$5 \times 4 =$

$4 \times 6 =$

$5 \times 2 =$


$3 \times 3 =$

$5 \times 3 =$

$2 \times 4 =$

$6 \times 6 =$

八、看图列式。(8分)



$\square \times \square = (\quad)(\text{朵})$



$\square \times \square = (\quad)(\text{个})$



$\square \times \square = (\quad)(\text{匹})$



$\square \times \square = (\quad)(\text{个})$



快乐提能力

九、解决问题。(4+4+5+10=23分)

1. (4分)池塘边飞来了一群美丽的白天鹅,请你数一数,一共有多少只?




2. (4分)



一辆汽车
有4个轮子



5 辆这样的汽车有多少个  ?

3. (5 分)



每辆限乘5人

我们班有32人，
6辆够吗？



4. (10 分)我是购物小能手。



每本2元



每个5元



每支6元

(1)(7 分)买 3 本笔记本需要花多少元？

(2)(7 分)买 2 支钢笔需要花多少元？

(3)(7 分)你还能提出什么问题？并解答。

