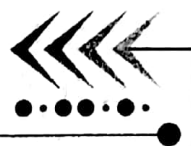




第五周测试卷  
【测试内容:表内除法】



数学(JJ)二年级(上)

时间: 60 分钟

满分: 100 分

题号	一	二	三	四	五	六	七	总分
得分								



轻松练基础

一、想一想,填一填。(24 分)



把( )个苹果平均放在( )个盘子里,每个盘子里放( )个苹果。

算式: \_\_\_\_\_



有( )个杯子,每( )个杯子分成一份,可以分成( )份。

算式: \_\_\_\_\_

3. 在  $6 \div 3 = 2$  中, ( ) 是被除数, ( ) 是除数, ( ) 是商, 该算式读作: ( )。

4. 被除数是 18, 除数是 3, 商是 ( ), 列式为 ( ), 所用的口诀是 ( )。

5. 在  $\bigcirc$  里填上“+”“-”“ $\times$ ”“ $\div$ ”。

$9 \bigcirc 3 = 3$

$4 \bigcirc 5 = 20$

$18 \bigcirc 2 = 16$



$\square \times \square = \square$

$\square \times \square = \square$



$\square \div \square = \square$

$\square \div \square = \square$



7.  $\triangle\triangle\triangle$

$\bigcirc\bigcirc\bigcirc\bigcirc\bigcirc\bigcirc\bigcirc\bigcirc\bigcirc\bigcirc\bigcirc\bigcirc\bigcirc\bigcirc\bigcirc\bigcirc$

上图中 $\bigcirc$ 的个数是 $\triangle$ 的( )倍。

$\bigcirc$ 和 $\triangle$ 的倍数关系用除法算式表示是( )。

二、按要求画一画。(每小题 2 分,共 4 分)

1. 下面哪种是平均分? 在下面的括号里画“ $\checkmark$ ”。



( )

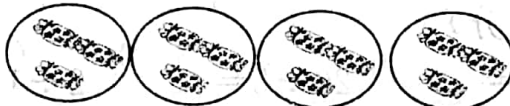


( )

2. 把 12 块糖平均分给 4 个小朋友。在正确的分法后面画“ $\checkmark$ ”。



( )



( )



( )

三、在  $\square$  里填上合适的数。(6 分)

$$\square \times 5 = 20$$

$$36 \div \square = 6$$

$$4 \times \square = 12$$

$$18 \div \square = 3$$

$$3 \times 3 = \square \div \square$$

$$12 \div 2 = \square \times \square$$

四、( ) 里最大能填几?(4 分)

$$(\quad) \times 6 < 20 \quad 5 \times (\quad) < 22 \quad 4 \times (\quad) < 26 \quad (\quad) \times 5 < 12$$

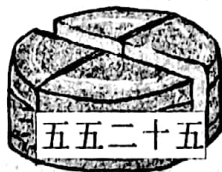
五、连一连。(4 分)

$$5 \times 5$$

$$4 \times 6$$

$$3 \times 5$$

$$25 \div 5$$



$$24 \div 4$$

$$15 \div 5$$

$$15 \div 3$$

$$5 \times 3$$



## 六、按要求做题。(26 分)

### 1. 填表。(6 分)

被除数	36		8	12	15	18
除数	6	3			5	
商		5	4	2		3

### 2. 算一算。(8 分)

2	$\times 5$	
3		
4		
5		

12	$\div 6$	
24		
30		
36		

### 3. 直接写出得数。(12 分)

$16 \div 4 =$	$3 \times 3 =$	$20 \div 5 =$	$2 \div 1 =$
$2 \times 2 =$	$5 \times 1 =$	$18 \div 3 =$	$8 \div 2 =$
$15 \div 5 =$	$10 \div 2 =$	$3 \times 1 =$	$6 \div 2 =$



快乐提能力

## 七、生活中的数学。(3+8+6+7+8=32 分)

1. (3 分) 小红带了 15 元去商店买东西, 面包 3 元一个。小明带的钱可以买多少个面包?


### 2. 小刺猬分苹果。(8 分)

(1) 平均分给 5 只小刺猬, 每只小刺猬可以分到( )个。

$$\square \bigcirc \square = \square (\text{个})$$

(2) 平均分给 4 只小刺猬, 每只小刺猬可以分到( )个。

$$\square \bigcirc \square = \square (\text{个})$$



(3) 平均分给 6 只小刺猬, 每只最多分( )个, 还剩( )个。

### 3. (6 分)

(1) 一共有多少桃子? (2 分)



$$\square \bigcirc \square = \square (\text{个})$$

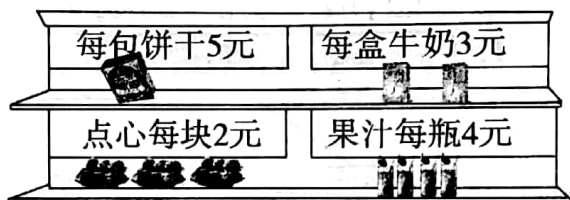
(2) 把上面的桃子平均分给丫丫、亮亮、红红和聪聪, 每人能分到几个? (2 分)

$$\square \bigcirc \square = \square (\text{个})$$

### 4. 购物。(7 分)

(1) 20 元钱可以买几包饼干?

$$\square \bigcirc \square = \square (\text{包})$$



(2) 亮亮买了一种食物, 正好花了 12 元, 他可能买了什么? 买了多少? (至少写出两种)

### 5. (8 分)



菊花  
每枝2元



玫瑰  
每枝4元



康乃馨  
每枝6元



郁金香  
每枝5元

(1) 买 5 枝玫瑰需要多少元?

$$\square \bigcirc \square = \square (\text{元})$$

(2) 买 1 枝郁金香和 2 枝康乃馨, 一共需要多少元?

(3) 你还能提出什么问题?

