



第一周测试卷

【测试内容:观察物体】



数学 (JJ) 二年级 (上)

时间: 60 分钟

满分: 100 分

题号	一	二	三	四	五	六	七	总分
得分								



轻松练基础

一、仔细观察,填一填。(20 分)

1. () 看到的是




() 看到的是



() 看到的是

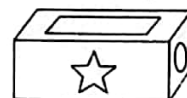


2. 下面的图形分别是谁看到的? 在括号里填上他们的名字。



3. 快递叔叔给小白兔送来了一个快递盒,小白兔拿在手里,仔细观察,请帮它填一填。

(1) 从前面看到的面上有 () 图案。



(2)从侧面看到的面上有()图案。

(3)从上面看到的面上有()图案。

二、判断题。(对的打“√”,错的打“×”)(8分)

1.从正方体的前面,侧面和上面观察,看到的都是正方形。()

2.从正面看长方体得到的图形一定是长方形。()


3.从不同的位置观察球得到的图形都是圆。()

4.  小丽看到的是  ()

三、认真细心,选一选。(将正确答案的序号填在括号里。)(10分)


1.小红看到的图是()。




2.  如左图所示,从该图上面看,看到的图形是()。






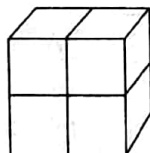
B. ○



3.  是()看到的。



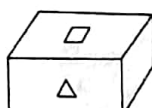
4.从侧面看到的图形是()。


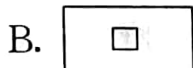


A

B

C

5.  该图从前面看,看到的图形是(),从上面看,看到的图形是()。




四、连一连。(26 分)


1. 下图分别是谁看到的？连一连。(6 分)



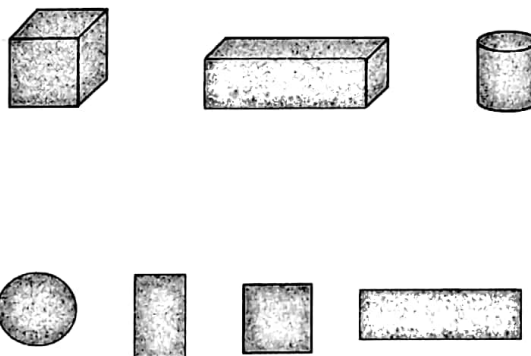
2. 请找出下面四幅图分别是哪位同学看到的。(8 分)



3. 下面两个图形分别是谁看到的？连一连。(16 分)



4. 从正方体、长方体和圆柱的正面分别可以看到什么图形？连一连。(6 分)



五、看图回答问题。(12 分)

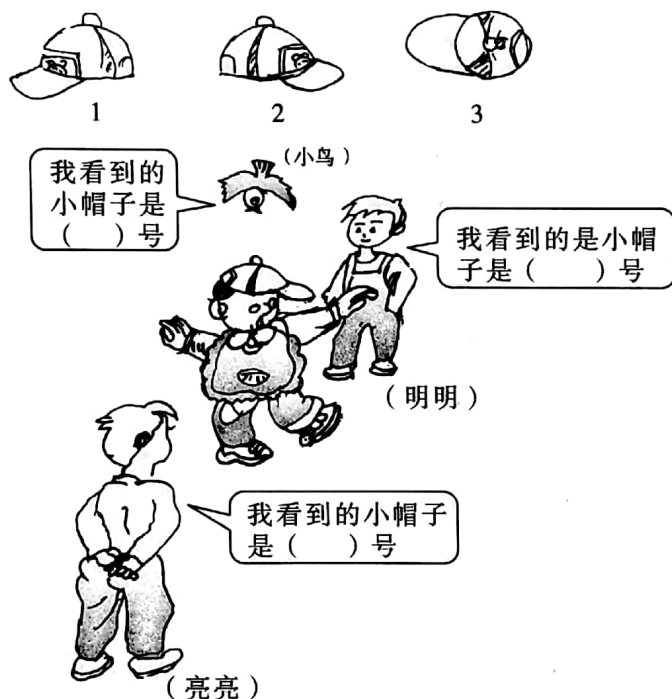


1. () 在汽车的前面, () 在汽车的后面, () 在汽车的侧面。
2. () 只能看见汽车的后面, 而看不见车头。
3. () 看不见汽车的后面。
4. () 可以看见汽车身体的一侧。



快乐提能力

六、下图是聪聪的小帽子, 说一说小鸟、明明、亮亮看到的小帽子分别是几号。(12分)



七、请你打扮一下长方体杂物箱吧! 在和底面相对的面上画一朵花, 在和后面相对的面上画一个星星, 侧面画一个月亮。(12分)

