

第三单元 辨认方向

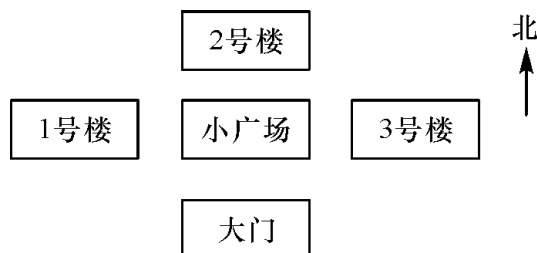
东、南、西、北

第 1 课时 在图上辨认东、南、西、北

每课一练

基础训练

1. 地图上通常是按上()、下()、左()、右()绘制的。
2. 晚上当你面对北极星,你的后面是()方,你的右面是()方,你的左面是()方。
3. 确定一个方向的方法有()、()等。
4. 看小区平面图,回答下列问题。




- (1) 1号楼在小广场的()面。
- (2) 2号楼在小广场的()面。
- (3) 3号楼在小广场的()面。
- (4) 大门在小广场的()面。
5. 看图填空。



森林学校的北面是()家,南面是()家,东面是()家,西面是()家。

拓展提高

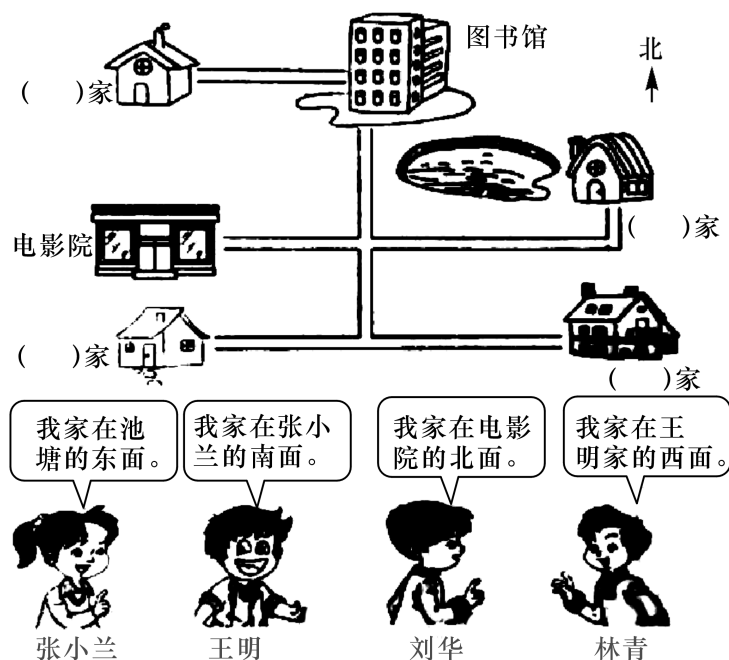
6. 看图填空。



- (1) 小松鼠住在小兔的西面,小猫住在小兔的()面。
- (2) 小鹿住在小兔的()面,小兔住在小鹿的()面。
- (3) 小狗住在小熊的()面,小熊住在小狗的()面。
- (4) 小猫住在小狗的()面。

发散思维

7. 他们的家各在哪里!



第2课时 在生活中辨认东、南、西、北

 每课一练

基础训练

1. 填空。

(1) 小红面向东方,她向左转 90 度,这时她面向()。

(2) 北相对的方向是(),西相对的方向是()。

(3) 燕子冬天从()方迁到()方。

2. 选择。

(1) 太阳()是东升西落。

A. 一定

B. 不一定

C. 不会

(2) 与北极星相对的方向是()。

A. 东

B. 南

C. 西

(3) 小明座位的南面是张强的座位,那小明在张强的()方。

A. 东

B. 南

C. 北

(4) 三级年一班教室的黑板在教室的西面,那么老师讲课时面向()面。

A. 东

B. 西

C. 南

3. 判断。

(1) 人的影子在西方,太阳应在东方。()

(2) 和西相对的方向是北。()

(3) 在森林中可以利用树叶的疏密来识别方向。()

(4) 面对早晨的太阳,你的右手边是南方。()

4. 认方向。



(1) 学校在书店的()面,在超市的()面。

(2) 书店在学校的()面,超市在学校的()面。

(3) 邮局在学校的()面,小明家在学校的()面。

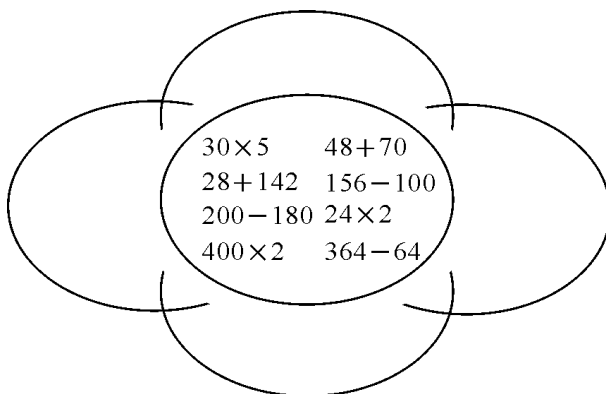
5. 按要求画图形,并填一填。

		○
	☆	

- (1) ⊗ 在 ☆ 的东面画。
- (2) ⊗ 在 △ 的北面画。
- (3) ○ 在 □ 的东面画。
- (4) ⊗ 在 △ 的()面。
- (5) ○ 在 □ 的()面。

拓展提高

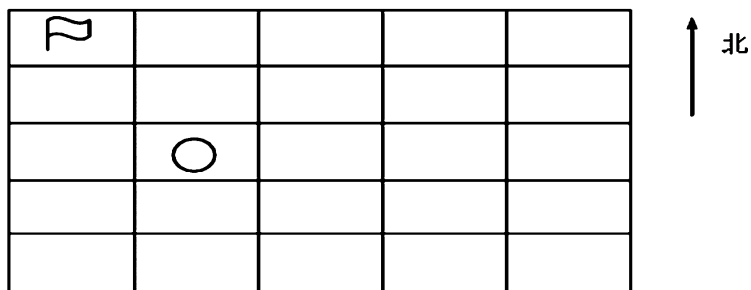
6. 算一算,分分类。



- (1) 把得数小于 50 的写在西面。
- (2) 把得数在 50~100 的写在东面。
- (3) 把得数在 100~200 的写在北面。
- (4) 把得数在 200 以上的写在南面。

发散思维

7.



○怎么走会与🚩会合,有几种走法? 怎么走的?