

# 第八、九单元综合评估卷

时间:90 分钟

总分:100 分

题号	一	二	三	四	五	六	七	总分
得分								

## 一、我是填空小高手! (9 分)

1. 把一根绳子平均分成 11 份,一份是它的( );如果把这根绳子平均分成( )份,那么每份是它的 $\frac{1}{6}$ ,3 份是它的( )。
2.  $\frac{3}{5}$  里面有( )个 $\frac{1}{5}$ ,再添上( )个 $\frac{1}{5}$ 就等于 1。
3. 在 $\frac{2}{10}, \frac{5}{10}, \frac{7}{10}$ 中,最大的分数是( ),最小的分数是( )。
4. 把一条绳子对折后再对折,每段是这条绳子的( )。
5. 一盘桃子有 4 个,吃了 $\frac{1}{4}$ ,还剩( )个。

## 二、吃苹果。(6 分)

苹果里最大能填几?



$$\frac{5}{8} > \frac{\text{苹果}}{8}$$

$$\frac{\text{苹果}}{7} < \frac{4}{7}$$

$$1 > \frac{\text{苹果}}{9}$$

$$\frac{1}{5} + \frac{\text{苹果}}{5} < 1$$

$$\frac{5}{6} - \frac{\text{苹果}}{6} > \frac{2}{6}$$

$$1 - \frac{\text{苹果}}{9} > \frac{4}{9}$$

## 三、我是小神算。(12 分)

看谁算得又对又快。



$$\frac{2}{4} + \frac{1}{4} =$$

$$\frac{3}{9} + \frac{4}{9} =$$

$$\frac{4}{10} - \frac{1}{10} =$$

$$\frac{5}{8} - \frac{2}{8} =$$

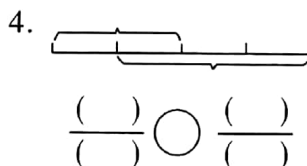
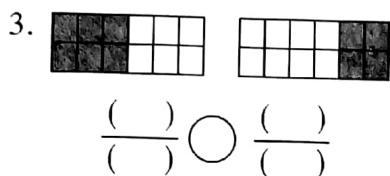
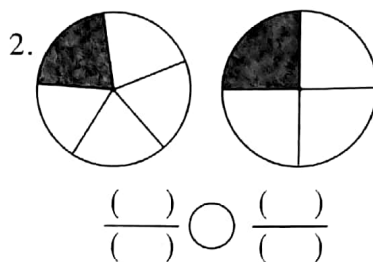
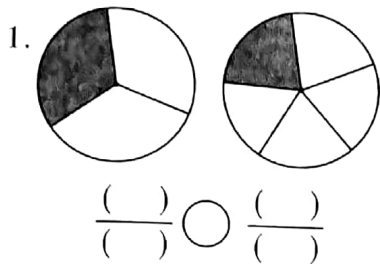
$$\frac{6}{7} - \frac{1}{7} =$$

$$1 - \frac{3}{5} =$$



扫描全能王 创建

四、看图填分数,比大小。(12分)

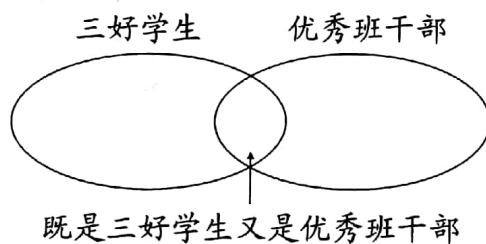


五、将获奖名单填在相应的圈里。(8分)

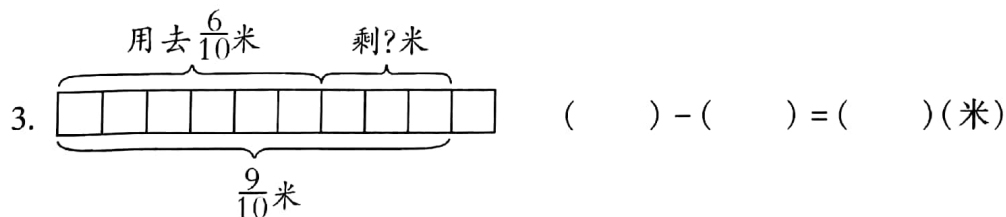

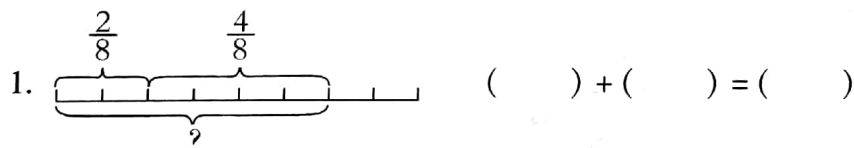
李林、赵雪、刘畅、  
李敏、王倩被评为  
三好学生。



周明、侯风、赵  
雪、李林被评为  
优秀班干部。

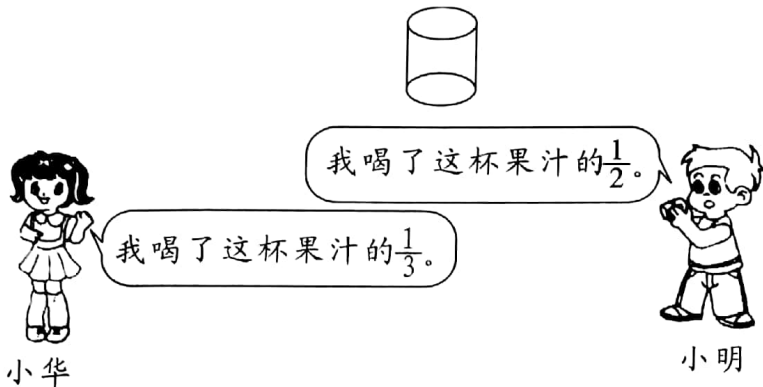


六、看图列式计算。(12分)

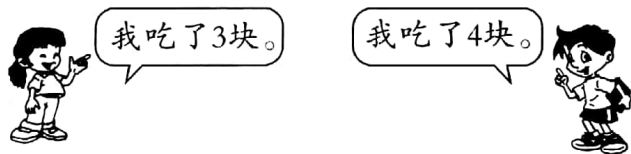


七、走进生活。(41分)

1. 谁喝得多?(5分)



2. 一个月饼平均分成了8块,下面两个小朋友共吃了这个月饼的几分之几?(5分)



3. 学校举行春季运动会。(6分)



参加比赛的一共有多少人?



4. 修公路。(9分)

修一条路，第一天修了全长的 $\frac{1}{9}$ ，第二天修了全长的 $\frac{2}{9}$ 。第一天和第二天共修了全长的几分之几？



第二天比第一天多修了全长的几分之几？



还剩下全长的几分之几没有修？



5. (8分)



小猴子

我吃了这些香蕉的 $\frac{1}{6}$ 。



我吃了这些香蕉的 $\frac{1}{4}$ 。



大猴子

(1) 它们分别吃了多少根香蕉？

(2) 谁吃得更多？

6. 同学们排队做操，每行人数同样多，小明的位置从左数是第4个，从右数是第3个，从前数是第5个，从后数是第6个，做操的同学共有多少人？(8分)

