

第七单元综合评估卷

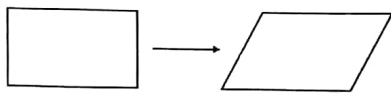
时间:90 分钟

总分:100 分

题号	一	二	三	四	五	六	总分
得分							

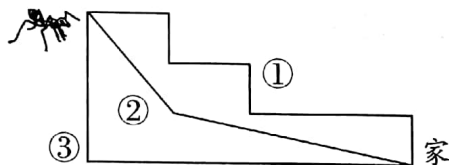
一、快乐选择 A、B、C。(10 分)

1. 将一个长方形框架拉成一个平行四边形框架(如下图),两个图形的周长相比较,()。



- A. 长方形的周长长 B. 平行四边形的周长长 C. 一样长

2. 蚂蚁要回家,选()号路线最近。

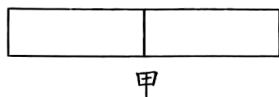


- A. ① B. ② C. ③

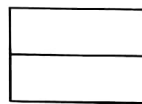
3. 把一个正方形分成两个三角形,两个三角形的周长之和()正方形的周长。

- A. 大于 B. 小于 C. 等于

4. 用两个同样大小的长方形,分别拼成如下图所示的两个长方形,周长比较长的是()。




甲



乙

- A. 甲图 B. 乙图 C. 一样

5.  甲、乙两图的周长相比较,()。



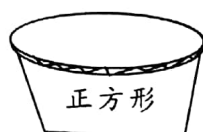
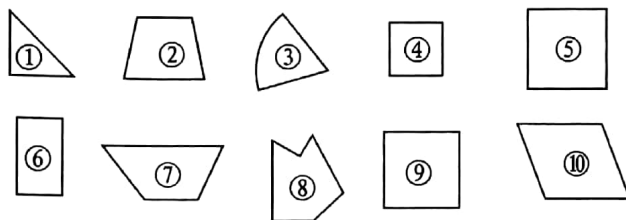
- A. 甲 > 乙 B. 乙 > 甲 C. 甲 = 乙



扫描全能王 创建

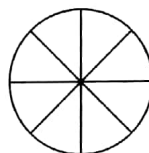
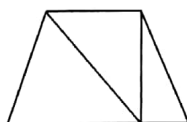
二、图形们要回家！（9分）

把代表图形的序号填在相应的篮子里。



三、我来涂一涂。（9分）

用彩色笔勾出下列图形的周长。

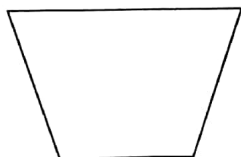


四、画一画。（12分）

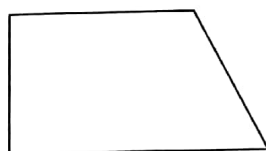
1. 在下面点阵图中画一个长方形和一个平行四边形。



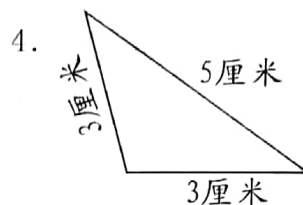
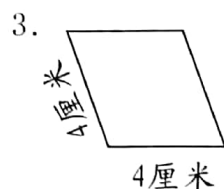
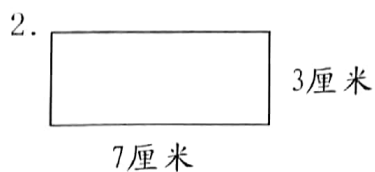
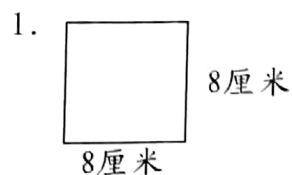
2. 加一笔，使下图变成一个三角形和一个平行四边形。



3. 加一笔，使下图变成一个正方形和一个四边形。




五、看图计算下面各图的周长。(12 分)

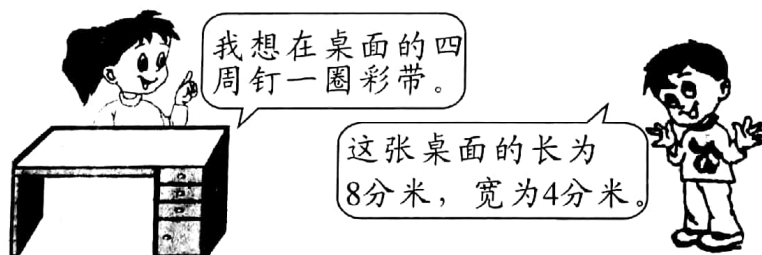


六、走进生活。(48 分)

1. 一张方桌,桌面的边长为 90 厘米。如果在桌面周围镶上花边,那么花边长多少厘米?



2.



请你帮忙算一算,至少需要买多少分米的彩带?



3.

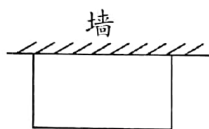


一个长方形水池，它的长是16米，宽是长的一半。

它的宽是多少米？
周长是多少米？



4. 王奶奶想围一个长4米，宽3米的长方形鸡圈，现在要在鸡圈四周围上篱笆。



如果鸡圈一面靠墙，那么至少需要多长的篱笆？



5. 爸爸用一根铁丝正好围成一个长12厘米，宽8厘米的长方形，后来把它改成一个正方形。

这个正方形的边长是多少？



6. 下图中大正方形的周长是24厘米，小正方形的周长是12厘米。这两个正方形拼成的图形的周长是多少？

