

# 第四单元综合评估卷

时间:90 分钟

总分:100 分

题号	一	二	三	四	五	六	七	总分
得分								

## 一、小动物回家! (直接写出得数)(9 分)



$$\begin{aligned} 172+22= \\ 560-60= \\ 240+260= \end{aligned}$$








$$\begin{aligned} 350-240= \\ 603+97= \\ 890-400= \end{aligned}$$



$$\begin{aligned} 1000+340= \\ 270-160= \\ 250+650= \end{aligned}$$



## 二、小兔子吃萝卜。(连一连)(6 分)



## 三、吃水果。(12 分)




164

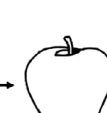
+125



-36



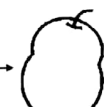
+192



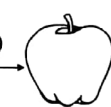
-268



-84



+259



扫描全能王 创建

#### 四、送小动物回家。(6分)



$725 - 625 \bigcirc 101$

$540 + 780 \bigcirc 1220$

$452 + 245 \bigcirc 700$

$718 - 395 \bigcirc 320$

$196 + 254 \bigcirc 450$

$395 - 178 \bigcirc 230$

#### 五、列竖式计算并验算。(18分)

$285 + 78 =$

$713 - 256 =$

$415 - 239 =$

$496 + 530 =$

$328 - 319 =$

$543 + 389 =$

#### 六、将表格填写完整。(6分)

小兰家、小山家和小飞家7月份的用电情况如下表：

(单位：千瓦时)

	6月底读数	7月底读数	实用电数
小兰家	663	756	
小山家	308		92
小飞家		940	115

#### 七、走进生活。(43分)

##### 1. 电器卖场进行店庆促销活动。(8分)



原价：330元

现价：264元



405元

298元



270元

165元



955元

764元

(1) 哪种商品的降价幅度最大？



(2) 上面每种商品现在的价格比原来便宜多少钱?




降价( )元



降价( )元



降价( )元



降价( )元

2. (4 分)



三年级有男生121人，  
女生比男生少25人。

三年级共有学生多少人?



3. (4 分)



一捆电线长861米，  
先用去156米，又  
用去259米。

这捆电线比原来  
短了多少米?



4.



我们学校有男生376  
人，女生324人。

已经注射疫苗  
的有498人。



没有注射疫苗的有多少人? (5 分)



5. 根据下面的信息解决问题。(12 分)

种类	童话书	科普读物	文学作品
数量/本	189	378	285

(1) 书架上最多能摆 900 本图书,估一估,书架上能摆下这三类图书吗?

(2) 科普读物和文学作品一共有多少本?

(3) 你还能提出其他数学问题并解答吗?

6. 某自然保护区内栖息的鸟类共 265 种,海洋性水生动物比鸟类多 153 种,淡水鱼类比鸟类少 157 种。(10 分)

(1) 根据题中的已知条件,请你提出一个数学问题并解答。

(2) 做完这道题,你有什么感受?

