

## 第五、六单元综合评估卷

时间:90 分钟

总分:100 分

题 号	一	二	三	四	五	总 分
得 分						

### 一、我是填空小高手。(18 分)

- 0 和任何数相乘都得( )。
- 乘数末尾有 0 的乘法可以先把( )相乘,然后看乘数末尾有( )个 0,就在乘得的( )的末尾添上( )。
- 估算  $32 \times 8$  时,把 32 看作( ),再乘 8,结果得( )。
- $180 \times 5$  的积的末尾有( )个 0。
- $$\begin{array}{r} \square 54 \\ \times \quad 3 \\ \hline \end{array}$$
 如果积是四位数, $\square$ 里最小可能填( )。
- 有两个数相乘的积是 240,和是 46,这两个数是( )和( )。
- 括号里最大能填几?
 

$16 > ( ) \times 5$	$6 \times ( ) < 23$	$19 > ( ) \times 5$
$7 \times ( ) < 35$	$40 > ( ) \times 7$	$4 \times ( ) < 23$
- 小兔子有 4 根萝卜,兔妈妈的萝卜给小兔子 5 根后,是小兔子的 3 倍。兔妈妈原来有( )根萝卜。

### 二、快乐选择。(10 分)

- 求 8 的 9 倍是多少,用( )计算。
 

A. 乘法	B. 减法	C. 除法
-------	-------	-------
- 白粉笔是红粉笔的 5 倍,红粉笔有 5 盒,白粉笔有( )盒。
 

A. 25	B. 10	C. 15
-------	-------	-------
- 停车场卡车的辆数是客车的 6 倍,卡车有 36 辆,客车有( )辆。
 

A. 42	B. 30	C. 6
-------	-------	------



4. 书架上有故事书 9 本,连环画 27 本,连环画的本数是故事书的几倍? 列式为( )。

A.  $27 \times 9$

B.  $27 \div 9$

C.  $27 + 9$

5. 某校三年级有男生 140 人,每人搬 5 把椅子,一共搬了( )把椅子。


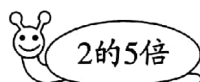


A. 700

B. 190

C. 7000

### 三、找朋友。(9 分)

1.



2.

$39 \times 8$

$591 \times 4$

$364 \times 3$

$302 \times 6$

$690 \times 9$

1092

1812

312

6210

2364

### 四、计算。(24 分)

1. 直接写出得数。

$4 \times 80 =$

$201 \times 3 =$

$600 \times 5 =$

$2 \times 210 =$

$0 \times 78 =$

$507 \times 2 =$

$450 \times 2 =$

$65 \times 3 =$

$202 \times 4 \approx$

$901 \times 3 \approx$

$304 \times 5 \approx$

$398 \times 4 \approx$



2. 列竖式计算。

$208 \times 4 =$

$105 \times 3 =$

$604 \times 9 =$


$350 \times 7 =$

$674 \times 7 =$


$468 \times 5 =$

### 五、走进生活。(39 分)

1. 一个皮球 8 元,一只玩具熊的价格是皮球的 3 倍,一只玩具熊多少元?(5 分)

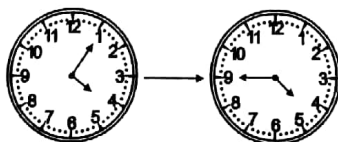


2.



参加乒乓球小组的有多少人?(6 分)

3. 小明读一本科普杂志,他开始读的时间和刚好读完的时间分别如下图。如果他 8 分钟读了 5 页。照这样计算,这本杂志一共多少页?(6 分)



4. 上周小明一家三口共节约用水 42 千克,照这样计算,他们家一个月(按 30 天计算)可以节约用水多少千克?(6 分)

5. 学校组织植树活动,4 名同学植 16 棵树。(8 分)

(1)照这样计算,6 名同学可以植多少棵树?



(2)计划植树 36 棵树,一共需要几名同学?

6. 坐客车。(8 分)



大客车的座位  
是小客车的3倍。



(1)大客车能坐多少人?

(2)现在有 112 名乘客,怎么坐最合理?

