

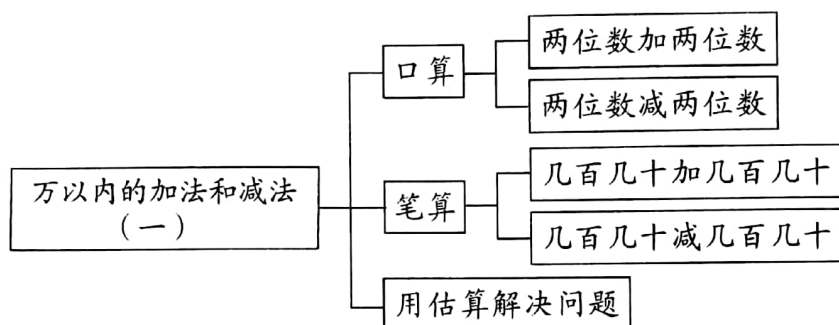
## 第二单元考点梳理集训卷

时间:60 分钟

总分:100 分

题号	一	二	三	四	五	六	七	八	九	十	十一	总分
得分												

### 考点图解



### 考点梳理

#### 1. 两位数加、减两位数的口算

(1) 两位数加两位数的口算方法:

方法一:先把\_\_\_\_\_和\_\_\_\_\_相加,\_\_\_\_\_和\_\_\_\_\_相加,再把两个和\_\_\_\_\_。

方法二:把第二个加数分成\_\_\_\_\_和\_\_\_\_\_,先算两位数加\_\_\_\_\_,再用和加上余下的一位数。

(2) 两位数减两位数的口算方法:

方法一:把减数分成一个\_\_\_\_\_和一个\_\_\_\_\_,先用被减数减\_\_\_\_\_,再减\_\_\_\_\_。或者先用被减数减一位数,再减整十数。

方法二:对于不退位的减法,分别把十位和个位上的数\_\_\_\_\_,再把差加起来。

#### 2. 几百几十加、减几百几十的笔算

(1) 几百几十加几百几十的笔算方法:

相同数位\_\_\_\_\_,从\_\_\_\_\_位加起,如果十位上的数相加满十,要向百位\_\_\_\_\_。



扫描全能王 创建

(2) 几百几十减几百几十的笔算方法:

相同数位\_\_\_\_\_,从\_\_\_\_\_位减起,如果十位上的数不够减,就从\_\_\_\_\_退1,  
在十位上加\_\_\_\_\_再减。

### 3. 用估算解决问题

先把三位数看成与它接近的\_\_\_\_\_数或\_\_\_\_\_数,再计算。估算的方法很多,要根据实际情况判断结果的合理性。


## 考 题 集 训


### 考点一 两位数加、减两位数的口算及应用

#### 一、(重点题)直接写得数。(12分)

$41 + 33 =$	$32 + 24 =$	$58 + 11 =$	$34 + 47 =$
$65 - 34 =$	$72 - 51 =$	$89 - 63 =$	$96 - 25 =$
$37 + 45 =$	$39 + 46 =$	$76 - 67 =$	$70 - 34 =$

#### 二、(难点题)夺旗。(10分)

1.  $20 \xrightarrow{+25} \square \xrightarrow{-28} \square \xrightarrow{+19} \square \xrightarrow{-16} \square \xrightarrow{+59} \square$  

2.  $49 \xrightarrow{-26} \square \xrightarrow{+35} \square \xrightarrow{-34} \square \xrightarrow{+18} \square \xrightarrow{-29} \square$  

#### 三、(变式题)填一填。(8分)

$25 + \text{枫叶} = 58$        $63 - \text{枫叶} = 36$        $\text{枫叶} - 25 = 56$        $\text{枫叶} + 29 = 73$

#### 四、(难点题)在○里填上“>”“<”或“=”。(8分)

$26 + 17$  ○  $17 + 26$        $80 - 43$  ○  $80 - 53$

$45 - 17$  ○  $25 + 18$        $62 - 19$  ○  $43 + 18$

#### 五、相碰先求和,再求差。(6分)



和: \_\_\_\_\_  
差: \_\_\_\_\_



和: \_\_\_\_\_  
差: \_\_\_\_\_



和: \_\_\_\_\_  
差: \_\_\_\_\_



## 六、逛商店。(8分)



59元/架



16元/把



85元/辆

1. 买一把伞和一架玩具飞机需要付多少钱?

2. 一辆玩具汽车比一把伞贵多少钱?

## 考点三 几百几十加、减几百几十的笔算及应用

### 七、填空。(10分)

1. 比420多200的数是( ),这个数减去320,差是( )。

2. 270比720少( )。

3. 640与280的和是( ),这个和减去340,差是( )。

### 八、(辨析题)改错。(8分)

$$\begin{array}{r} 170 \\ + 560 \\ \hline 630 \end{array}$$

改正:

$$\begin{array}{r} 910 \\ - 780 \\ \hline 230 \end{array}$$

改正:

### 九、(生活运用题)分苹果。(5分)

幼儿园有男生170人,女生160人。



每人分一个苹果,够吗?



十、购物。(15 分)



198元



879元



585元



349元

1. 买一部照相机和一辆自行车,大约需要多少钱?

2. 一台冰箱比一部照相机大约贵多少钱?

3. 请你再提出一个数学问题,并解答。

十一、买家具。(10 分)



98元/把



272元/张



586元/个

1. 买一个衣柜比买一张桌子大约要多花多少钱?

2. 爸爸有 400 元,买一把椅子和一张桌子够吗?

