

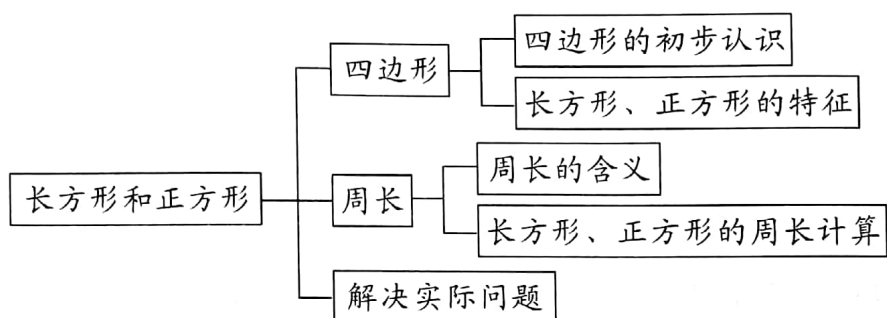
第七单元考点梳理集训卷

时间:60 分钟

总分:100 分

题号	一	二	三	四	五	总分
得分						

→ 考 点 图 解



→ 考 点 梳 理

1. 四边形

由 4 条直的边围成的,有 4 个角的封闭图形。

2. 长方形和正方形

(1) 长方形的特点:对边_____,4 个角都是_____;

(2) 正方形的特点:4 条边都_____,4 个角都是_____。

3. 周长

(1) 封闭图形一周的长度,是它的_____。

(2) 测量周长的方法:_____、_____、_____等。

4. 长方形的周长

长方形的周长 = _____。

5. 正方形的周长

正方形的周长 = _____。

6. 解决问题

用相同的小正方形拼长方形或正方形时,拼成的图形越接近_____,拼成图形的周长越短。



扫描全能王 创建

考点一 四边形、长方形和正方形的特征

一、(重点题)画一画。(24分)

1. 在四边形的下面画“√”。



()



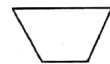
()



()



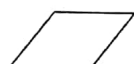
()



()



()



()



()



()



()

2. 在正方形的下面画“○”,在长方形的下面画“△”。



()



()




()



()



()



()




()

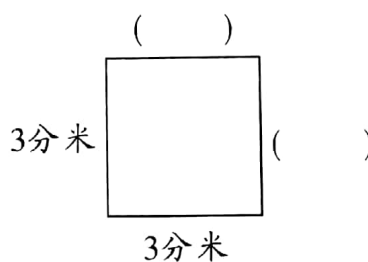
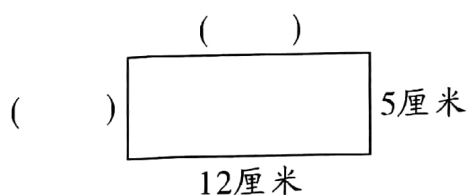


()

3. (变式题)在下面的点子图上画一个长方形和一个正方形。



二、(考试真题)填一填。(8分)

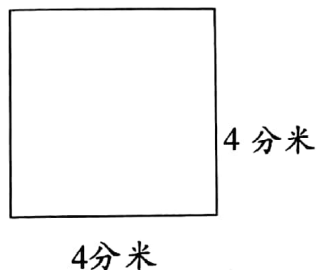
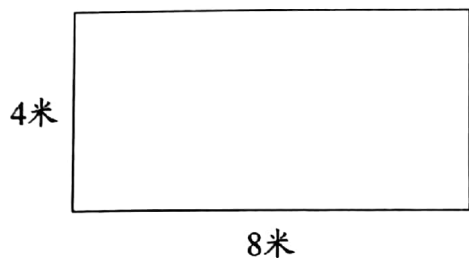


考点二 长方形和正方形的周长

三、填一填。(8分)

1. 长方形的周长 = (长 + 宽) \times _____。
2. 正方形的周长 = () $\times 4$ 。
3. 一个正方形的周长是 36 厘米,它的边长是()厘米。
4. 一块长方形的台布,长是 2 分米,宽是 12 厘米,它的周长是()厘米。

四、(重点题)求下列图形的周长。(12分)



考点三 解决问题

五、解决问题。(48分)


1. 一块正方形台布,边长是 8 分米,要在它四周绣上花边,花边长多少分米?
2. 王叔叔每天围着长 400 米、宽 200 米的长方形操场跑 2 圈。王叔叔每天跑多少米?



3. 中国国家博物馆的大清受命之宝(清二十五宝之一)玉玺的印面为正方形,边长是14厘米,印面的周长是多少?

4. (操作题)用两个边长是2分米的正方形拼成一个长方形,这个长方形的周长是多少分米?

5. (生活运用题)把下面的长方形花池围上护栏,护栏一共长多少米?



6. (创新题)有两根同样长的铁丝,一根正好围成一个边长是9厘米的正方形,另一根正好围成一个长是11厘米的长方形。这个长方形的宽是多少?

