





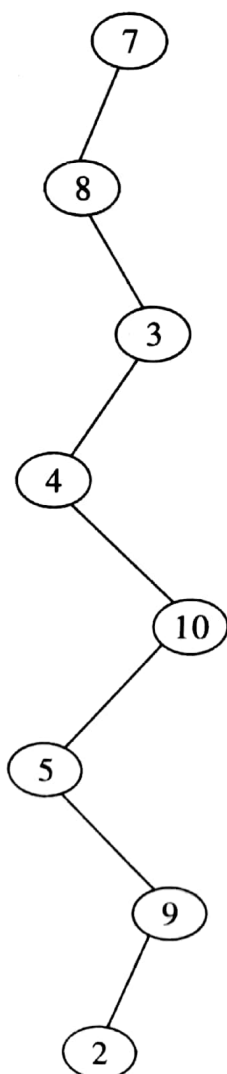

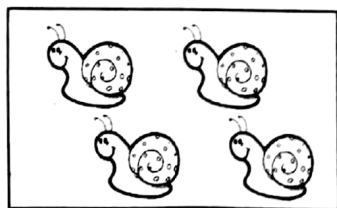


一年级数学第一学期第一次月考调研卷

测试内容：第一、二单元

时间：60 分钟 总分：100 分

题号	一	二	三	四	五	六	七	总分
得分								


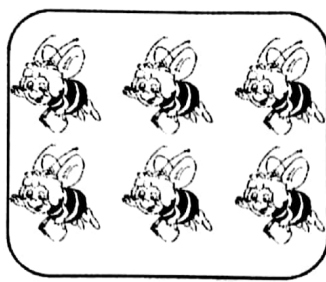

一、连一连。(16 分)



扫描全能王 创建

二、按要求圈一圈。(15 分)

1. 数一数,涂圆圈。




2. 看图圈一圈。

平平的(左、右)手拿着苹果,
(左、右)手拿着气球。




三、我来涂一涂。(20 分)

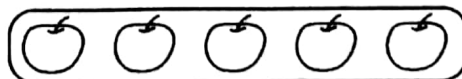
1. 给数量最多的涂上蓝色,给数量最少的涂上红色。(8 分)




2. 把被吃的食物涂上你喜欢的颜色。(12 分)





我想吃3个 .



我想吃4条 .




我想吃6个 .




四、森林大会，圈出正确的答案。(12 分)

1. 这里一共有(6 7 8)只动物在开会。

2.  (前 后)面的动物的号码是⑥。

3. 号码是⑤的动物在 的(上 下)面。




五、小猴过生日，小动物们来祝贺。数一数，画一画，用“☆”表示出它们的数量。


(12 分)





小动物们团结友爱，
动物家庭真温暖！



















 : _____

 : _____

 : _____

 : _____

六、在点数最多的一格后面的()里面画“√”。(5 分)

				()
				()
				()
				()

你会数吗？



扫描全能王 创建

七、解决问题。(20分)

1. 有2只熊猫,2堆竹笋,如果每只熊猫吃2棵竹笋,选哪一堆合适? 请你把它圈起来。(4分)



2. 我的小书柜。(12分)



 在  的 () 边;

 在  的 () 面;

 在  的 () 面;

 在  的 () 面;

 在  的 () 面;

 在  的 () 面。

3. 做客。(4分)



强强, 星期天来我家看动画片吧。我家在楼梯右边。



我也想看, 强强, 你先到我家叫上我, 然后我们一起去。我家在楼梯左边。



强强应该先到()号房间,再到()号房间。



扫描全能王 创建