




密

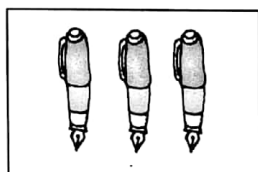
题号	一	二	三	四	五	六	七	八	九	十	总分
得分											





kàn tú xiě shù

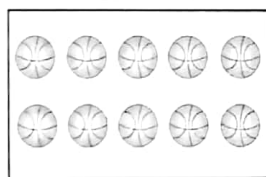
一、看图写数。(8分)

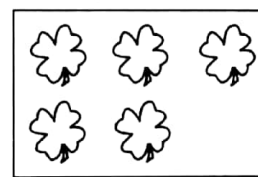


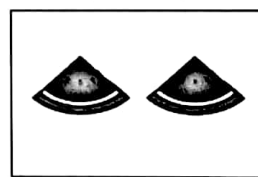










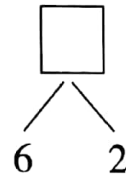
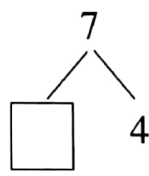
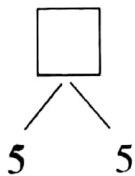
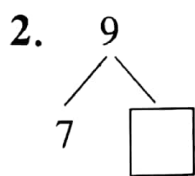




tián kòng

二、填空。(31分)

1. 0 1 2 () () () 6 7 () 9 ()



3. 在 1、3、0、9、5、7 中最大的数是(),最小的数是()。从右往左数,第 2 个数是();从左往右数,0 排在第()位;如果从()往()数,9 排在第()位。

4. 在下面的○里填上“>”、“<”或“=”。

4 ○ 5

5 + 2 ○ 7

10 ○ 0

8 ○ 2



封

线

$3-2 \bigcirc 1$


$4+4 \bigcirc 4$




$5-5 \bigcirc 1$





$6-5 \bigcirc 5$

$8-5 \bigcirc 1+3$

$4+2 \bigcirc 8-2$



(1)  有 () 个,  有 () 个,  有 () 个。

(2)  比  多 () 个,  比  少 () 个。

bǐ yì bǐ

三、比一比。(4分)

1. 哪条绳子长? 在长的下面画“√”。



()



()

2. 在轻的后面画“√”。



()



()

zhǎopéngyǒu

四、找朋友。(6分)



$10-5$



$6-0$



$9-2$



$10-6$



$3+4$



$2+3$



$4+0$







$2+4$



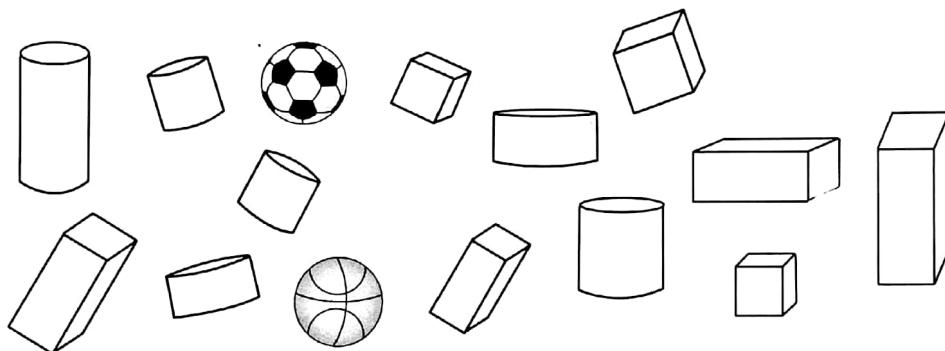
kāi huǒ chē

五、开火车。(8分)



wǒ rèn tú xíng wǒ lái shǔ

六、我认图形、我来数。(6分)



上面有()个正方体,有()个长方体,

有()个圆柱,有()个球。

圆柱比球多()个。

长方体和正方体一共有()个。

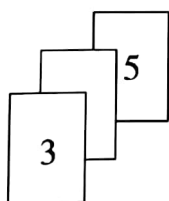
kǎ piàn shàng de shù zì àn

de shùn xù pái liè cāi yì cāi cáng qǐ lái de shù zì

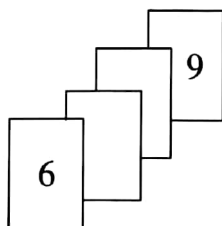
七、卡片上的数字按1~10的顺序排列,猜一猜,藏起来的数字

shì jǐ xiě zài tí zhōng de kuò hào nèi

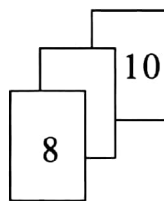
是几? 写在题中的括号内。(8分)



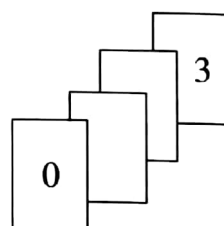
()



()



()



()

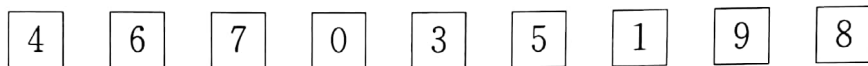




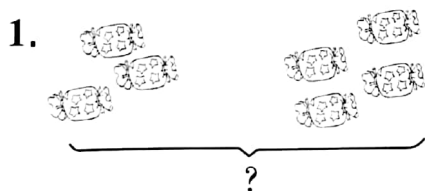
bǎ xià miàn de suàn shì àn cóng dà dào xiǎo de shùn xù pái yī pái
八、把下面的算式按从大到小的顺序排一排。(8分)



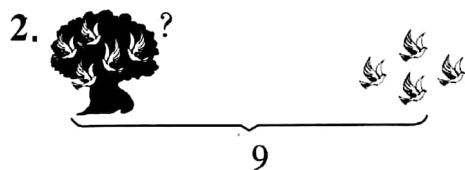
yòng jiǎn qù yòu biān kǎ piàn shàng de shù bìng xiě chū suàn shì
九、用9减去右边卡片上的数，并写出算式。(9分)



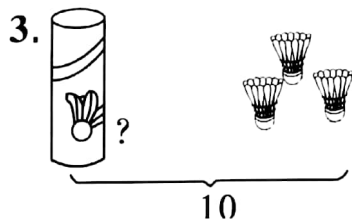
kàn tú liè shì jì suàn
十、看图列式计算。(12分)



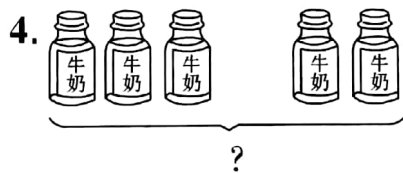
$$\square + \square = \square$$



$$\square + \square = \square$$



$$\square + \square = \square$$



$$\square + \square = \square$$

